

すうじ 1~5

【かきかたのれんしゅう】

😊 めあて：すうじのかきかたをおぼえよう。

● すうじのかきかたをれんしゅうしましょう。

●

↓ 1	1	1	1
--------	---	---	---

● ●

↗ 2	2	2	2
--------	---	---	---

● ● ●

↗ 3	3	3	3
--------	---	---	---

● ● ● ●

① ↓ ② ↓ 4	4	4	4
--------------	---	---	---

● ● ● ● ●

① ↓ ② → 5	5	5	5
--------------	---	---	---



😊 ふりかえり：すうじのかきかたはおぼえられたかな？


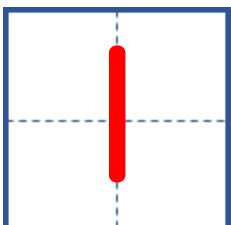
すうじ 1~5

【かぞえかたのれんしゅう】


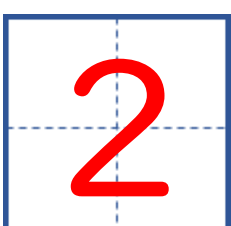
😊 めあて：かずを かぞえられるようになろう。



● なんこ あるかな？ かぞえて みましよう。

  3

  1

  4

  2

  5


😊 ふりかえり：かずは かぞえられたかな？

すうじ 6~10


【かぞえかたのれんしゅう】

😊 めあて：かずを かぞえられるようになろう。


● なんこ あるかな？ かぞえて みましよう。




Counting 7 dinosaurs. A box on the right contains the number 7 on a grid with a vertical dashed line and a horizontal dashed line. A small '2' is written to the right of the box.




Counting 6 teddy bears. A box on the right contains the number 6 on a grid with a vertical dashed line and a horizontal dashed line. A small '2' is written to the right of the box.



Counting 8 penguins. A box on the right contains the number 8 on a grid with a vertical dashed line and a horizontal dashed line. A small '2' is written to the right of the box.



Counting 10 rabbits. A box on the right contains the number 10 on a grid with a vertical dashed line and a horizontal dashed line. A small '2' is written to the right of the box.



Counting 9 ponies. A box on the right contains the number 9 on a grid with a vertical dashed line and a horizontal dashed line. A small '2' is written to the right of the box.

😊 ふりかえり：かずは かぞえられたかな？

すうじ 1~5

【かぞえかたのれんしゅう】

😊 めあて：ばらばらにあるものの かずを かぞえられるようになろう。

● なんこ あるかな？ かずを かぞえて みましょう。

ヒント：しるしをつけながら かぞえると かぞえやすいよ。



4

ほん



3

さつ



1

こ



2

ほん



5

ほん

😊 ふりかえり：かずは かぞえられたかな？


すうじ 6~10


【かぞえかたのれんしゅう】


😊 めあて：ばらばらにあるものの かずを かぞえられるようになろう。


● なんこ あるかな？ かずを かぞえて みましよう。


ヒント：しるしをつけながら かぞえると かぞえやすいよ。




 6 こ

 10 こ

 9 こ

 8 こ

 7 こ

😊 ふりかえり：かずは かぞえられたかな？