

かずをならべよう (1)

😊 めあて：すうじを おおきい じゅんや ちいさい じゅんに ならべよう。

- ちいさい じゅんに すうじが ならんでいます。
あいている ところに すうじを かきましょう。

①

	2	3			6
--	---	---	--	--	---

②

5		7		9	
---	--	---	--	---	--

★チャレンジ!

③

	1			4	5
--	---	--	--	---	---

- おおき いじゅんに すうじが ならんでいます。
あいている ところに すうじを かきましょう。

①

10		8			5
----	--	---	--	--	---

②

8			5		3
---	--	--	---	--	---

★チャレンジ!

③

	4		2		
--	---	--	---	--	--

😊 ふりかえり：じゅんばんに ならべられたかな？



かずをならべよう (2)

😊 めあて：きまりを みつけて、すうじを おおきい じゅんや ちいさい じゅんにならべよう。

● □に あてはまる すうじを かきましょう。

①

2		6		10
---	--	---	--	----

②

	3		7	9
--	---	--	---	---

③

10	8		4	
----	---	--	---	--

④

9		5	3	
---	--	---	---	--

★チャレンジ!

⑤

8			2	
---	--	--	---	--

● どちらの すうじが おおきいかな？ おおきい ほうに ○を しましょう。

① 2 ・ 5

③ 10 ・ 7

② 0 ・ 1

④ 6 ・ 9

😊 ふりかえり：じゅんばんに ならべられたかな？



かずをならべよう (3)


😊 めあて：すうじの まとまりつについて しろう


● すうじの きまりを みつけて、□に すうじを かきましょう。

2	4			10		14	
5	10		20			35	
	20	30		50			80
20	18			12		8	

チャレンジ!

● くふうをして、かずを かぞえましょう。


□


□


□

😊 ふりかえり：まとめて かぞえられたかな？



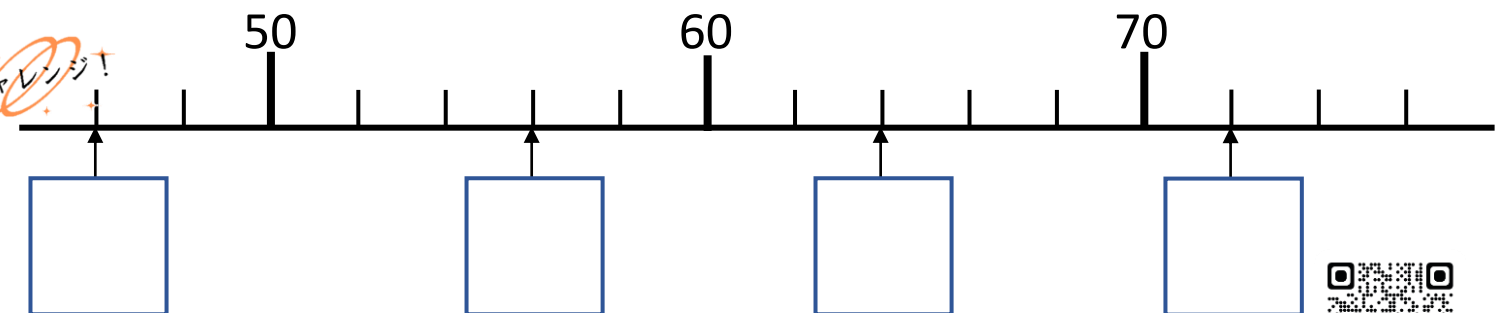
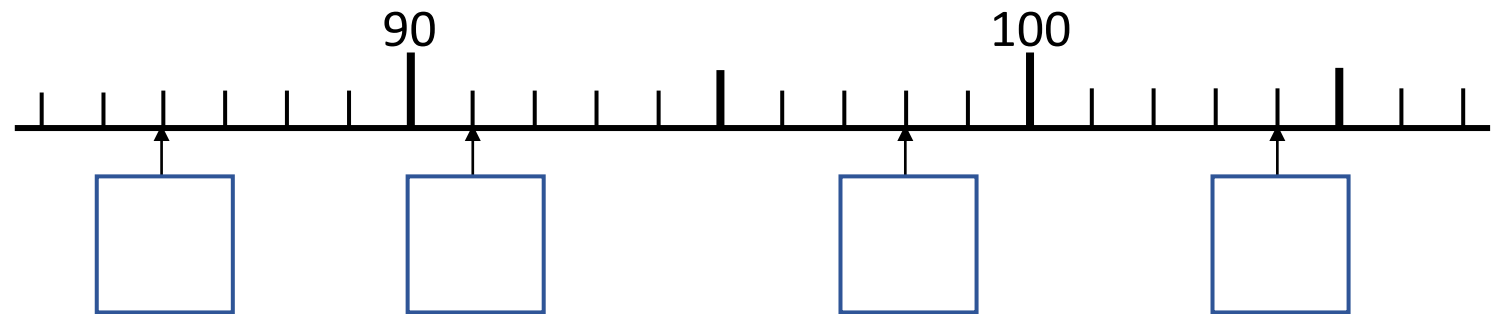
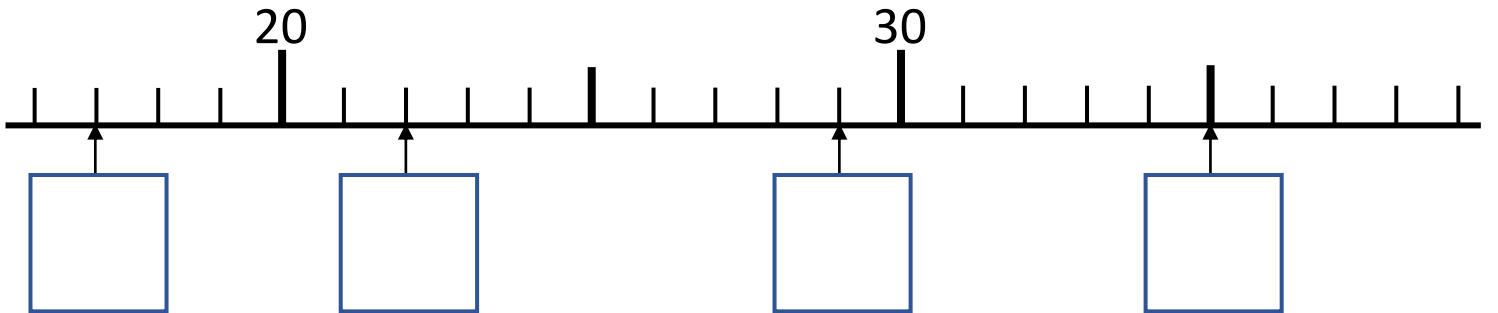
かずをならべよう (4)

😊 めあて：すうじの まとまりつについて しろ

● すうじの きまりを みつけて、□に すうじを かきましょう。

—	20	□	40	50	□	□	80	□	—
—	□	35	40	□	50	□	□	65	—
—	112	113	□	□	116	□	118	□	—

● やじるしの すうじを こたえましょう。



😊 ふりかえり：まとめて かぞえられたかな？

