

# かずをならべよう (1)

😊 めあて：すうじを おおきい じゅんや ちいさい じゅんに ならべよう。

- ちいさい じゅんに すうじが ならんでいます。  
あいている ところに すうじを かきましょう。

①

1	2	3	4	5	6
---	---	---	---	---	---

②

5	6	7	8	9	10
---	---	---	---	---	----

チャレンジ!

③

0	1	2	3	4	5
---	---	---	---	---	---

- おおき いじゅんに すうじが ならんでいます。  
あいている ところに すうじを かきましょう。

①

10	9	8	7	6	5
----	---	---	---	---	---

②

8	7	6	5	4	3
---	---	---	---	---	---

チャレンジ!

③

5	4	3	2	1	0
---	---	---	---	---	---

😊 ふりかえり：じゅんばんに ならべられたかな？

# かずをならべよう (2)

😊 めあて：きまりを みつけて、すうじを おおきい じゅんや ちいさい じゅんにならべよう。

● □に あてはまる すうじを かきましょう。

①

2	4	6	8	10
---	---	---	---	----

②

1	3	5	7	9
---	---	---	---	---

③

10	8	6	4	2
----	---	---	---	---

④

9	7	5	3	1
---	---	---	---	---

★チャレンジ!

⑤

8	6	4	2	0
---	---	---	---	---

● どちらの すうじが おおきいかな？ おおきい ほうに ○を しましょう。

① 2 ・ 5

③ 10 ・ 7

② 0 ・ 1

④ 6 ・ 9

😊 ふりかえり：じゅんばんに ならべられたかな？

# かずをならべよう (3)

😊 めあて：すうじの まとまりつについて しろう。


● すうじの きまりを みつけて、□に すうじを かきましょう。

2	4	6	8	10	12	14	16
5	10	15	20	25	30	35	40
10	20	30	40	50	60	70	80
20	18	16	14	12	10	8	6

チャレンジ!

● くふうをして、かずを かぞえましょう。


8


15


14

😊 ふりかえり：まとめて かぞえられたかな？

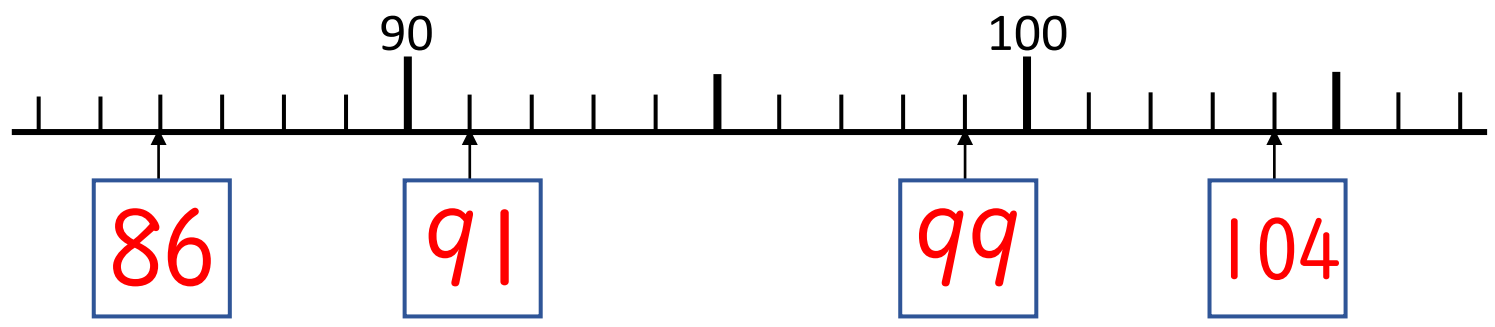
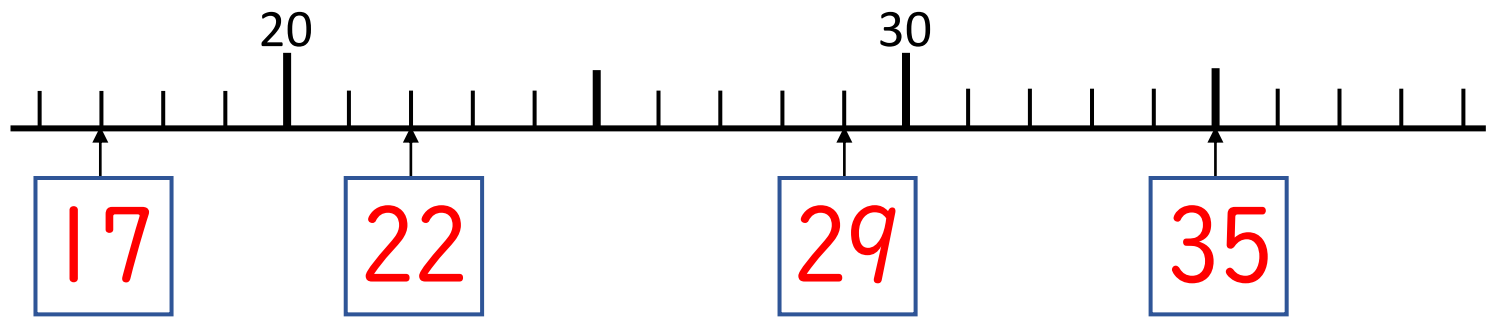
# かずをならべよう (4)

😊 めあて：すうじの まとまりつについて しろ。

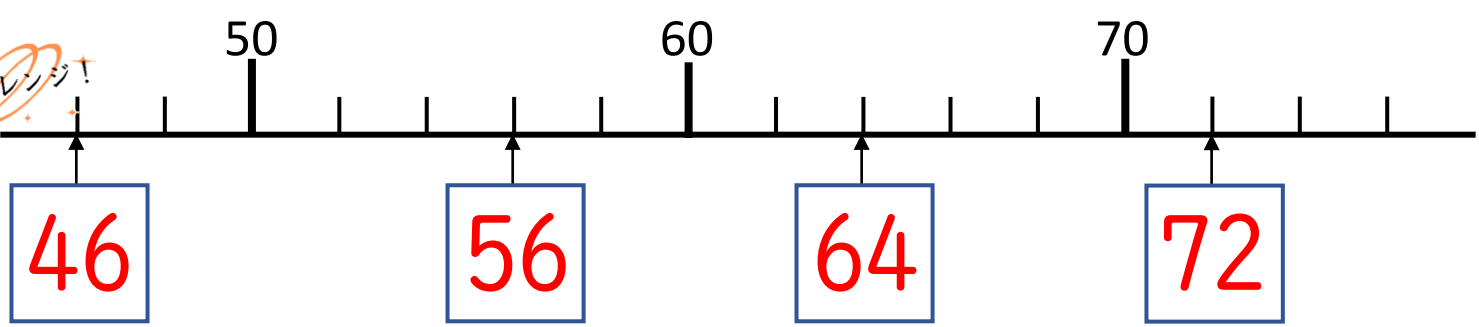
● すうじの きまりを みつけて、□に すうじを かきましょう。

20	30	40	50	60	70	80	90
30	35	40	45	50	55	60	65
112	113	114	115	116	117	118	119

● やじるしの すうじを こたえましょう。



チャレンジ!



😊 ふりかえり：まとめて かぞえられたかな？