

# かずをならべよう (3)


😊 めあて：すうじの まとまりつについて しろう


● すうじの きまりを みつけて、□に すうじを かきましょう。


2	4			10		14	
5	10		20			35	
	20	30		50			80
20	18			12		8	

チャレンジ!

● くふうをして、かずを かぞえましょう。


□


□


□

😊 ふりかえり：まどめて かぞえられたかな？

