

かずをならべよう (2)

😊 めあて：きまりを みつけて、 すうじを おおきい じゅんや ちいさい じゅんにならべよう。

● □に あてはまる すうじを かきましょう。

①

2	4	6	8	10
---	---	---	---	----

②

1	3	5	7	9
---	---	---	---	---

③

10	8	6	4	2
----	---	---	---	---

④

9	7	5	3	1
---	---	---	---	---

チャレンジ!

⑤

8	6	4	2	0
---	---	---	---	---

● どちらの すうじが おおきいかな？ おおきい ほうに ○を しましょう。

① 2 ・ 5

③ 10 ・ 7

② 0 ・ 1

④ 6 ・ 9

😊 ふりかえり：じゅんばんに ならべられたかな？

かずをならべよう (1)

😊 めあて：すうじを おおきい じゅんや ちいさい じゅんに ならべよう。

- ちいさい じゅんに すうじが ならんでいます。
あいている ところに すうじを かきましょう。

①

1	2	3	4	5	6
---	---	---	---	---	---

②

5	6	7	8	9	10
---	---	---	---	---	----

チャレンジ!

③

0	1	2	3	4	5
---	---	---	---	---	---

- おおき いじゅんに すうじが ならんでいます。
あいている ところに すうじを かきましょう。

①

10	9	8	7	6	5
----	---	---	---	---	---

②

8	7	6	5	4	3
---	---	---	---	---	---

チャレンジ!

③

5	4	3	2	1	0
---	---	---	---	---	---

😊 ふりかえり：じゅんばんに ならべられたかな？

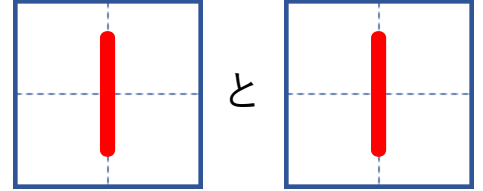
すうじをわけよう

【2・3・4】

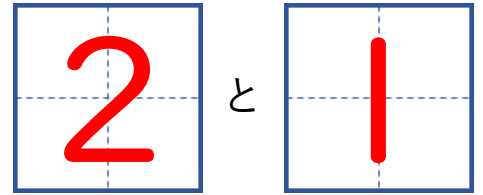
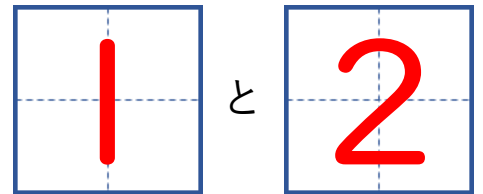
がっ	にち
なまえ	

😊 めあて：2と3と4の わけかたを おぼえよう。

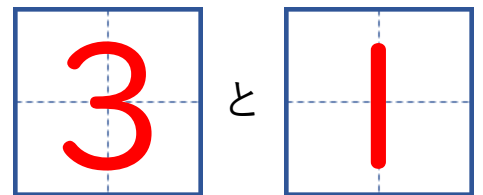
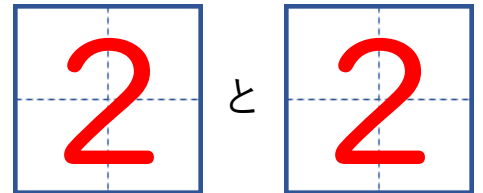
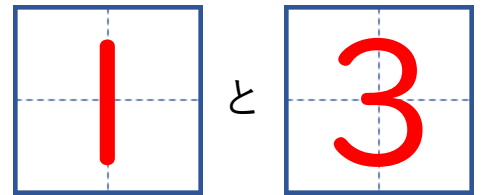
● 2この りんごを わけて、わけた かずを かきましょう。



● 3この りんごを わけて、わけた かずを かきましょう。



● 4この りんごを わけて、わけた かずを かきましょう。



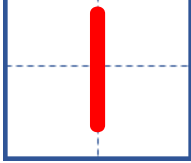






😊 ふりかえり：2と3と4の わけかたは わかったかな？





すうじをわけよう【5】

😊 めあて：5のわけかたをおぼえよう。

● 5このりんごをわけて、わけたかずをかきましょう。

①    と 

②    と 

③    と 

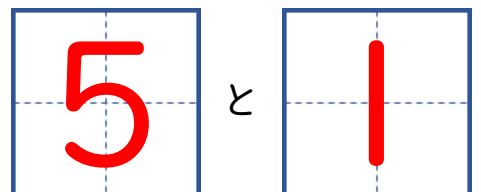
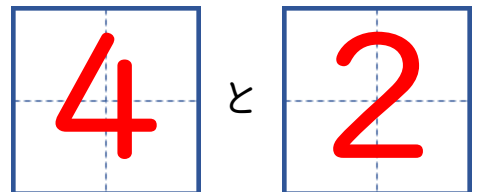
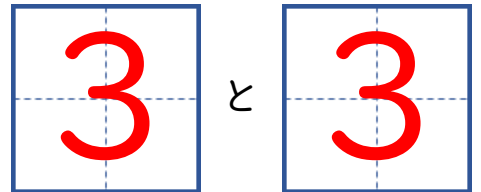
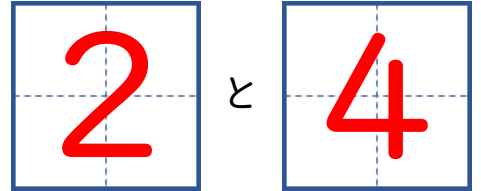
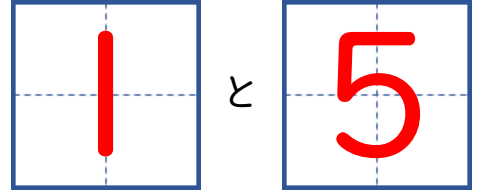
④    と 

😊 ふりかえり：5のわけかたはわかったかな？

すうじをわけよう【6】

😊 めあて：6のわけかたをおぼえよう。

● 6このりんごをわけて、わけたかずをかきましょう。



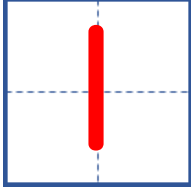








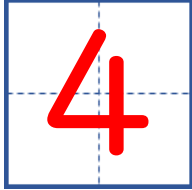











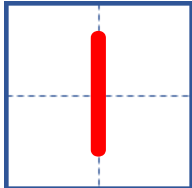


😊 ふりかえり：6のわけかたはわかったかな？

すうじをわけよう【7】

😊 めあて：7のわけかたをおぼえよう。

● 7このりんごをわけて、わけたかずをかきましょう。



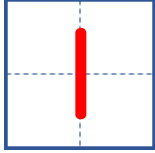
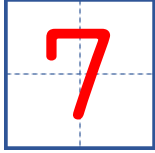










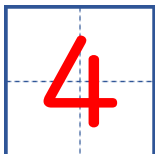
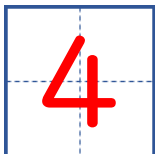


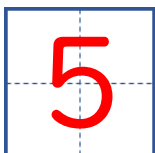
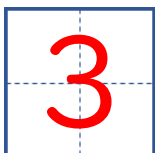


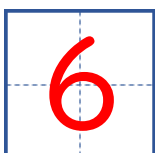
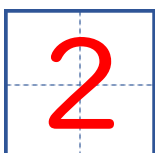


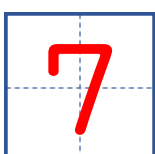
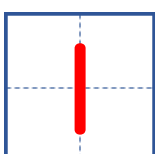
①				と	
②				と	
③				と	
④				と	
⑤				と	
⑥				と	

😊 ふりかえり：7のわけかたはわかったかな？

すうじをわけよう【8】

😊 めあて：8のわけかたをおぼえよう。

● 8このりんごをわけて、わけたかずをかきましょう。

①				と	
①				と	
①				と	
①				と	
①				と	
①				と	
①				と	

😊 ふりかえり：8のわけかたはわかったかな？