

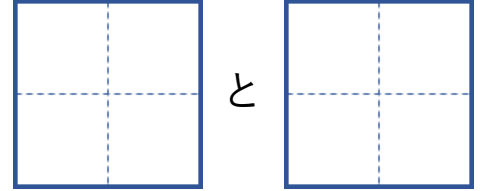
すうじをわけよう

【2・3・4】

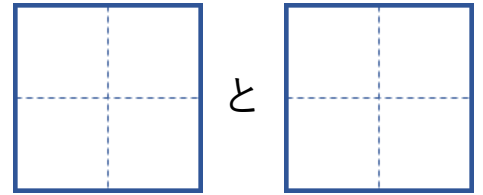
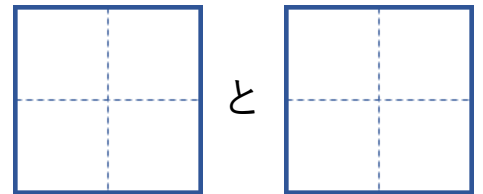
がっ	にち
なまえ	

😊 めあて：2と3と4の わけかたを おぼえよう。

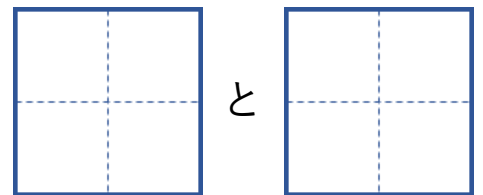
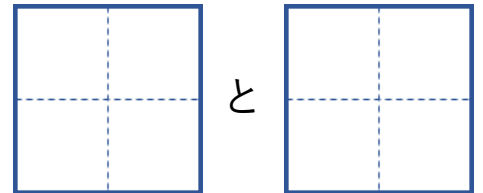
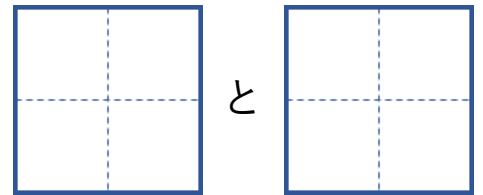
● 2この りんごを わけて、わけた かずを かきましょう。



● 3この りんごを わけて、わけた かずを かきましょう。



● 4この りんごを わけて、わけた かずを かきましょう。



😊 ふりかえり：2と3と4の わけかたは わかったかな？

