

2けたのかず (1)

😊 めあて：20までの すうじについて しろ。

● つぎの ぶろっくの かずを かぞえましょう。

← ぶろっく
1こ

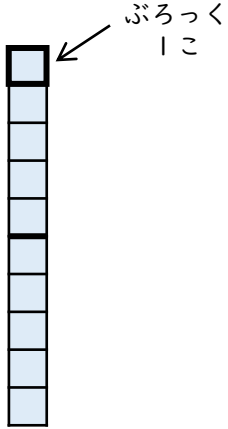
😊 ふりかえり；20までの すうじは わかったかな？



2けたのかず (2)

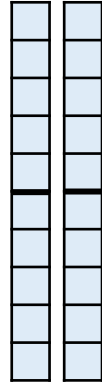
😊 めあて：10のまとまりについて しろう。

● つぎの ぶろっくのかずを かぞえましよう。



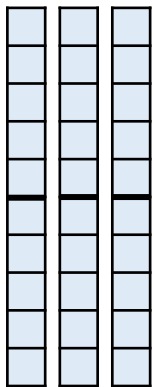
10のかたまりは
 こ

ぶろっくのかずは
 こ



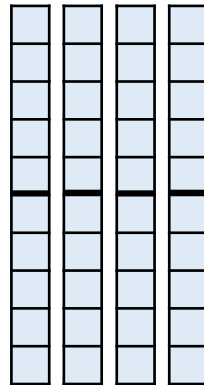
10のかたまりは
 こ

ぶろっくのかずは
 こ



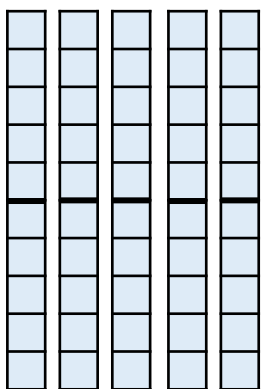
10のかたまりは
 こ

ぶろっくのかずは
 こ




10のかたまりは
 こ

ぶろっくのかずは
 こ



10のかたまりは
 こ

ぶろっくのかずは
 こ



10のかたまりは
 こ

ぶろっくのかずは
 こ

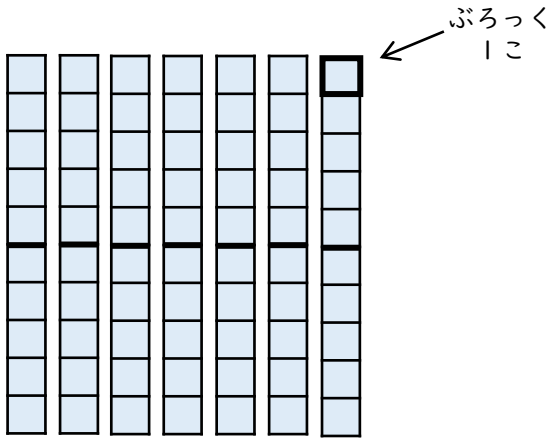
😊 ふりかえり；10のまとまりは わかったかな？



2けたのかず (3)

😊 めあて：10のまとまりについてしろう。


● つぎのぶろっくのかずをかぞえましょう。



10のかたまりは

 こ


ぶろっくのかずは

 こ


10のかたまりは

 こ

ぶろっくのかずは

 こ


10のかたまりは

 こ

ぶろっくのかずは

 こ

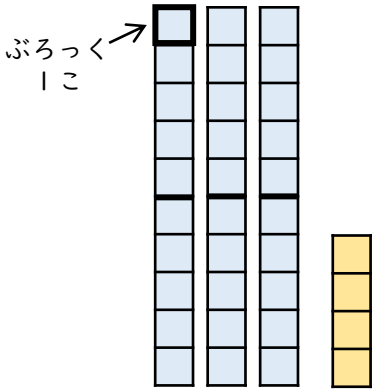
😊 ふりかえり；10のまとまりはわかったかな？



2けたのかず (4)

😊 めあて：一のくらい、十のくらいについてしろう。

● つぎのぶろっくのかずをかぞえましょう。



10のかたまりは

こ

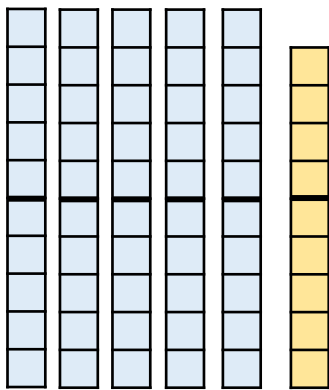
1このぶろっくは

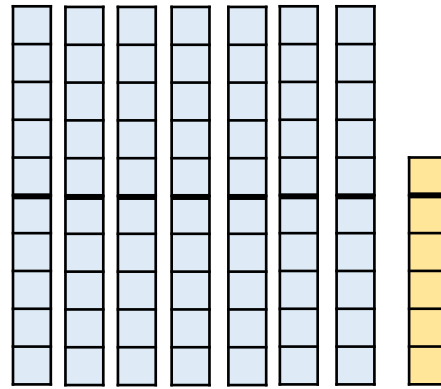
こ

ぶろっくのかずは
ぜんぶで

こ

● つぎのぶろっくのかずをすうじであらわしましょう。





● つぎのすうじの十のくらいと一のくらいのすうじを
こたえましょう。

(1) 82 十のくらい

一のくらい

(2) 24 十のくらい

一のくらい

(3) 98 十のくらい

一のくらい

😊 ふりかえり：一のくらい、十のくらいはわかったかな？

