

# 2けたのかず (1)

😊 めあて：20までの すうじについて しろう。

● つぎの ぶろっくの かずを かぞえましよう。

← ぶろっく  
1こ

10 11 12 13

14 15 16 17

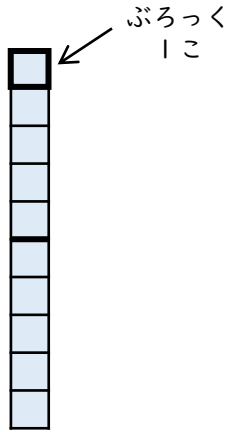
18 19 20

😊 ふりかえり；20までの すうじは わかったかな？

# 2けたのかず (2)

😊 めあて：10のまとまりについてしろう。

● つぎのぶろっくのかずをかぞえましょう。



10のかたまりは

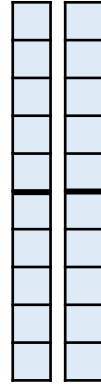
1

こ

ぶろっくのかずは

10

こ



10のかたまりは

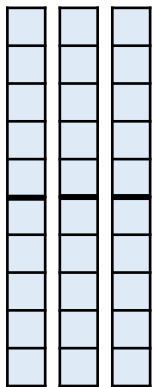
2

こ

ぶろっくのかずは

20

こ



10のかたまりは

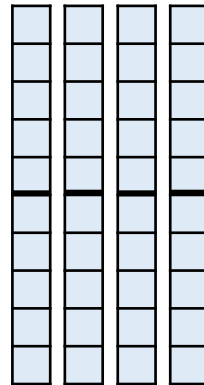
3

こ

ぶろっくのかずは

30

こ



10のかたまりは

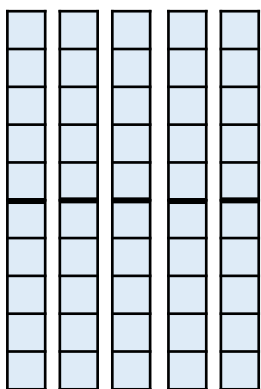
4

こ

ぶろっくのかずは

40

こ



10のかたまりは


5

こ

ぶろっくのかずは

50

こ



10のかたまりは

6

こ

ぶろっくのかずは

60

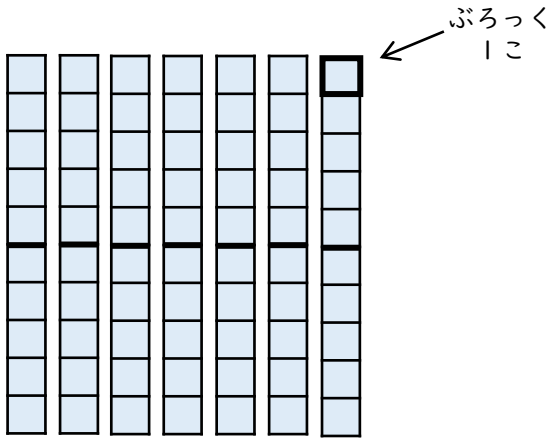
こ

😊 ふりかえり；10のまとまりはわかったかな？

# 2けたのかず (3)

😊 めあて：10のまとまりについてしろう。

● つぎのぶろっくのかずをかぞえましょう。




10のかたまりは

**7** こ

ぶろっくのかずは

**70** こ




10のかたまりは

**8** こ

ぶろっくのかずは

**80** こ



10のかたまりは

**9** こ

ぶろっくのかずは

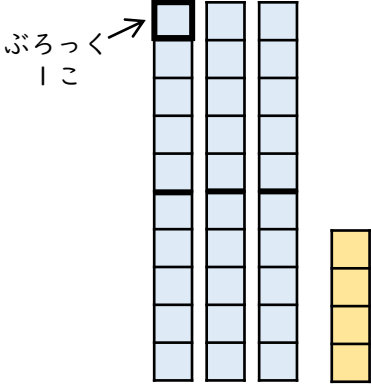
**90** こ

😊 ふりかえり；10のまとまりはわかったかな？

# 2けたのかず (4)

😊 めあて：一のくらい、十のくらいについてしろう。

● つぎのぶろっくのかずをかぞえましょう。



10のかたまりは

3

こ

1このぶろっくは

4

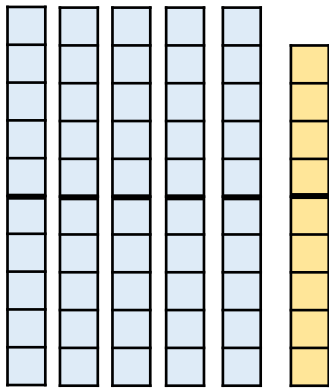
こ

ぶろっくのかずは  
ぜんぶで

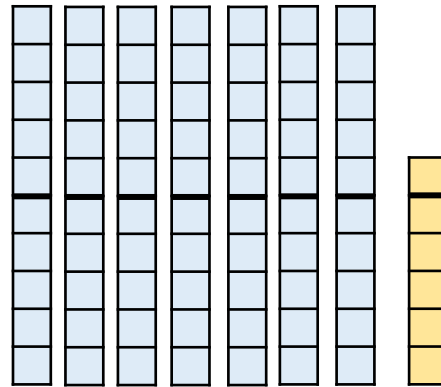
34

こ

● つぎのぶろっくのかずをすうじであらわしましょう。



59



76

● つぎのすうじの十のくらいと一のくらいのすうじを  
こたえましょう。

(1) 82 十のくらい 8

一のくらい 2

(2) 24 十のくらい 2

一のくらい 4

(3) 98 十のくらい 9

一のくらい 8

😊 ふりかえり：一のくらい、十のくらいはわかったかな？