

2けたのかず

【おかねをかぞえよう (1)】

😊 めあて：おかねの かぞえかたが わかるようになろう。

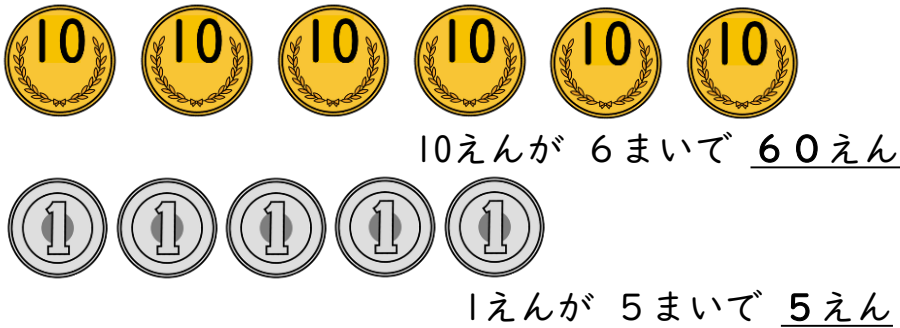
● つぎの おかねは ぜんぶで なんえん でしょう。

(1)




えん

(2)



えん

(3)



えん

(4)



えん

😊 ふりかえり：おかねの かぞえかたは わかったかな？



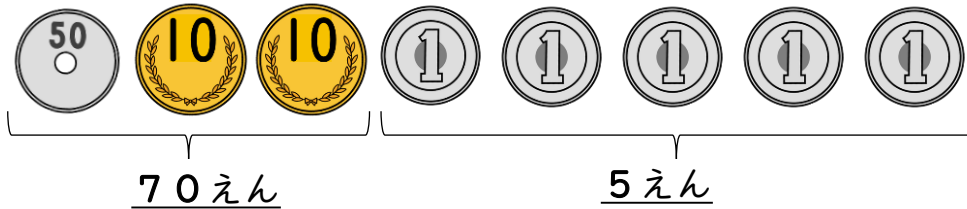
2けたのかず

【おかねをかぞえよう (2)】

😊 めあて：おかねの かぞえかたが わかるようになろう。


● つぎの おかねは ぜんぶで なんえん でしょう。

(1)



えん

(2)



えん

(3)



えん

(4)



えん

(5)



えん

😊 ふりかえり：おかねの かぞえかたは わかったかな？



2けたのかず

【おかねをかぞえよう (3)】

😊 めあて：じぶんで おかねを かぞえてみよう。

● つぎの おかねは、10えん、1えんが なんまいでしょう。

□に 0~9の すうじを かきましょう。

(1) 43 えん



(2) 72 えん



(3) 38 えん




(4) 64 えん



(5) 70 えん



(6) 39 えん



😊 ふりかえり：じぶんで おかねは かぞえられたかな？



2けたのかず

【おかねをかぞえよう (4)】

😊 めあて：じぶんで おかねを かぞえてみよう。

● つぎのおかねは、50えん、10えん、5えん、1えんが
なんまいでしょう。□に 0~9の すうじを かきましょう。





(1) 78 えん

 □ まい
  □ まい
  □ まい
  □ まい

(2) 79 えん

 □ まい
  □ まい
  □ まい
  □ まい

(3) 84 えん

 □ まい
  □ まい
  □ まい
  □

(4) 53 えん

 □ まい
  なし
  □ まい
  □ まい





(5) 53 えん

 なし
  □ まい
  □ まい
  □ まい

(6) 39 えん

 □ まい
  □ まい
  □ まい
  □ まい

(7) 65 えん

 □ まい
  □ まい
  □ まい
  なし

😊 ふりかえり：じぶんで おかねは かぞえられたかな？

