

2けたのかず

【おかねをかぞえよう (1)】

😊 めあて：おかねの かぞえかたが わかるようになろう。

● つぎのおかねは ぜんぶで なんえん でしょう。

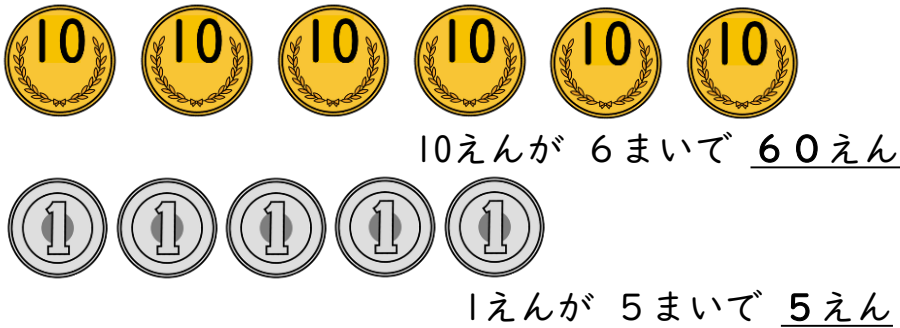
(1)



43

えん


(2)



65

えん


(3)



87

えん

(4)



36

えん

😊 ふりかえり：おかねの かぞえかたは わかったかな？

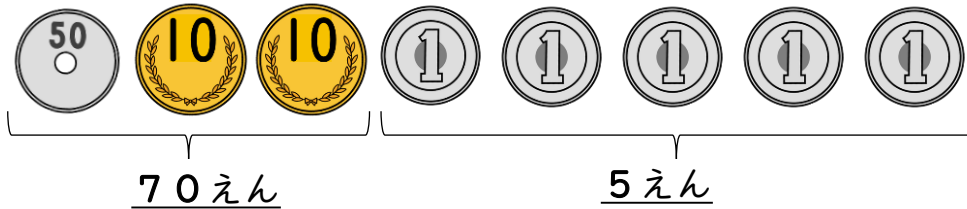
2けたのかず

【おかねをかぞえよう (2)】

😊 めあて：おかねの かぞえかたが わかるようになろう。


● つぎの おかねは ぜんぶで なんえん でしょう。

(1)



75
えん

(2)



36
えん

(3)



98
えん

(4)



66
えん

(5)



89
えん

😊 ふりかえり：おかねの かぞえかたは わかったかな？

2けたのかず

【おかねをかぞえよう (3)】

😊 めあて：じぶんで おかねを かぞえてみよう。

● つぎの おかねは、10えん、1えんが なんまいでしょう。

□に 0~9の すうじを かきましょう。

(1) 43 えん



4

まい



3

まい

(2) 72 えん



7

まい



2

まい

(3) 38 えん



3

まい



8

まい

(4) 64 えん



6

まい



4

まい

(5) 70 えん



7

まい



0

まい

(6) 39 えん



3

まい



9

まい

😊 ふりかえり：じぶんで おかねは かぞえられたかな？

2けたのかず

【おかねをかぞえよう (4)】

😊 めあて：じぶんで おかねを かぞえてみよう。

● つぎのおかねは、50えん、10えん、5えん、1えんが
なんまいでしょう。□に 0～5の すうじを かきましょう。





(1) 78 えん

 □ **1** まい
  □ **2** まい
  □ **1** まい
  □ **3** まい

(2) 79 えん

 □ **1** まい
  □ **2** まい
  □ **1** まい
  □ **4** まい

(3) 84 えん

 □ **1** まい
  □ **3** まい
  □ **0** まい
  □ **4**

(4) 53 えん

 □ **1** まい
  なし
  □ **0** まい
  □ **3** まい





(5) 53 えん

 なし
  □ **5** まい
  □ **0** まい
  □ **3** まい

(6) 39 えん

 □ **0** まい
  □ **3** まい
  □ **1** まい
  □ **4** まい

(7) 65 えん

 □ **1** まい
  □ **1** まい
  □ **1** まい
  なし

😊 ふりかえり：じぶんで おかねは かぞえられたかな？