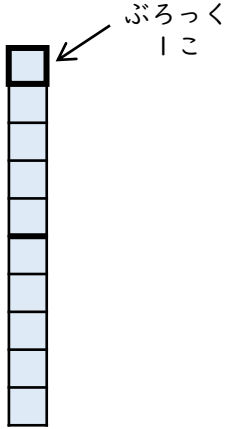


2けたのかず (2)

😊 めあて：10のまとまりについて しろう。

● つぎの ぶろっくのかずを かぞえましよう。

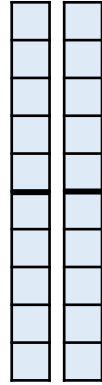


10のかたまりは

こ

ぶろっくのかずは

こ

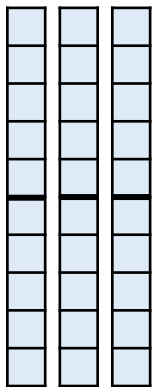


10のかたまりは

こ

ぶろっくのかずは

こ

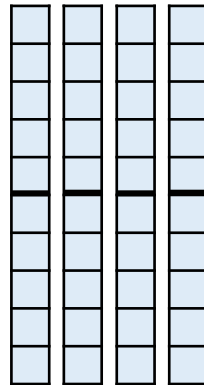


10のかたまりは

こ

ぶろっくのかずは

こ

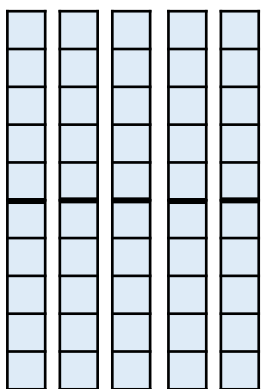


10のかたまりは

こ

ぶろっくのかずは

こ




10のかたまりは

こ

ぶろっくのかずは

こ



10のかたまりは

こ

ぶろっくのかずは

こ

😊 ふりかえり；10のまとまりは わかったかな？

