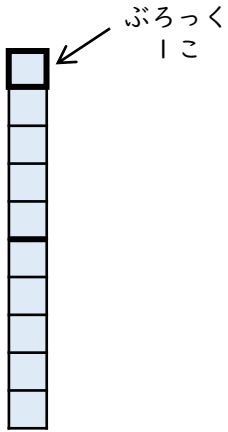


2けたのかず (2)

😊 めあて：10のまとまりについてしろう。

● つぎのぶろっくのかずをかぞえましょう。



10のかたまりは

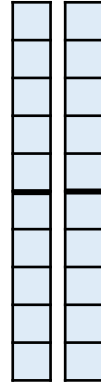
1

こ

ぶろっくのかずは

10

こ



10のかたまりは

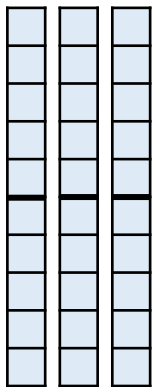
2

こ

ぶろっくのかずは

20

こ



10のかたまりは

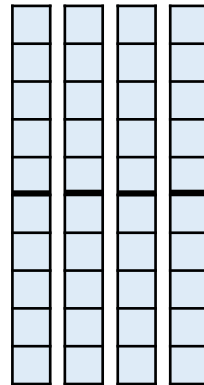
3

こ

ぶろっくのかずは

30

こ



10のかたまりは

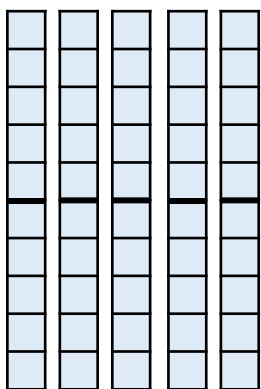
4

こ

ぶろっくのかずは

40

こ



10のかたまりは


5

こ

ぶろっくのかずは

50

こ



10のかたまりは

6

こ

ぶろっくのかずは

60

こ

😊 ふりかえり；10のまとまりはわかったかな？