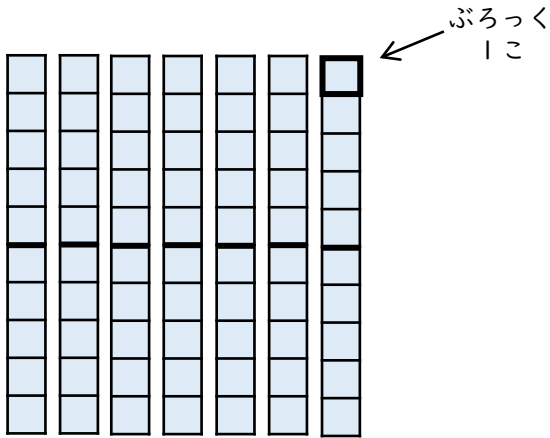


2けたのかず (3)

😊 めあて：10のまとまりについてしろう。

● つぎのぶろっくのかずをかぞえましょう。




10のかたまりは

7 こ

ぶろっくのかずは

70 こ




10のかたまりは

8 こ

ぶろっくのかずは

80 こ



10のかたまりは

9 こ

ぶろっくのかずは

90 こ

😊 ふりかえり；10のまとまりはわかったかな？