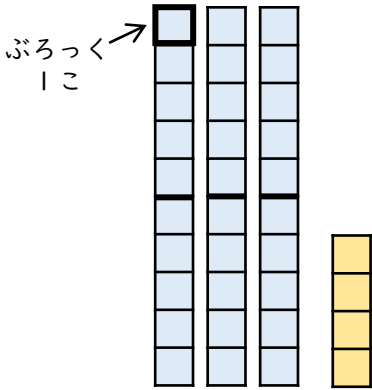


# 2けたのかず (4)

😊 めあて：一のくらい、十のくらいについてしろう。

● つぎのぶろっくのかずをかぞえましょう。



10のかたまりは

こ

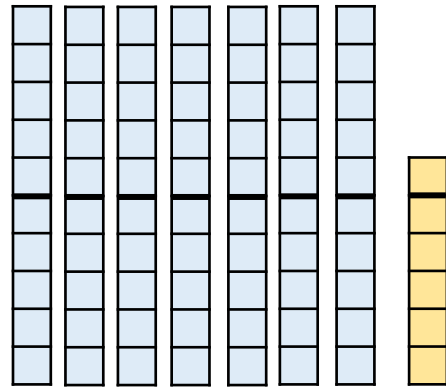
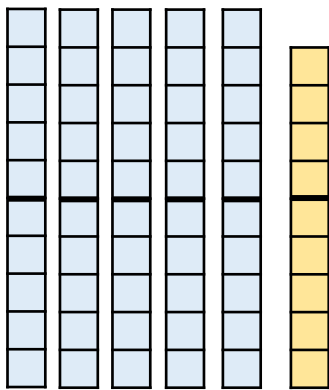
1このぶろっくは

こ

ぶろっくのかずは  
ぜんぶで

こ

● つぎのぶろっくのかずをすうじであらわしましょう。



● つぎのすうじの十のくらいと一のくらいのすうじを  
こたえましょう。

(1) 82 十のくらい

一のくらい

(2) 24 十のくらい

一のくらい

(3) 98 十のくらい

一のくらい

😊 ふりかえり：一のくらい、十のくらいはわかったかな？

