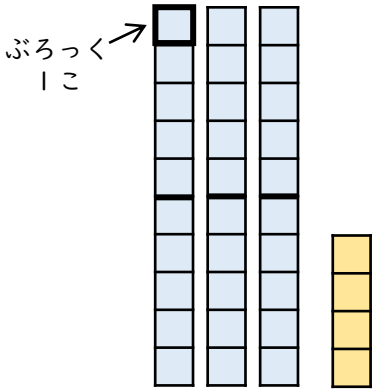


2けたのかず (4)

😊 めあて：一のくらい、十のくらいについてしろう。

● つぎのぶろっくのかずをかぞえましょう。



10のかたまりは

3

こ

1このぶろっくは

4

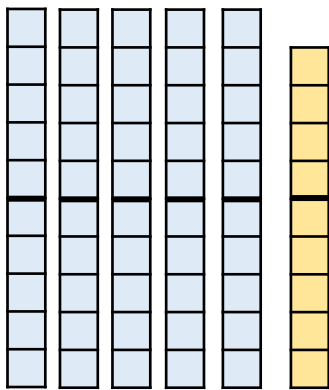
こ

ぶろっくのかずは
ぜんぶで

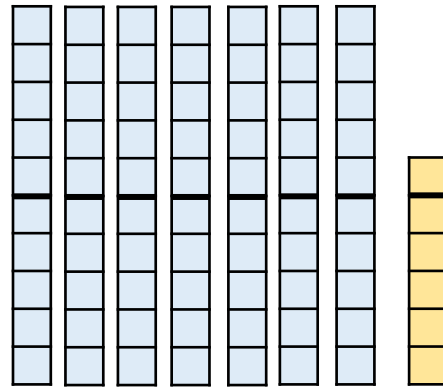
34

こ

● つぎのぶろっくのかずをすうじであらわしましょう。



59



76

● つぎのすうじの十のくらいと一のくらいのすうじを
こたえましょう。

(1) 82

十のくらい

8

一のくらい

2

(2) 24

十のくらい

2

一のくらい

4

(3) 98

十のくらい

9

一のくらい

8

😊 ふりかえり：一のくらい、十のくらいはわかったかな？