

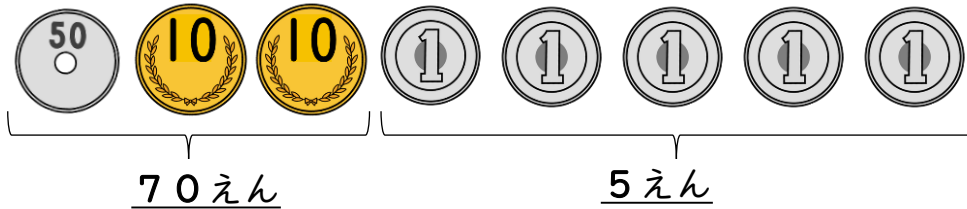
# 2けたのかず

【おかねをかぞえよう (2)】

😊 めあて：おかねの かぞえかたが わかるようになろう。


● つぎの おかねは ぜんぶで なんえん でしょう。

(1)




75  
えん

(2)



36  
えん

(3)



98  
えん

(4)



66  
えん

(5)



89  
えん

😊 ふりかえり：おかねの かぞえかたは わかったかな？