

# 2けたのかず

【おかねをかぞえよう (4)】

😊 めあて：じぶんで おかねを かぞえてみよう。

● つぎのおかねは、50えん、10えん、5えん、1えんが  
なんまいでしょう。□に 0~9の すうじを かきましょう。





(1) 78 えん

 □ まい
  □ まい
  □ まい
  □ まい

(2) 79 えん

 □ まい
  □ まい
  □ まい
  □ まい

(3) 84 えん

 □ まい
  □ まい
  □ まい
  □

(4) 53 えん

 □ まい
  なし
  □ まい
  □ まい





(5) 53 えん

 なし
  □ まい
  □ まい
  □ まい

(6) 39 えん

 □ まい
  □ まい
  □ まい
  □ まい

(7) 65 えん

 □ まい
  □ まい
  □ まい
  なし

😊 ふりかえり：じぶんで おかねは かぞえられたかな？

