

# 2けたのかず

【おかねをかぞえよう (4)】

😊 めあて：じぶんで おかねを かぞえてみよう。

● つぎのおかねは、50えん、10えん、5えん、1えんが  
なんまいでしょう。□に 0～5の すうじを かきましょう。





(1) 78 えん

 □ **1** まい
  □ **2** まい
  □ **1** まい
  □ **3** まい

(2) 79 えん

 □ **1** まい
  □ **2** まい
  □ **1** まい
  □ **4** まい

(3) 84 えん

 □ **1** まい
  □ **3** まい
  □ **0** まい
  □ **4**

(4) 53 えん

 □ **1** まい
  なし
  □ **0** まい
  □ **3** まい





(5) 53 えん

 なし
  □ **5** まい
  □ **0** まい
  □ **3** まい

(6) 39 えん

 □ **0** まい
  □ **3** まい
  □ **1** まい
  □ **4** まい

(7) 65 えん

 □ **1** まい
  □ **1** まい
  □ **1** まい
  なし

😊 ふりかえり：じぶんで おかねは かぞえられたかな？