




3けたのかず

【おかねをかぞえよう】

😊 めあて：じぶんで おかねを かぞえてみよう。

● つぎの おかねは、100えん、10えん、1えん、が
なんまいでしょう。□に 0~9の すうじを かきましょう。




(1) 111 えん

	<input type="text" value="1"/>	まい		<input type="text" value="1"/>	まい		<input type="text" value="1"/>	まい
---	--------------------------------	----	---	--------------------------------	----	---	--------------------------------	----

(2) 202 えん

	<input type="text" value="2"/>	まい		<input type="text" value="0"/>	まい		<input type="text" value="2"/>	まい
---	--------------------------------	----	---	--------------------------------	----	---	--------------------------------	----




(3) 117 えん

	<input type="text" value="1"/>	まい		<input type="text" value="1"/>	まい		<input type="text" value="7"/>	まい
---	--------------------------------	----	---	--------------------------------	----	---	--------------------------------	----

(4) 100 えん

	<input type="text" value="1"/>	まい		<input type="text" value="0"/>	まい		<input type="text" value="0"/>	まい
---	--------------------------------	----	---	--------------------------------	----	---	--------------------------------	----

(5) 218 えん

	<input type="text" value="2"/>	まい		<input type="text" value="1"/>	まい		<input type="text" value="8"/>	まい
---	--------------------------------	----	---	--------------------------------	----	---	--------------------------------	----

(6) 263 えん

	<input type="text" value="2"/>	まい		<input type="text" value="6"/>	まい		<input type="text" value="3"/>	まい
---	--------------------------------	----	---	--------------------------------	----	---	--------------------------------	----

😊 ふりかえり：じぶんで おかねは かぞえられたかな？