

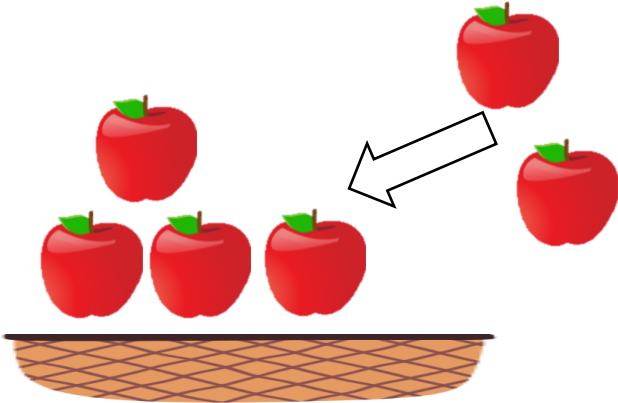
# たしざんもんだい

【ふえたとき（くりあがりなし）】

😊 めあて：たしざんのしきをつくれるようになるう。

● つぎの もんだいに こたえましょう。

(1) えをみてしきとこたえをかきましょう。

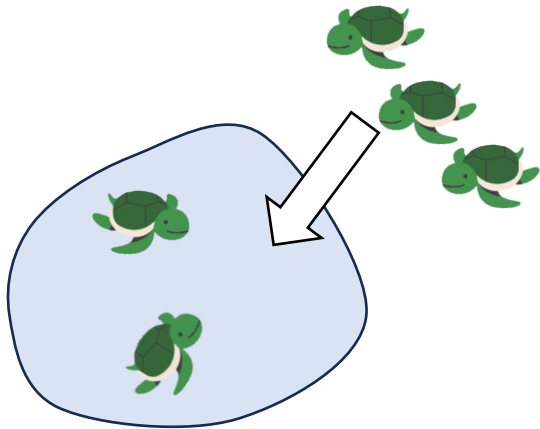


しき

$$\square + \square = \square$$

こたえ

(2) いけにかめが2ひきいます。あとから3ひききました。ぜんぶでなんひきになったでしょう。



しき

こたえ

★チャレンジ (3) きにとりが5わとまっています。あとから4わきました。ぜんぶでなんわになったでしょう。

しき

こたえ

😊 ふりかえり：しきをつくることはできたかな？



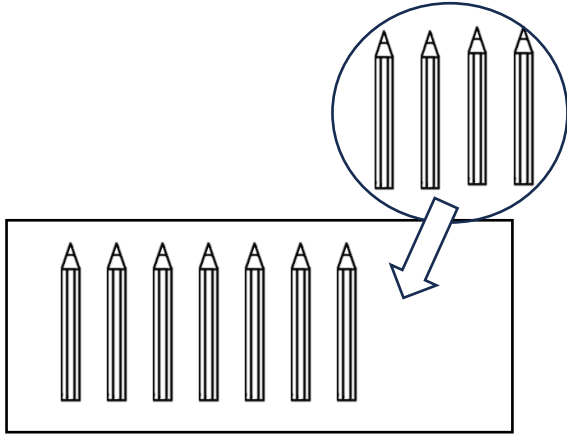
# たしざんもんだい

【ふえたとき（くりあがりあり）】

😊 めあて：たしざんのしきをつくれるようになるう。

● つぎの もんだいに こたえましょう。

(1) えをみてしきとこたえをかきましょう。

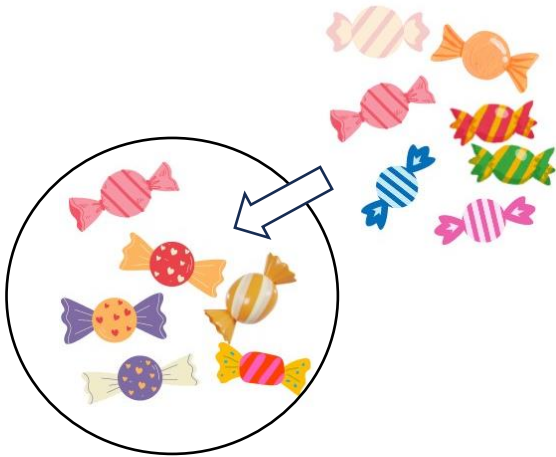


しき

$$\square + \square = \square$$

こたえ

(2) みくさんはあめを6こもっています。かけるくんからあめを7こもらいました。ぜんぶでなんこになったでしょう。



しき

こたえ

チャレンジ (3) めだかを9ひきかっています。きょう6ひきもらいました。ぜんぶでなんひきになったでしょう。

しき

こたえ

😊 ふりかえり：しきをつくることはできたかな？




# たしざんもんだい

【あわせたとき（くりあがりなし）】

😊 めあて：たしざんの しきをつくれるようになるう。

● つぎの もんだいに こたえましょう。

(1) えをみて しきと こたえをかきましょう。

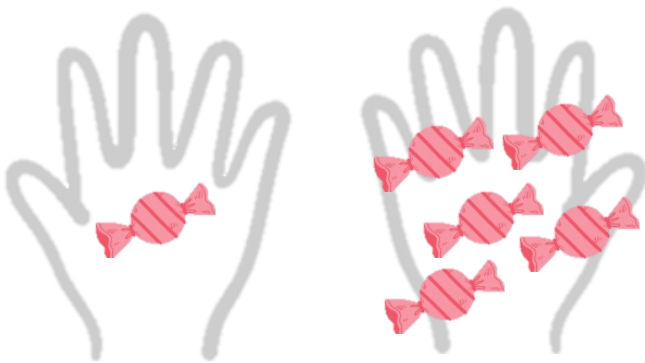


しき

	+		=	
--	---	--	---	--

こたえ

(2) みぎてに あめを 5こ、ひだりてに あめを 1こ もっています。  
あわせて なんこになるでしょう。



しき

こたえ

(3) しろい はなが 5ほん、あかい はなが 3ほん あります。  
あわせて なんほんでしょう。

しき

こたえ

😊 ふりかえり：しきをつくることは できたかな？



# たしざんもんだい

【あわせたとき（くりあがりあり）】

😊 めあて：たしざんの しきをつくれるようになるう。

● つぎの もんだいに こたえましょう。

(1) えをみて しきと こたえをかきましょう。

しき

$$\square + \square = \square$$

こたえ

(2) ゆうちゃんは おりがみを 8まい もっています。ももちゃんは 5まい もっています。

ふたりの おりがみは ぜんぶで なんまいでしょう。

ゆうちゃん


しき

こたえ

ももちゃん

--	--	--	--	--

★チャレンジ★ (3) どんぐりを 4こ ひろいました。あとから 7こ ひろいました。ぜんぶで なんこに なったでしょう。

しき

こたえ

😊 ふりかえり：しきをつくることは できたかな？




# たしざんもんだい

【じゅんばん、にんずう（くりあがりあり、なし）】

😊 めあて：たしざんの しきをつくれるようになるう。

● つぎの もんだい にこたえましょう。

(1) かなさんは まえから 4ばんめに います。かなさんの うしろに 3にんいます。ならんでいるひとは なんにん いるでしょう。



しき

$$\square + \square = \square$$

こたえ

(2) かけるくんは まえから 6ばんめに います。かけるくんの うしろに 7にんいます。ならんでいるひとは なんにん でしょう。



しき

$$\square + \square = \square$$

こたえ



(3) しほさんは うしろから 5ばんめに います。しほさんの まえに 9にんいます。ならんでいるひとは なんにん でしょう。



しき

$$\square + \square = \square$$

こたえ

😊 ふりかえり：しきをつくることは できたかな？



# たしざんもんだい

【おおいぼう（くりあがりあり）】

😊 めあて：たしざんの しきをつくれるようになるう。


● つぎの もんだいに こたえましょう。

(1) こうえんに おとこのこが 7にんいます。おんなのこは おとこのこより 4にん おおいです。おんなのこは なんにん いるでしょう。



しき

$$\square + \square = \square$$



こたえ

(2) ドーナツが 6こ あります。ケーキは ドーナツより 7こ おおいです。ケーキは なんこあるでしょう。



しき

こたえ

★チャレンジ! (3) りんごが 12こ あります。みかんは りんごより 7こ おおいです。みかんは なんこ あるでしょう。

しき

こたえ

😊 ふりかえり：しきをつくることは できたかな？



# たしざんもんだい

【はじめのかず（くりあがりあり、なし）】

😊 めあて：たしざんのしきをつくれるようになるう。

● つぎの もんだいに こたえましょう。

(1) りなさんは ばななを 2ほん たべました。あと 5ほん のこっています。はじめに ばななは なんほん あったでしょう。

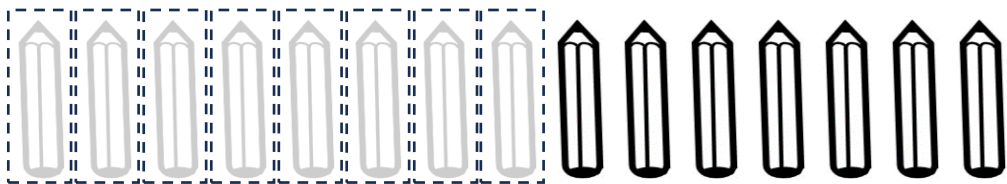


しき

$$\square + \square = \square$$

こたえ

(2) ゆうきくんは えんぴつを 8ほん つかいました。あと 7ほん のこっています。はじめに えんぴつは なんほん あったでしょう。



しき

こたえ



チャレンジ!(3) はこから りんごを 4こ だしました。あと 7こ はいっています。はじめに なんこ はいっていたでしょう。

しき

こたえ

😊 ふりかえり：しきをつくることは できたかな？

