

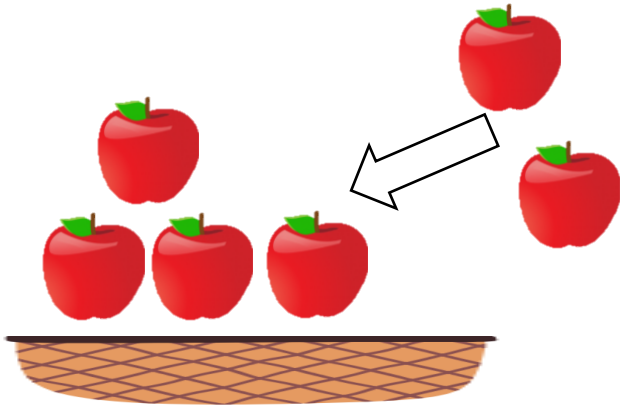
たしざんもんだい

【ふえたとき（くりあがりなし）】

😊 めあて：たしざんのしきをつくれるようになるう。

● つぎの もんだいに こたえましょう。

(1) えをみてしきとこたえをかきましょう。



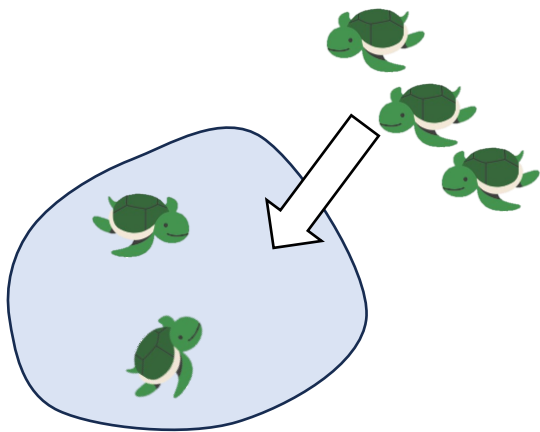
しき

$$\boxed{4} + \boxed{2} = \boxed{6}$$

こたえ

6こ

(2) いけにかめが2ひきいます。あとから3ひききました。ぜんぶでなんひきになったでしょう。



しき

$$\boxed{2 + 3 = 5}$$

こたえ

5ひき

★チャレンジ★ (3) きにとりが5わとまっています。あとから4わきました。ぜんぶでなんわになったでしょう。

しき

$$\boxed{5 + 4 = 9}$$

こたえ

9わ

😊 ふりかえり：しきをつくることはできたかな？

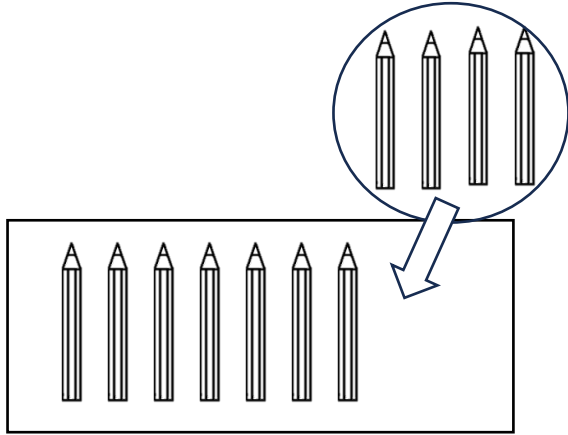
たしざんもんだい

【ふえたとき（くりあがりあり）】

😊 めあて：たしざんのしきをつくれるようになるう。

● つぎのもんだいにこたえましょう。

(1) えをみてしきとこたえをかきましょう。



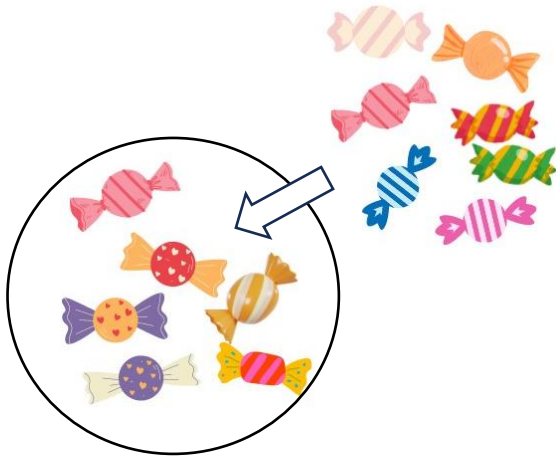
しき

$$\boxed{7} + \boxed{4} = \boxed{11}$$

こたえ

$$\boxed{11\text{ぽん}}$$

(2) みくさんはあめを6こもっています。かけるくんからあめを7こもらいました。ぜんぶでなんこになったでしょう。



しき

$$\boxed{6 + 7 = 13}$$

こたえ

$$\boxed{13\text{こ}}$$

チャレンジ (3) めだかを9ひきかっています。きょう6ひきもらいました。ぜんぶでなんひきになったでしょう。

しき

$$\boxed{9 + 6 = 15}$$

こたえ

$$\boxed{15\text{ひき}}$$

😊 ふりかえり：しきをつくることはできたかな？


たしざんもんだい

【あわせたとき（くりあがりなし）】

😊 めあて：たしざんの しきをつくれるようになるう。

● つぎの もんだいに こたえましょう。

(1) えをみて しきと こたえをかきましょう。



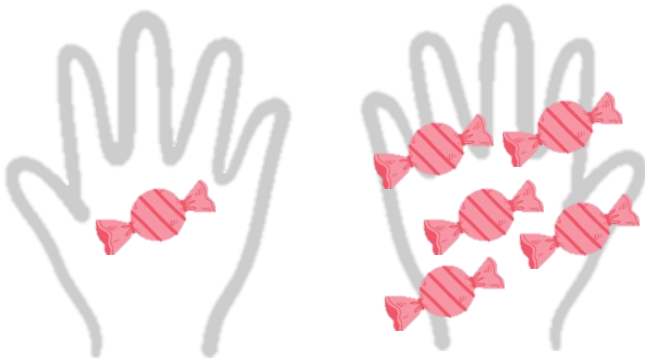
しき

$$\boxed{4} + \boxed{3} = \boxed{7}$$

こたえ

$$\boxed{7 \text{ にん}}$$

(2) みぎてに あめを 5こ、ひだりてに あめを 1こ もっています。
あわせて なんこになるでしょう。



しき

$$\boxed{5 + 1 = 6}$$

こたえ

$$\boxed{6 \text{ こ}}$$

(3) しろい はなが 5ほん、あかい はなが 3ほん あります。
あわせて なんほんでしょう。

しき

$$\boxed{5 + 3 = 8}$$

こたえ

$$\boxed{8 \text{ ほん}}$$

😊 ふりかえり：しきをつくることは できたかな？

たしざんもんだい

【あわせたとき（くりあがりあり）】

😊 めあて：たしざんの しきをつくれるようになるう。

● つぎの もんだいに こたえましょう。

(1) えをみて しきと こたえをかきましょう。

しき

$$\boxed{9} + \boxed{6} = \boxed{15}$$

こたえ

$$\boxed{15こ}$$

(2) ゆうちゃんは おりがみを 8まい もっています。ももちゃんは 5まい もっています。

ふたりの おりがみは ぜんぶで なんまいでしょう。

ゆうちゃん

しき

$$\boxed{8 + 5 = 13}$$

こたえ

$$\boxed{13まい}$$

ももちゃん

★チャレンジ★ (3) どんぐりを 4こ ひろいました。あとから 7こ ひろいました。ぜんぶで なんこに なったでしょう。

しき

$$\boxed{4 + 7 = 11}$$

こたえ

$$\boxed{11こ}$$

😊 ふりかえり：しきをつくることは できたかな？


たしざんもんだい

【じゅんばん、にんずう（くりあがりあり、なし）】

😊 めあて：たしざんの しきをつくれるようになるう。

● つぎの もんだい にこたえましょう。

(1) かなさんは まえから 4ばんめに います。かなさんの うしろに 3にんいます。ならんでいるひとは なんにん いるでしょう。



しき

$$\boxed{4} + \boxed{3} = \boxed{7}$$

こたえ

$$\boxed{7 \text{ にん}}$$

(2) かけるくんは まえから 6ばんめに います。かけるくんの うしろに 7にんいます。ならんでいるひとは なんにんでしょう。



しき

$$\boxed{6 + 7 = 13}$$

こたえ

$$\boxed{13 \text{ にん}}$$

チャレンジ!

(3) しほさんは うしろから 5ばんめに います。しほさんの まえに 9にんいます。ならんでいるひとは なんにんでしょう。



しき

$$\boxed{5 + 9 = 14}$$

こたえ

$$\boxed{14 \text{ にん}}$$

😊 ふりかえり：しきをつくることは できたかな？

たしざんもんだい

【おおいぼう（くりあがりあり）】

😊 めあて：たしざんの しきをつくれるようになるう。

● つぎの もんだいに こたえましょう。

(1) こうえんに おとこのこが 7にんいます。おんなのこは おとこのこより 4にん おおいです。おんなのこは なんにん いるでしょう。



しき

$$\boxed{7} + \boxed{4} = \boxed{11}$$



こたえ

11にん

(2) ドーナツが 6こ あります。ケーキは ドーナツより 7こ おおいです。ケーキは なんこあるでしょう。



しき

$$\boxed{6 + 7 = 13}$$

こたえ

13こ

★チャレンジ! (3) りんごが 12こ あります。みかんは りんごより 7こ おおいです。みかんは なんこ あるでしょう。

しき

$$\boxed{12 + 7 = 19}$$

こたえ

19こ

😊 ふりかえり：しきをつくることは できたかな？

たしざんもんだい

【はじめのかず（くりあがりあり、なし）】

😊 めあて：たしざんのしきをつくれるようになるう。


● つぎのもんだいにこたえましょう。

(1) りなさんはばななを2ほんたべました。あと5ほんのこっています。はじめにばななはなんほんあったでしょう。



しき		こたえ
2	+	7ほん
5	=	
7		

(2) ゆうきくんはえんぴつを8ほんつかいました。あと7ほんのこっています。はじめにえんぴつはなんほんあったでしょう。



しき		こたえ
8 + 7 = 15		15ほん

★チャレンジ! (3) はこからりんごを4こだしました。あと7こはっています。はじめになんこはっていたでしょう。

しき		こたえ
4 + 7 = 11		11こ

😊 ふりかえり：しきをつくることはできたかな？