





ながさをくらべよう






😊 めあて：ながさの くらべかたが わかるようになろう。

● ながいほうに ○を つけましょう。

①  () ②  ()

 ()  ()

● つぎの もんだいに こたえましょう。

		あ							い		
											
う										お	
				え							

- ① いちばん ながいのは どれでしょう。 ()
- ② いちばん みじかいのは どれでしょう。 ()
- ★チャレンジ ③ ながさが おなじなのは どれでしょう。 () と ()

★チャレンジ ● つぎのものを くらべるときに つかう「ことば」に それぞれ 2つ まるをつけましょう。

- (1) いえから えきまでの きより
おおきい・ながい・ちかい・たかい・ちいさい・とおい・ひくい・みじかい
- (2) えんぴつや でんしゃの ながさ
おおきい・ながい・ちかい・たかい・ちいさい・とおい・ひくい・みじかい
- (3) しんちょうや ビルの たかさ
おおきい・ながい・ちかい・たかい・ちいさい・とおい・ひくい・みじかい

😊 ふりかえり：ながさの くらべかたは わかったかな？

