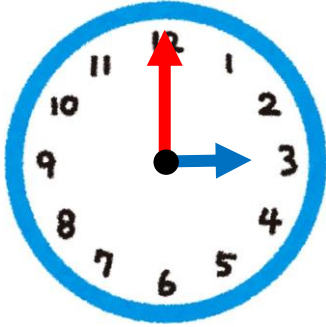


いまなんじ？

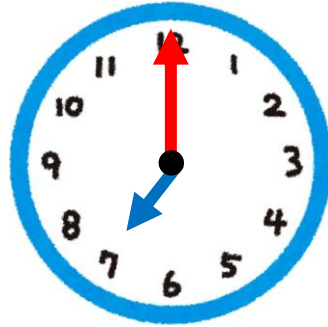
【なんじ・なんじはん】

😊 めあて：とけいをみて、なんじ・なんじはんがわかるようになろう。

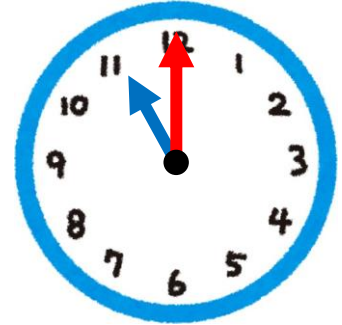
● とけいをよみましょう。



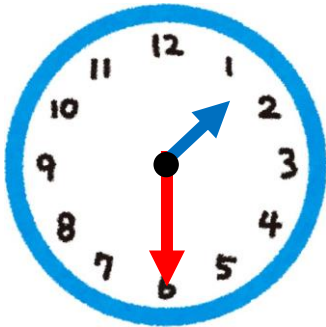
(3じ)



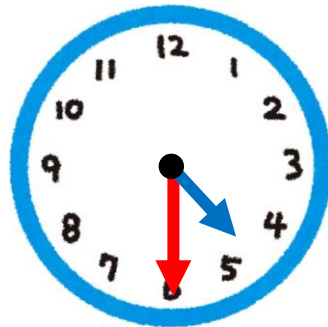
(7じ)



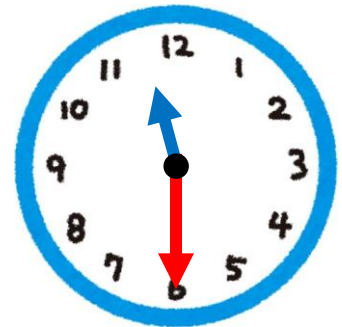
(11じ)



(1じはん)



(4じはん)



(11じはん)

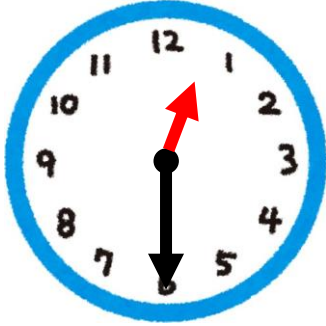
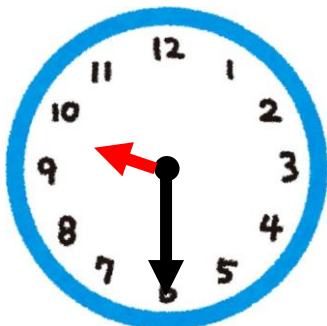

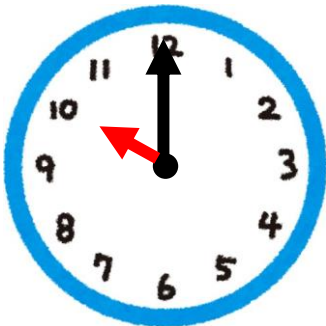
● みじかいはりをかきましょう。

10じ

1じ

9じはん

12じはん



😊 ふりかえり：とけいをみて、なんじ・なんじはんがわかるようになったかな？

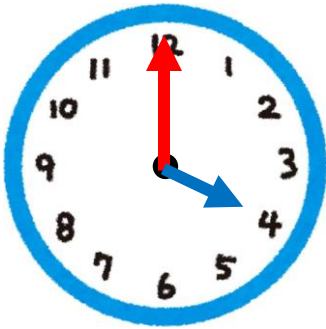
とけいをかこう

【なんじ・なんじはん】

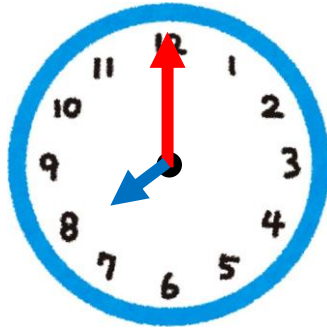
😊 めあて：とけいの はりを じぶんで かけるようになろう。

● とけいの はりを かきましょう。

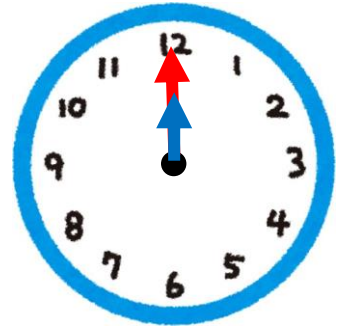
4じ



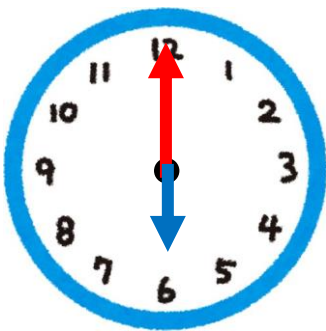
8じ



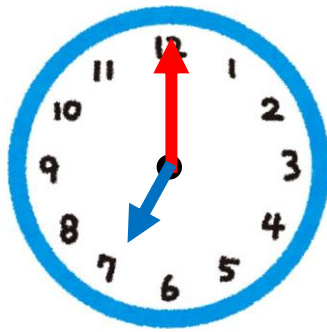
12じ



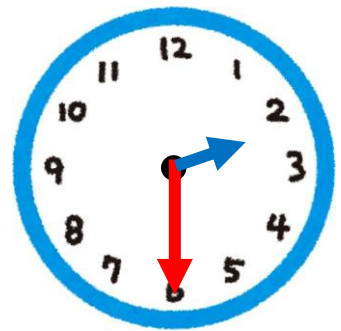
6じ



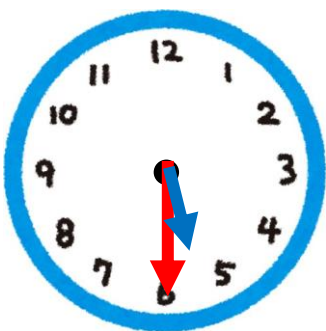
7じ



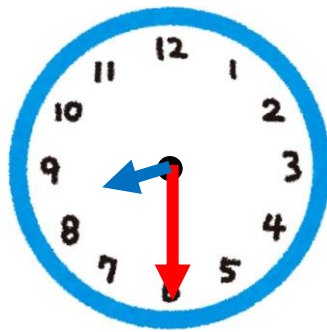
2じはん



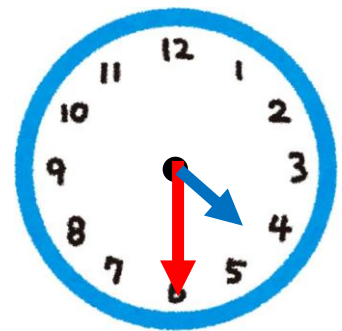
5じはん



8じはん



4じはん



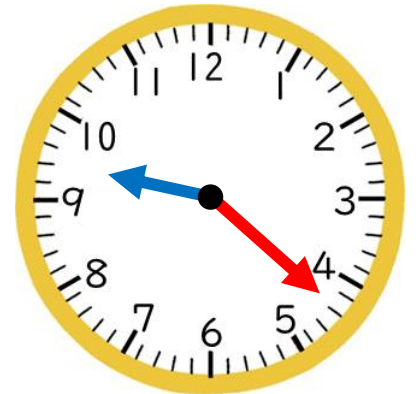
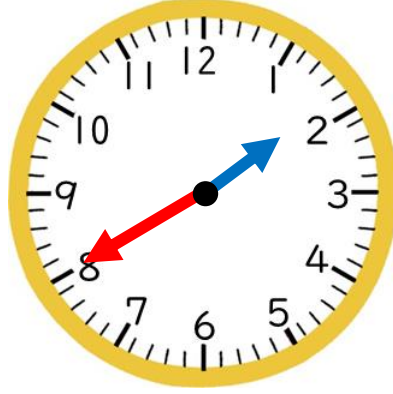
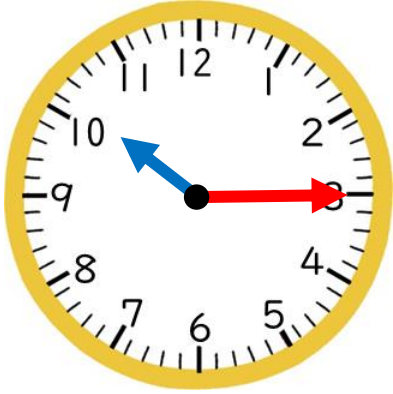
😊 ふりかえり：とけいの はりは じぶんで ただしく かけたかな？

いまなんじ？

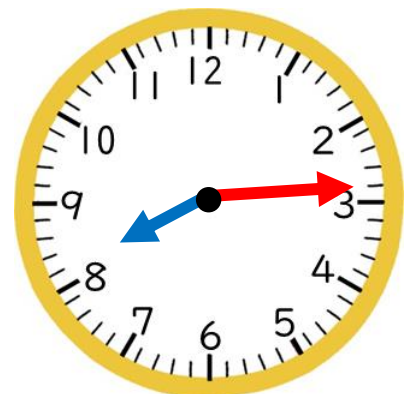
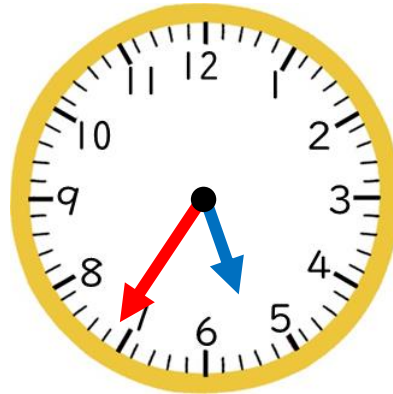
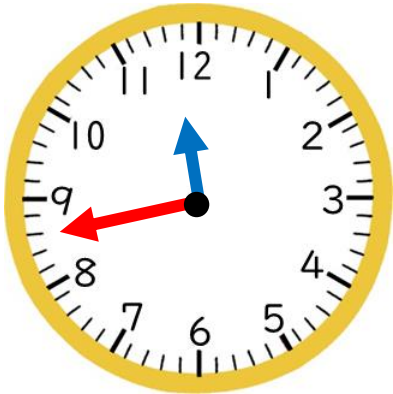
【なんじなんぷん】

😊 めあて：とけいをみて なんじ なんぷんか わかるようになろう。

● とけいを よみましょう。



(10 じ 15 ぶん) (1 じ 40 ぶん) (9 じ 22 ぶん)



(11 じ 43 ぶん) (5 じ 36 ぶん) (8 じ 14 ぶん)

● ながい はりを かきましょう。

4 じ 54 ぶん

7 じ 18 ぶん



😊 ふりかえり：とけいをみて なんじ なんぷんか わかるようになっただかな？

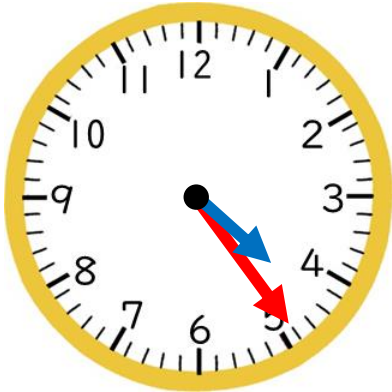
とけいをかこう

【なんじなんぷん】

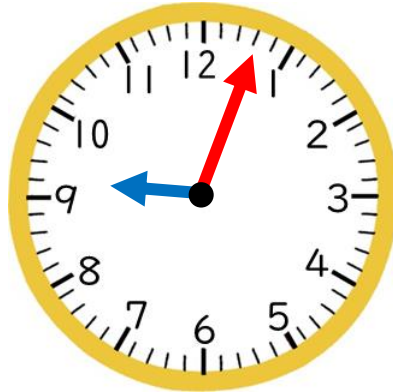
😊 めあて：とけいの はりを じぶんで かけるようになろう。

● とけいの はりを かきましょう。

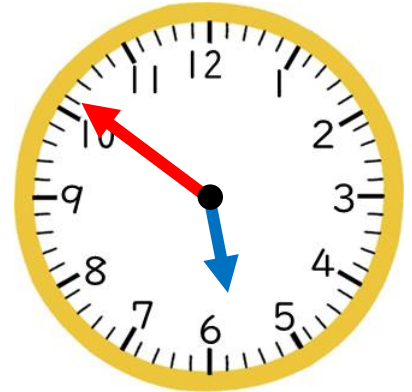
4じ 24ぶん



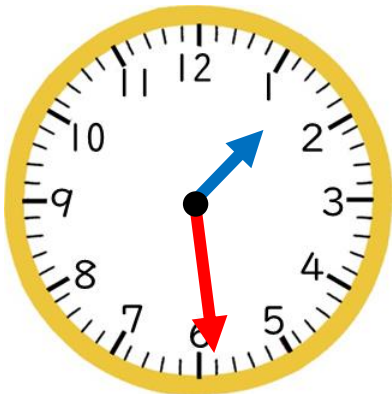
9じ 3ぶん



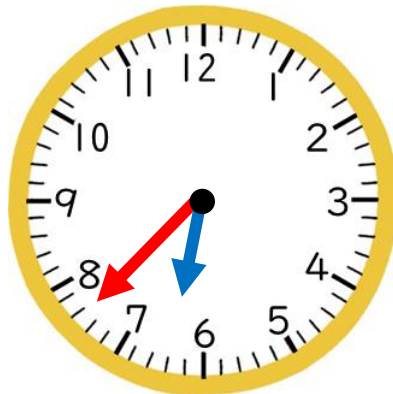
5じ 51ぶん



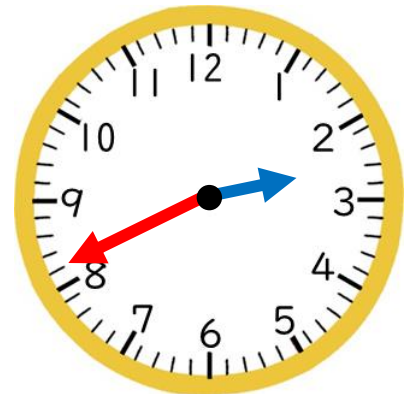
1じ 29ぶん



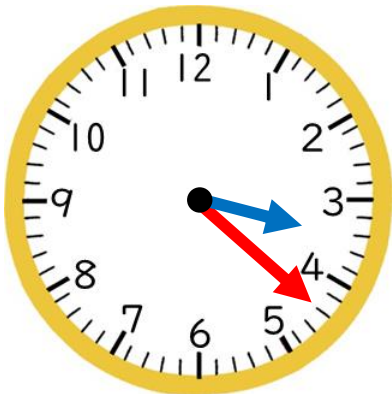
6じ 38ぶん



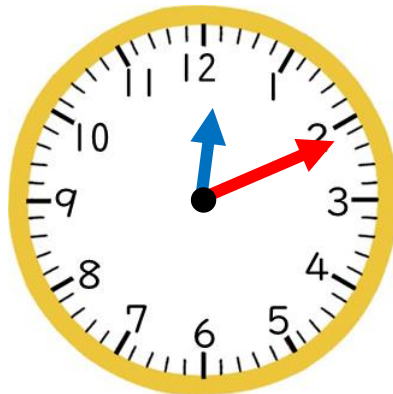
2じ 41ぶん



3じ 22ぶん



12じ 11ぶん



11じ 8ぶん



😊 ふりかえり：とけいの はりは じぶんで ただしく かけたかな？

とけいをかこう


【きょう いちにち】

😊 めあて：とけいと いちにちの せいかつを むすびつけよう。

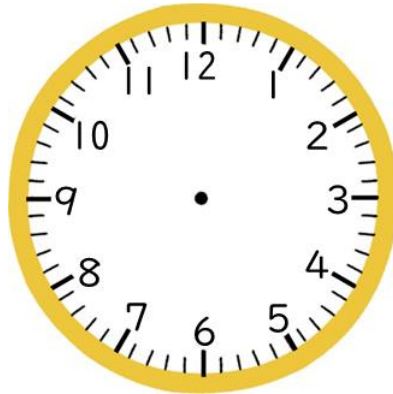
● きょう じぶんが つぎのことを した じこくを かきましょう。

※「じこく」あるきまったときのこと


「おきたじこく」




「あさごはんの
じこく」



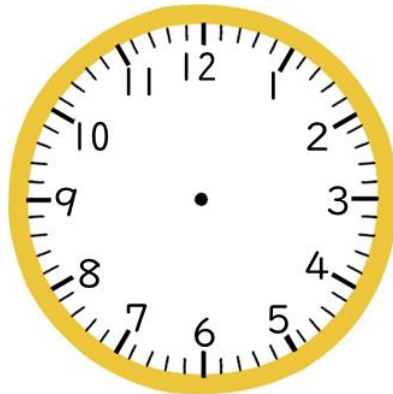
「がっこうへ
いった じこく」




「いえにかえった
じこく」



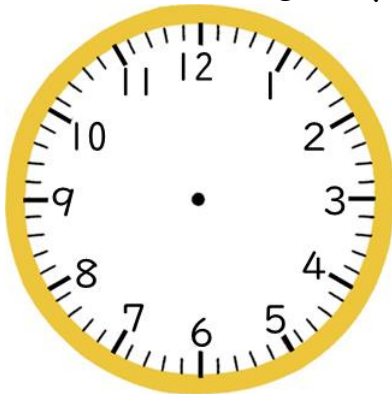
「おやつの
じこく」



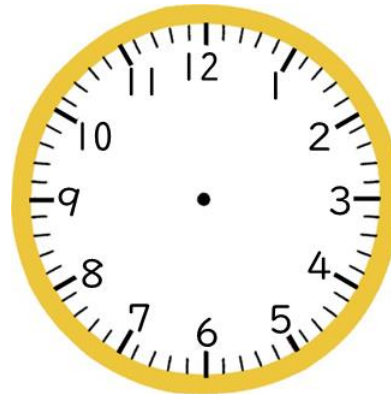
「ゆうごはんの
じこく」



「おふろにはいった
じこく」



「ねるじこく」



😊 ふりかえり：とけいと いちにちの せいかつは むすびついたかな？