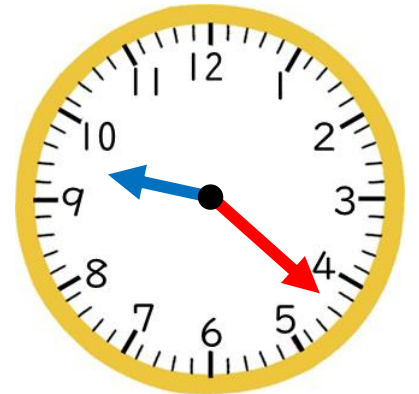
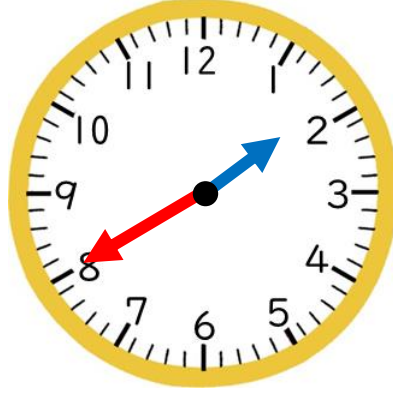
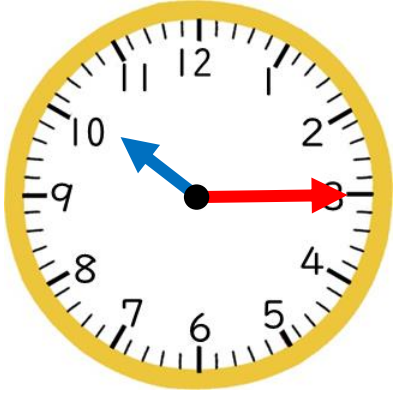


いまなんじ？

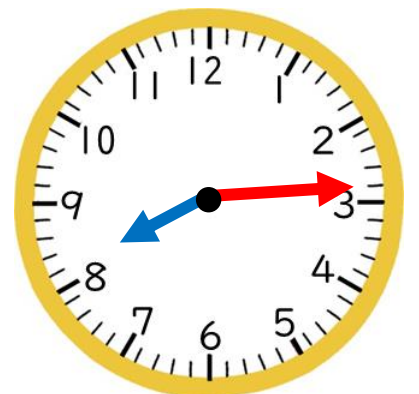
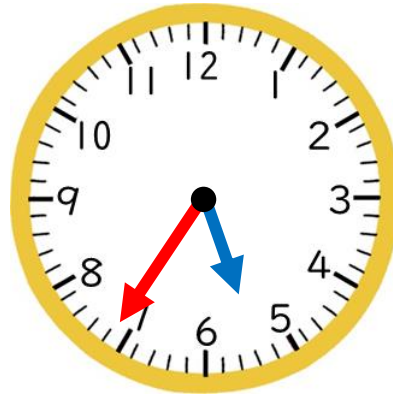
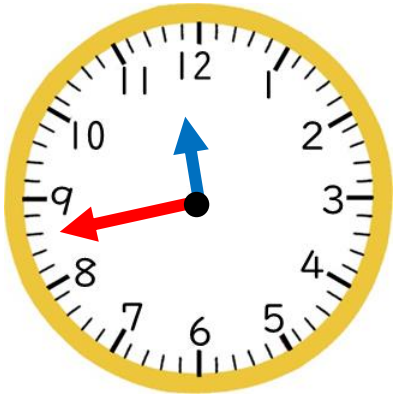
【なんじなんぷん】

😊 めあて：とけいをみて なんじ なんぷんか わかるようになろう。

● とけいを よみましょう。



(10 じ 15 ぶん) (1 じ 40 ぶん) (9 じ 22 ぶん)



(11 じ 43 ぶん) (5 じ 36 ぶん) (8 じ 14 ぶん)

● ながい はりを かきましょう。

4 じ 54 ぶん

7 じ 18 ぶん



😊 ふりかえり：とけいをみて なんじ なんぷんか わかるようになっただかな？