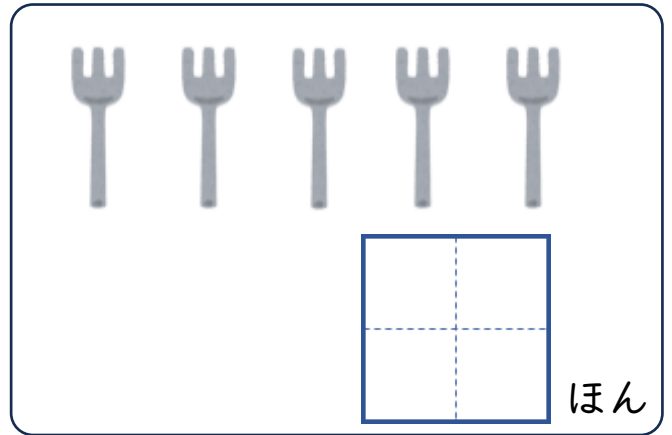
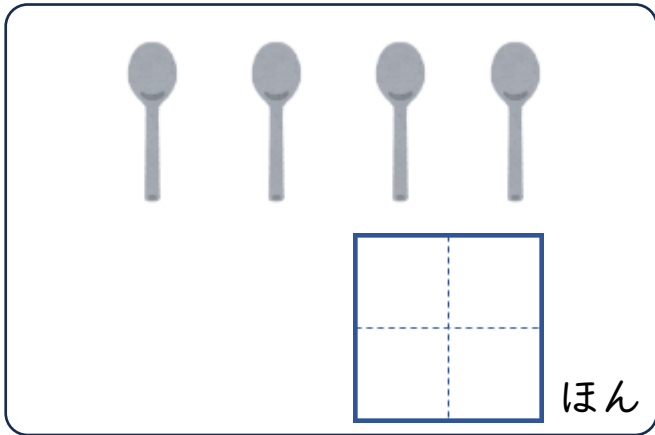


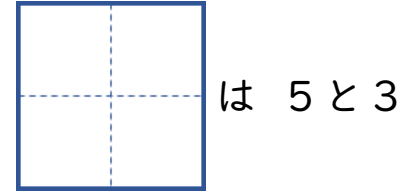
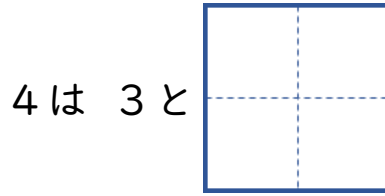
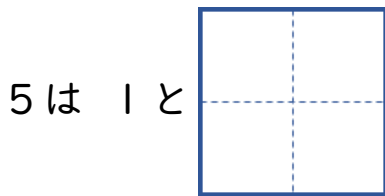
なつやすみのぷりんと ①

がっ	にち
なまえ	

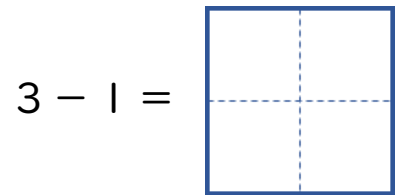
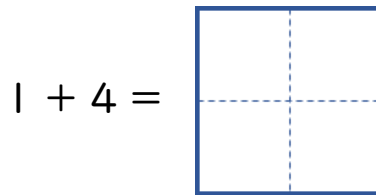
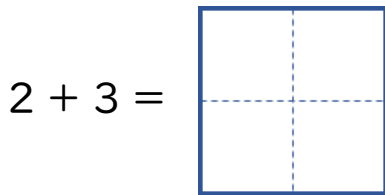
● かずを かぞえましょう。



● □に すうじを かきましょう。



● けいさんを しましょう。



● つぎの もんだいに こたえましょう。

いけに あひるが 3わ およいでいます。あとから 2わ きました。ぜんぶで なんわに なったでしょう。

しき

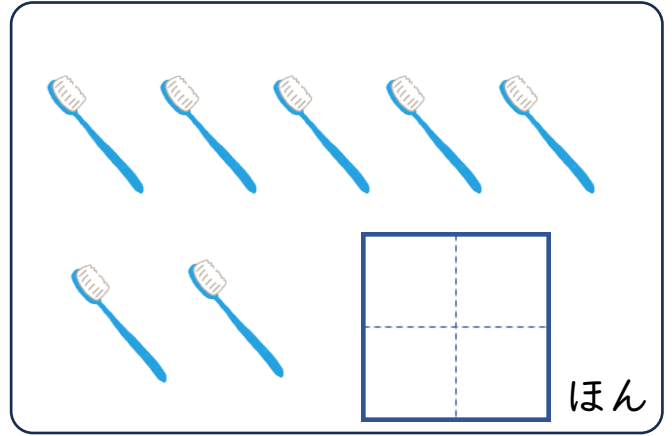
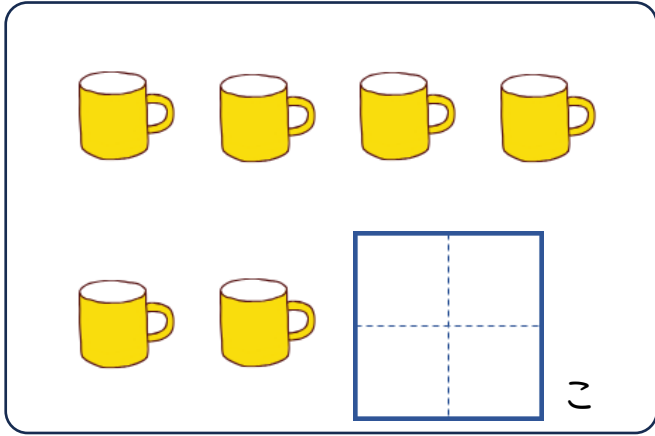
こたえ



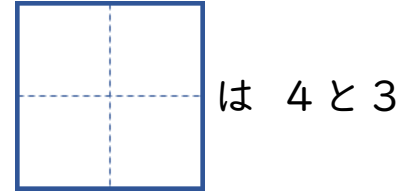
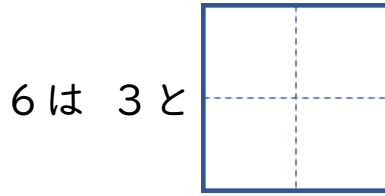
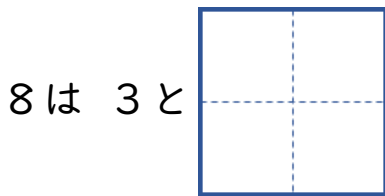
なつやすみのぷりんと ②

がっ	にち
なまえ	

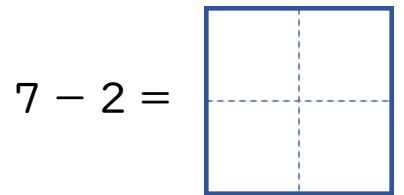
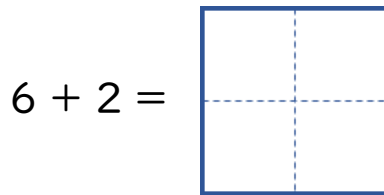
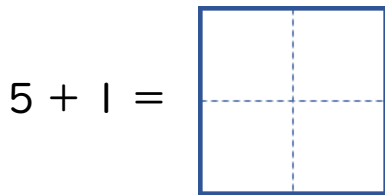
● かずを かぞえましょう。



● □に すうじを かきましょう。



● けいさんを しましょう。



● つぎの もんだいに こたえましょう。

きょうしつに こどもが 7にん います。4にん かえると のこりは なんにんでしょう。

しき

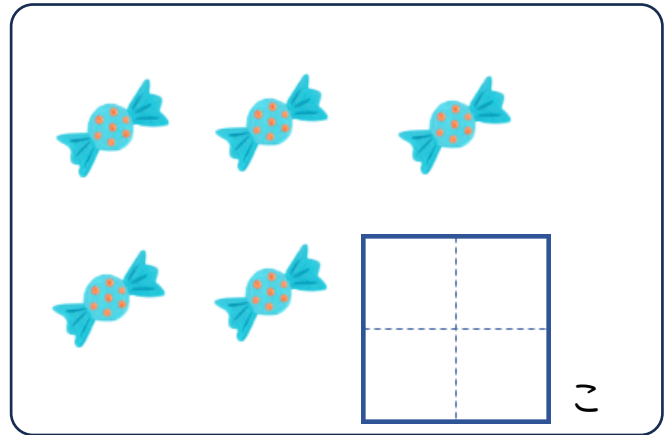
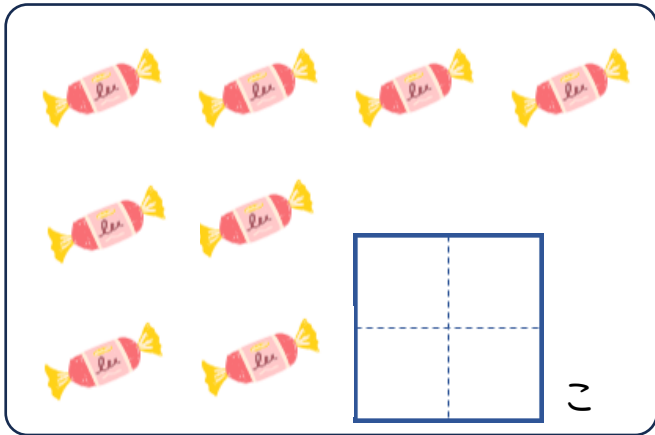
こたえ



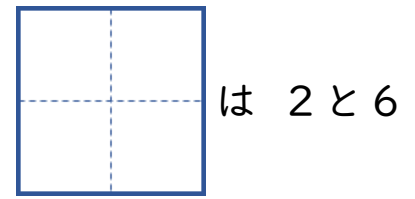
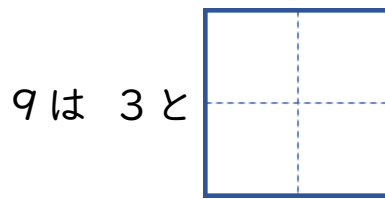
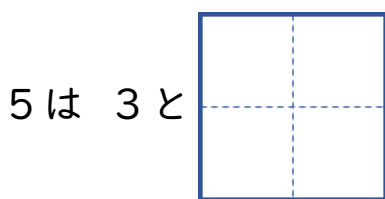
なつやすみのぷりんと ③

がっ	にち
なまえ	

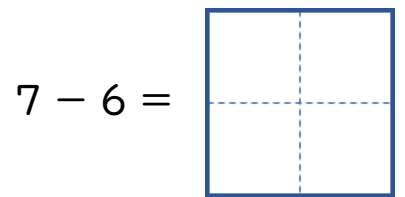
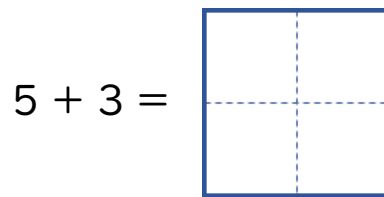
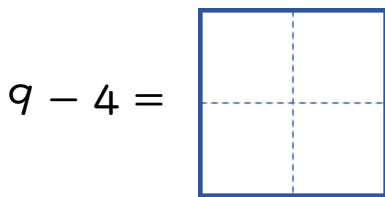
● かずを かぞえましょう。



● □に すうじを かきましょう。



● けいさんを しましょう。



● つぎの もんだいに こたえましょう。

あかえんぴつが 4ほん あります。あおえんぴつが 5ほん あります。ぜんぶで なんぼん ありますか。

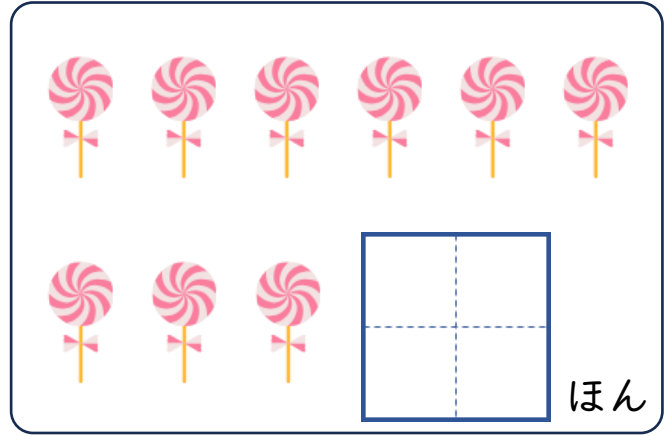
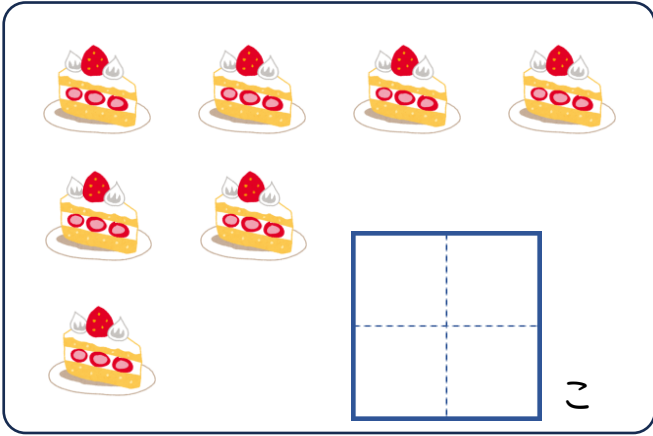
しき

こたえ

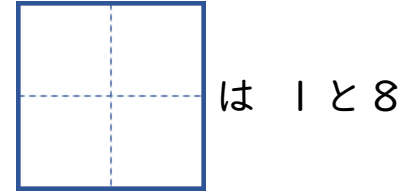
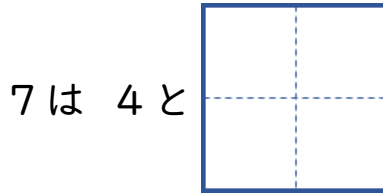
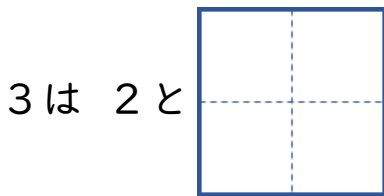


なつやすみのぷりんと ④

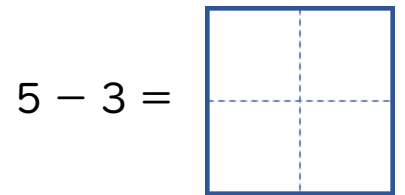
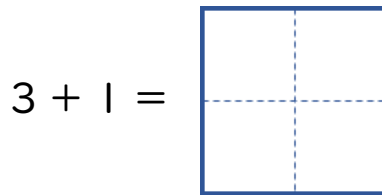
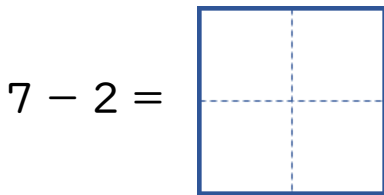
● かずを かぞえましょう。



● □に すうじを かきましょう。



● けいさんを しましょう。



● つぎの もんだいに こたえましょう。

しろい いぬと くろい いぬが 6匹き います。しろい いぬは 2ひき です。くろい いぬは なんびき いるでしょう。


しき

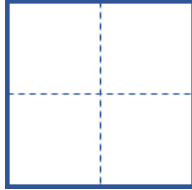

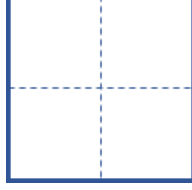
こたえ




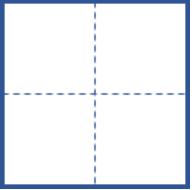
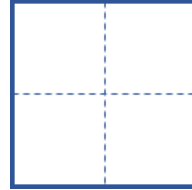
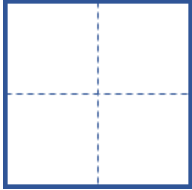
なつやすみのぷりんと ⑤

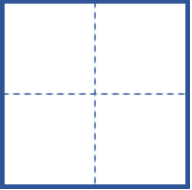
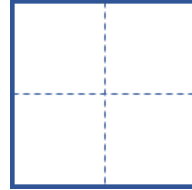
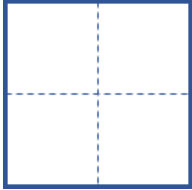
がっ	にち
なまえ	

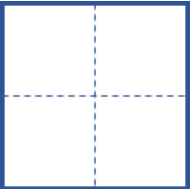
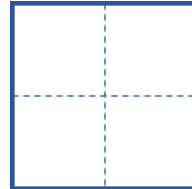
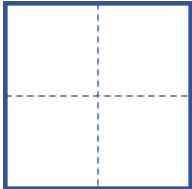
●  に すうじを かきましょう。

4は 2と  6は 2と   は 1と7

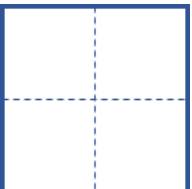
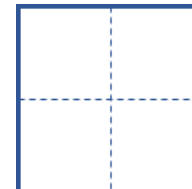
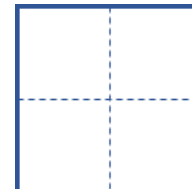
●  に すうじを かきましょう。

10は 6と  10は 8と  10は 3と 

10は 1と  10は 9と  10は 5と 

10は 2と  10は 7と  10は 4と 

● けいさんを しましょう。

$3 + 1 =$  $8 - 4 =$  $2 + 1 =$ 

● つぎの もんだいに こたえましょう。

あかい ぼうしが 7こ あります。しろい ぼうしが 4こ あります。
あかい ぼうしは しろい ぼうしより なんこ おおいでしょう。

しき

こたえ



なつやすみのぷりんと ⑥

がっ	にち
なまえ	

● に すうじを かきましょう。

8は 4と 9は 6と は 3と 4

● に すうじを かきましょう。

10は 4と 10は 5と 10は 8と
 10は 2と 10は 1と 10は 3と
 10は 7と 10は 9と 10は 6と

● けいさんを しましょう。

$3 + 1 =$ $8 - 4 =$ $2 + 6 =$

● つぎの もんだいに こたえましょう。

ひだりの かだんにはなが 8ほん さきました。みぎのかだんにはなが 7ほん さきました。どちらが なんほん おおいでしょう。

しき

こたえ



なつやすみのぷりんと ⑦

- ちいさい じゆんに すうじが ならんでいます。
あいている ところに すうじを かきましょう。

①

	2		4	5	
--	---	--	---	---	--

②

5	6			9	
---	---	--	--	---	--

③

	1		3		5
--	---	--	---	--	---

- けいさんを しましょう。

$1 + 6 =$

--

 $7 + 2 =$

--

 $10 - 7 =$

--

- つぎの もんだいに こたえましょう。

だいこんが 7ほん、にんじんが 2ほん あります。どちらが なんぼん おおいでしょう。

しき

--

こたえ

--



なつやすみのぷりんと ⑧

がっ	にち
なまえ	

- おおきいじゅんにすうじがならんでいます。
あいているところにすうじをかきましょう。

①

	9		7	6	
--	---	--	---	---	--

②

8		6		4	
---	--	---	--	---	--

③

	4		2		
--	---	--	---	--	--

- けいさんを しましょう。

$6 + 3 =$	<input type="text"/>	$7 + 2 =$	<input type="text"/>	$5 - 3 =$	<input type="text"/>
$9 - 8 =$	<input type="text"/>	$8 - 4 =$	<input type="text"/>	$2 + 4 =$	<input type="text"/>

- つぎの もんだいに こたえましょう。

りんごが 9こ あります。みかんが 3こ あります。りんごと みかんの かずの ちがいは なんこでしょう。

しき

こたえ



なつやすみのぷりんと ⑨

がっ	にち
なまえ	

● けいさんを しましょう。

$7 - 3 =$

$8 - 5 =$


$2 + 7 =$


$4 + 5 =$

$9 - 4 =$

$8 + 1 =$

● ○でかこみましょう。

みぎから ひだり  みぎ
2 ひきめ

ひだりから ひだり  みぎ
3 ひき

うしろから まえ  うしろ
4 ひきめ

まえから まえ  うしろ
6 ひき

● つぎの もんだいに こたえましょう。

きんいろの おりがみが 9まい あります。しろいろの おりがみが 6まい あります。きんいろの おりがみは しろいろの おりがみより なんまい おおいでしょう。

しき

--

こたえ

--



なつやすみのぷりんと ⑩

がっ	にち
なまえ	

● どちらが おおきい かな。おおきい ほうに ○を しましょう。

① 8 ・ 3

② 10 ・ 9

③ 3 ・ 4

④ 7 ・ 2


⑤ 0 ・ 1

⑥ 6 ・ 9

● ○でかこみましょう。

ひだりから
5ひき


ひだり



みぎ

みぎから
3びきめ

ひだり



みぎ

まえから
2ひきめ

まえ



うしろ

うしろから
4ひき

まえ



うしろ

● つぎの もんだいに こたえましょう。

すずめが 8わ います。3わ とんでいくと のこりは なんわに
なるでしょう。

しき

こたえ



● けいさんを しましょう。

$5 + 5 =$

$2 + 4 =$

$3 - 1 =$

$3 + 6 =$

$9 - 6 =$

$7 - 5 =$

$3 - 2 =$

$4 + 2 =$

$3 + 1 =$

$8 - 3 =$

$6 + 2 =$

$10 - 4 =$

● の なかに あてはまる すうじを かきましょう。

$1 +$ $= 9$

$+ 4 = 10$

$6 -$ $= 3$

$- 3 = 5$

$+ 4 = 7$

$- 1 = 9$

● つぎの もんだいに こたえましょう。

せの たかい きが 6ぼん あります。せの ひくい きが 3ぼん あります。きは ぜんぶで なんぼん あるでしょう。

しき

こたえ



● けいさんを しましょう。

$10 - 2 =$	<input type="text"/>	$9 + 1 =$	<input type="text"/>	$6 - 3 =$	<input type="text"/>
$2 + 7 =$	<input type="text"/>	$1 + 6 =$	<input type="text"/>	$8 - 1 =$	<input type="text"/>
$6 - 5 =$	<input type="text"/>	$5 + 3 =$	<input type="text"/>	$7 + 3 =$	<input type="text"/>
$4 + 5 =$	<input type="text"/>	$3 + 4 =$	<input type="text"/>	$10 - 6 =$	<input type="text"/>

● の なかに あてはまる すうじを かきましょう。

<input type="text"/> + 4 = 6	<input type="text"/> - 6 = 1	<input type="text"/> + 3 = 10
4 + <input type="text"/> = 8	<input type="text"/> - 2 = 1	7 - <input type="text"/> = 2

● つぎの もんだいに こたえましょう。

せの たかい きが 6ぼん あります。せの ひくい きが 3ぼん あります。せの たかい きと ひくい きの ちがいは なんぼんでしょう。

しき

こたえ



● けいさんを しましょう。

$4 - 3 =$

$6 + 4 =$

$8 - 7 =$

$7 + 2 =$

$9 - 3 =$

$3 + 4 =$

●

--

 の なかに あてはまる すうじを かきましょう。

$5 -$

 $= 2$

 $+ 2 = 9$

$8 -$

 $= 6$

 $+ 1 = 3$

$7 +$

 $= 9$

 $- 7 = 1$

 $+ 4 = 5$

 $+ 3 = 5$

 $- 7 = 3$

$1 +$

 $= 10$

 $- 2 = 7$

$9 -$

 $= 5$

● つぎの もんだいに こたえましょう。

めろんぱんが 6こ あります。あんぱんが 2こ あります。めろんぱんは あんぱんより なんこ おおいでしょう。

しき

--

こたえ

--



● けいさんを しましょう。

$9 - 3 =$

$7 - 4 =$

$3 + 3 =$

$4 + 3 =$

$8 + 2 =$

$7 - 2 =$

● の なかに あてはまる すうじを かきましょう。

+ 1 = 6

$3 +$ $= 7$

- 3 = 2

$6 +$ $= 9$

+ 5 = 8

$6 -$ $= 2$

+ 4 = 5

+ 1 = 5

- 4 = 3

$4 +$ $= 8$

+ 2 = 5

$9 -$ $= 5$

● つぎの もんだいに こたえましょう。

あんぱんが 8こ あります。めろんぱんが 5こ あります。どちらが なんこ おおいでしょう。

しき

こたえ

