
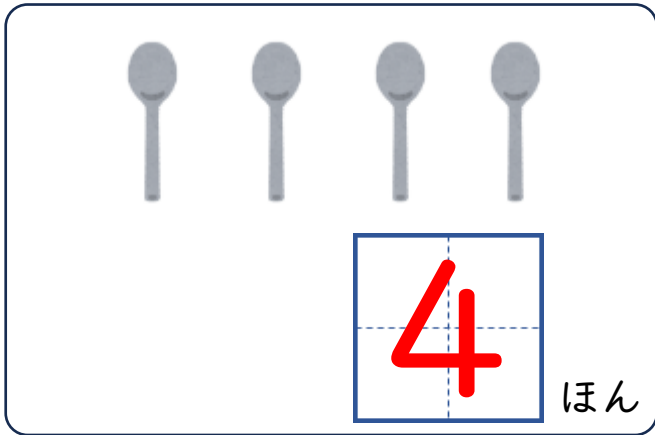


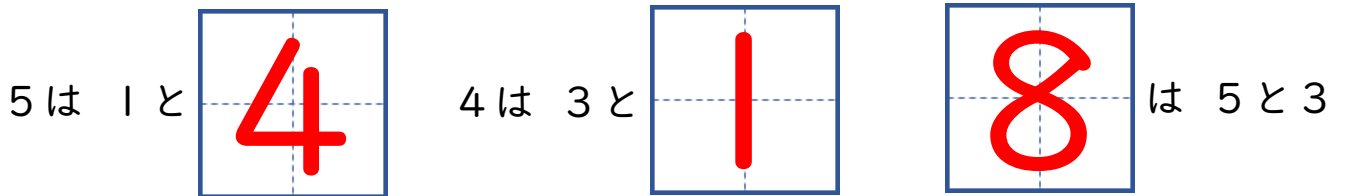
# なつやすみのぷりんと ①

|     |    |
|-----|----|
| がっ  | にち |
| なまえ |    |

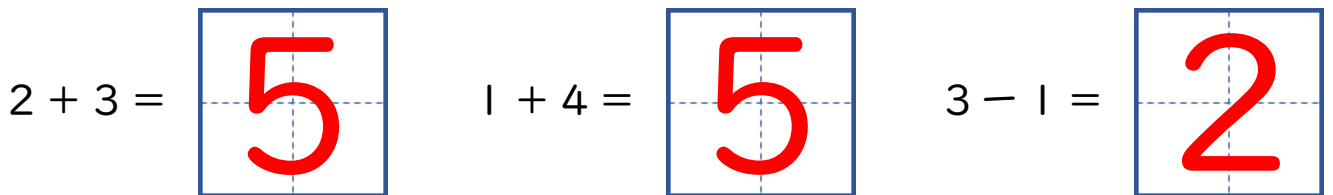
● かずを かぞえましょう。



● □に すうじを かきましょう。



● けいさんを しましょう。



● つぎの もんだいに こたえましょう。

いけに あひるが 3わ およいでいます。あとから 2わ きました。  
ぜんぶで なんわに なったでしょう。

しき

$$3 + 2 = 5$$


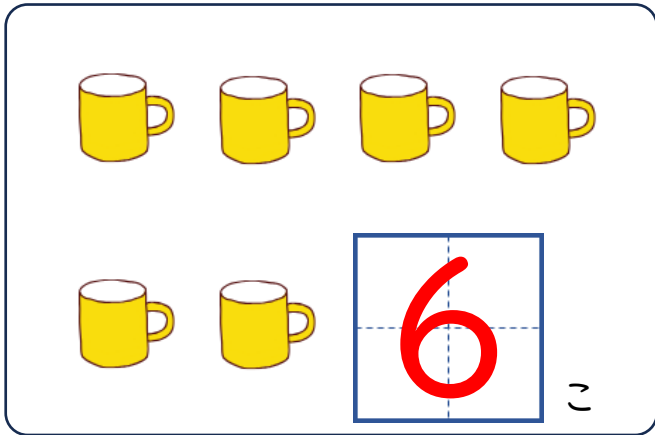
こたえ

5わ

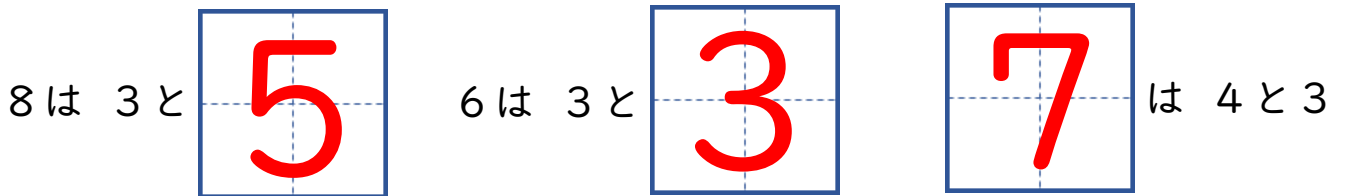
# なつやすみのぷりんと ②

|     |    |
|-----|----|
| がつ  | にち |
| なまえ |    |

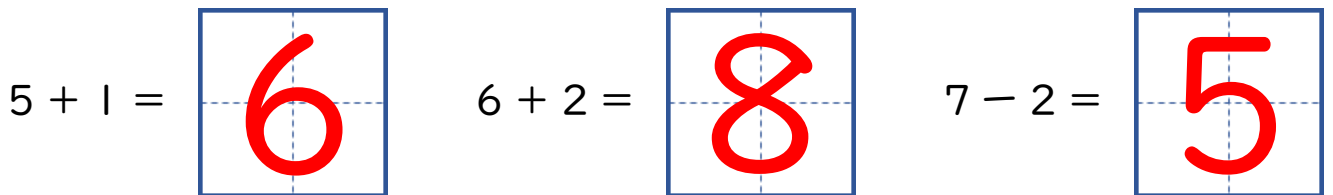
● かずを かぞえましょう。



● □に すうじを かきましょう。



● けいさんを しましょう。



● つぎの もんだいに こたえましょう。

きょうしつに こどもが 7にん います。4にん かえると のこりは なんにんでしょう。

しき

$$7 - 4 = 3$$

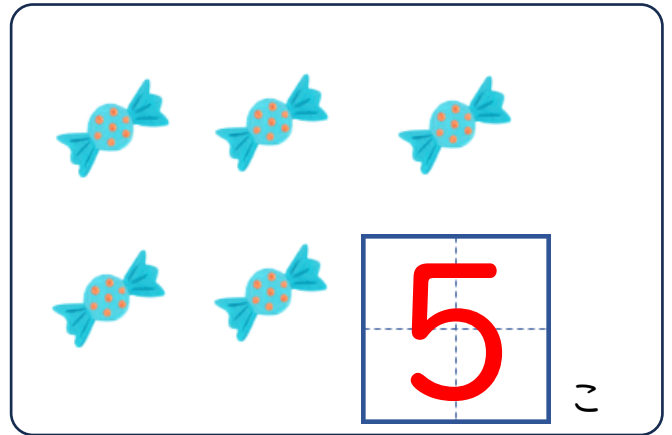

こたえ

3にん

# なつやすみのぷりんと ③

|     |    |
|-----|----|
| がつ  | にち |
| なまえ |    |

● かずを かぞえましょう。



● □に すうじを かきましょう。

5は 3と 2      9は 3と 6      8 は 2と 6

● けいさんを しましょう。

$9 - 4 =$  5       $5 + 3 =$  8       $7 - 6 =$  1

● つぎの もんだいに こたえましょう。

あかえんぴつが 4ほん あります。あおえんぴつが 5ほん あります。ぜんぶで なんほん ありますか。

しき

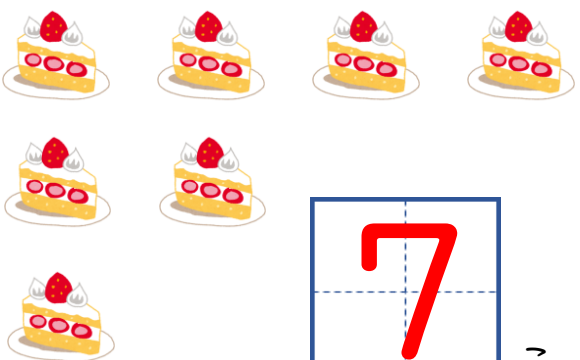
$4 + 5 = 9$

こたえ

9ほん

# なつやすみのぷりんと ④

● かずを かぞえましょう。

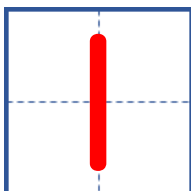




こ






ほん

● □に すうじを かきましょう。

3は 2と  7は 4と   は 1と 8

● けいさんを しましょう。

$7 - 2 =$    $3 + 1 =$    $5 - 3 =$  

● つぎの もんだいに こたえましょう。


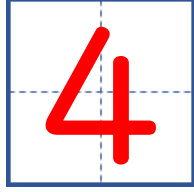
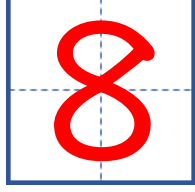
しろい いぬと くろい いぬが 6ひき います。しろい いぬは 2ひき です。くろい いぬは なんびき いるでしょう。

しき  $6 - 2 = 4$



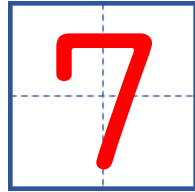

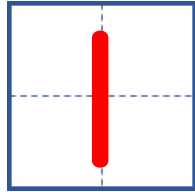

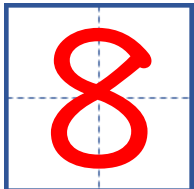

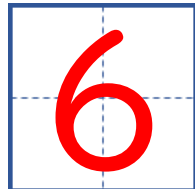
こたえ 4ひき

# なつやすみのぷりんと ⑤


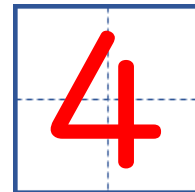
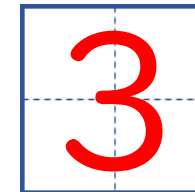
●  に すうじを かきましょう。

4は 2と  6は 2と   は 1と7

●  に すうじを かきましょう。

10は 6と  10は 8と  10は 3と   
 10は 1と  10は 9と  10は 5と   
 10は 2と  10は 7と  10は 4と 

● けいさんを しましょう。

3 + 1 =  8 - 4 =  2 + 1 = 

● つぎの もんだいに こたえましょう。

あかい ぼうしが 7こ あります。しろい ぼうしが 4こ あります。  
あかい ぼうしは しろい ぼうしより なんこ おおいでしょう。

しき

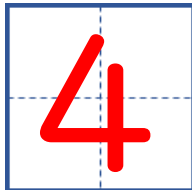

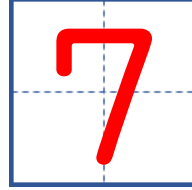
$7 - 4 = 3$

こたえ


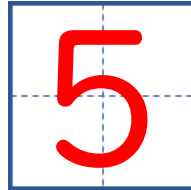

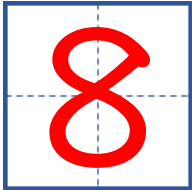
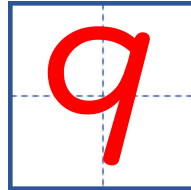
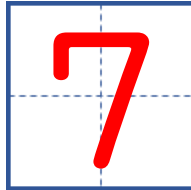

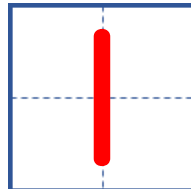
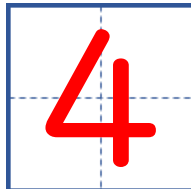
3こ

# なつやすみのぷりんと ⑥

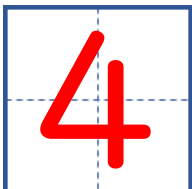
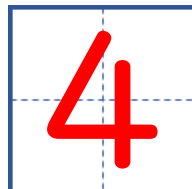
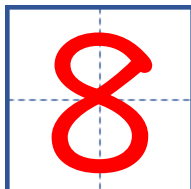
● □に すうじを かきましょう。

8は 4と  9は 6と   は 3と 4

● □に すうじを かきましょう。

10は 4と  10は 5と  10は 8と   
10は 2と  10は 1と  10は 3と   
10は 7と  10は 9と  10は 6と 

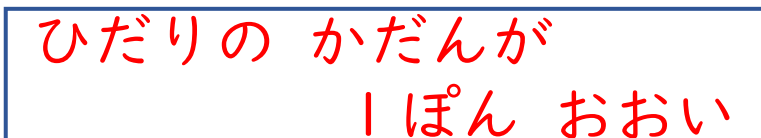
● けいさんを しましょう。

$3 + 1 =$    $8 - 4 =$    $2 + 6 =$  

● つぎの もんだいに こたえましょう。

ひだりの かだんにはなが 8ほん さきました。みぎのかだんにはなが 7ほん さきました。どちらが なんほん おおいでしょう。

しき 

こたえ 

# なつやすみのぷりんと ⑦

- ちいさい じゆんに すうじが ならんでいます。  
あいている ところに すうじを かきましょう。

①

|   |   |   |   |   |   |
|---|---|---|---|---|---|
| 1 | 2 | 3 | 4 | 5 | 6 |
|---|---|---|---|---|---|

②

|   |   |   |   |   |    |
|---|---|---|---|---|----|
| 5 | 6 | 7 | 8 | 9 | 10 |
|---|---|---|---|---|----|

③

|   |   |   |   |   |   |
|---|---|---|---|---|---|
| 0 | 1 | 2 | 3 | 4 | 5 |
|---|---|---|---|---|---|

- けいさんを しましょう。

$1 + 6 =$  7       $7 + 2 =$  9       $10 - 7 =$  3

- つぎの もんだいに こたえましょう。

だいこんが 7ほん、にんじんが 2ほん あります。どちらが なんぼん おおいでしょう。

しき  $7 - 2 = 5$

こたえ だいこんが 5ほん おおい

# なつやすみのぷりんと ⑧

- おおきいじゅんにすうじがならんでいます。  
あいているところにすうじをかきましょう。

①

|    |   |   |   |   |   |
|----|---|---|---|---|---|
| 10 | 9 | 8 | 7 | 6 | 5 |
|----|---|---|---|---|---|

②

|   |   |   |   |   |   |
|---|---|---|---|---|---|
| 8 | 7 | 6 | 5 | 4 | 3 |
|---|---|---|---|---|---|

③

|   |   |   |   |   |   |
|---|---|---|---|---|---|
| 5 | 4 | 3 | 2 | 1 | 0 |
|---|---|---|---|---|---|

- けいさんを しましょう。

|           |   |           |   |           |   |
|-----------|---|-----------|---|-----------|---|
| $6 + 3 =$ | 9 | $7 + 2 =$ | 9 | $5 - 3 =$ | 2 |
| $9 - 8 =$ | 1 | $8 - 4 =$ | 4 | $2 + 4 =$ | 6 |

- つぎの もんだいに こたえましょう。

りんごが 9こ あります。みかんが 3こ あります。りんごと みかんの かずの ちがいは なんこでしょう。

しき

$$9 - 3 = 6$$

こたえ

$$6こ$$

# なつやすみのぷりんと ⑨

|     |    |
|-----|----|
| がっ  | にち |
| なまえ |    |

● けいさんを しましょう。

$7 - 3 = 4$

$8 - 5 = 3$


$2 + 7 = 9$

$4 + 5 = 9$


$9 - 4 = 5$

$8 + 1 = 9$

● ○でかこみましょう。

みぎから 2ひきめ      ひだり            みぎ

The 5th monkey face from the left is circled in red.

ひだりから 3びき      ひだり            みぎ

The first 3 monkey faces from the left are circled in red.

うしろから 4ひきめ      まえ            うしろ

The 4th chick from the left is circled in red.

まえから 6びき      まえ            うしろ

The first 6 chick icons from the left are circled in red.

● つぎの もんだいに こたえましょう。

きんいろの おりがみが 9まい あります。しろいろの おりがみが 6まい あります。きんいろの おりがみは しろいろの おりがみより なんまい おおいでしょう。

しき

$9 - 6 = 3$

こたえ

3まい

# なつやすみのぷりんと ⑩

|     |    |
|-----|----|
| がっ  | にち |
| なまえ |    |

● どちらが おおきい かな。おおきい ほうに ○を しましょう。

① **8** ・ 3

② **10** ・ 9

③ 3 ・ **4**

④ **7** ・ 2

⑤ 0 ・ **1**

⑥ 6 ・ **9**

● ○でかこみましょう。

ひだりから  
5ひき


ひだり



みぎ

みぎから  
3びきめ


ひだり



みぎ

まえから  
2ひきめ


まえ



うしろ

うしろから  
4ひき

まえ



うしろ

● つぎの もんだいに こたえましょう。

すずめが 8わ います。3わ とんでいくと のこりは なんわに  
なるでしょう。

しき

$$8 - 3 = 5$$

こたえ

5わ

● けいさんを しましょう。

$5 + 5 = 10$

$2 + 4 = 6$

$3 - 1 = 2$

$3 + 6 = 9$

$9 - 6 = 3$

$7 - 5 = 2$

$3 - 2 = 1$

$4 + 2 = 6$

$3 + 1 = 4$

$8 - 3 = 5$

$6 + 2 = 8$

$10 - 4 = 6$

● □ の なかに あてはまる すうじを かきましょう。

$1 + 8 = 9$

$6 + 4 = 10$

$6 - 3 = 3$

$8 - 3 = 5$

$3 + 4 = 7$

$10 - 1 = 9$

● つぎの もんだいに こたえましょう。

せの たかい きが 6ぼん あります。せの ひくい きが 3ぼん あります。きは ぜんぶで なんぼん あるでしょう。

しき

$6 + 3 = 9$

こたえ

9ぼん

● けいさんを しましょう。

|            |  |           |  |            |  |
|------------|--|-----------|--|------------|--|
| $10 - 2 =$ |  | $9 + 1 =$ |  | $6 - 3 =$  |  |
| $2 + 7 =$  |  | $1 + 6 =$ |  | $8 - 1 =$  |  |
| $6 - 5 =$  |  | $5 + 3 =$ |  | $7 + 3 =$  |  |
| $4 + 5 =$  |  | $3 + 4 =$ |  | $10 - 6 =$ |  |

● の なかに あてはまる すうじを かきましょう。

|          |         |          |
|----------|---------|----------|
| + 4 = 6  | - 6 = 1 | + 3 = 10 |
| 4 +  = 8 | - 2 = 1 | 7 -  = 2 |

● つぎの もんだいに こたえましょう。

せの たかい きが 6ぼん あります。せの ひくい きが 3ぼん あります。せの たかい きと ひくい きの ちがいは なんぼんでしょう。

しき

$$6 - 3 = 3$$

こたえ

3ぼん

● けいさんを しましょう。

$4 - 3 = 1$

$6 + 4 = 10$

$8 - 7 = 1$

$7 + 2 = 9$

$9 - 3 = 6$

$3 + 4 = 7$

● □ の なかに あてはまる すうじを かきましょう。

$5 - 3 = 2$

$7 + 2 = 9$

$8 - 2 = 6$

$2 + 1 = 3$

$7 + 2 = 9$

$8 - 7 = 1$

$1 + 4 = 5$

$2 + 3 = 5$

$10 - 7 = 3$

$1 + 9 = 10$

$9 - 2 = 7$

$9 - 4 = 5$

● つぎの もんだいに こたえましょう。

めろんぱんが 6こ あります。あんぱんが 2こ あります。めろんぱんは あんぱんより なんこ おおいでしょう。

しき

$6 - 2 = 4$

こたえ

$4こ$

● けいさんを しましょう。

$9 - 3 = 6$

$7 - 4 = 3$

$3 + 3 = 6$

$4 + 3 = 7$

$8 + 2 = 10$

$7 - 2 = 5$

● □ の なかに あてはまる すうじを かきましょう。

$5 + 1 = 6$

$3 + 4 = 7$

$5 - 3 = 2$

$6 + 3 = 9$

$3 + 5 = 8$

$6 - 4 = 2$

$1 + 4 = 5$

$4 + 1 = 5$

$7 - 4 = 3$

$4 + 4 = 8$

$3 + 2 = 5$

$9 - 4 = 5$

● つぎの もんだいに こたえましょう。

あんぱんが 8こ あります。めろんぱんが 5こ あります。どちらが なんこ おおいでしょう。

しき  $8 - 5 = 3$

こたえ  $あんぱんが 3こ おおい$