
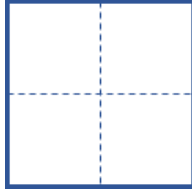

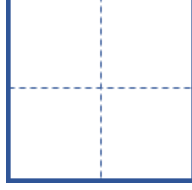



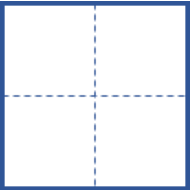
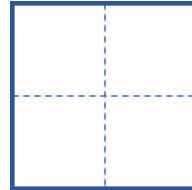
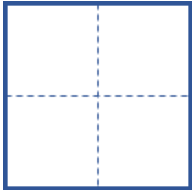
# なつやすみのぷりんと ⑤

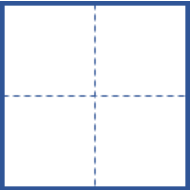
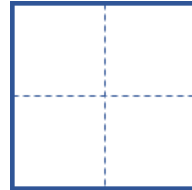
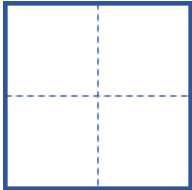
がつ	にち
なまえ	

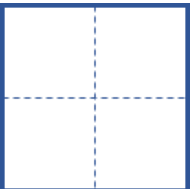
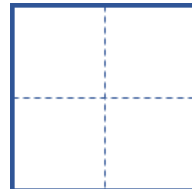
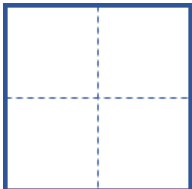
●  に すうじを かきましょう。

4は 2と       6は 2と        は 1と7

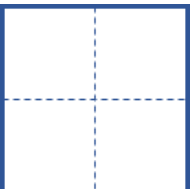
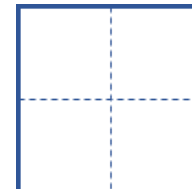
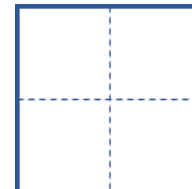
●  に すうじを かきましょう。

10は 6と       10は 8と       10は 3と 

10は 1と       10は 9と       10は 5と 

10は 2と       10は 7と       10は 4と 

● けいさんを しましょう。

$3 + 1 =$         $8 - 4 =$         $2 + 1 =$  

● つぎの もんだいに こたえましょう。

あかい ぼうしが 7こ あります。しろい ぼうしが 4こ あります。  
あかい ぼうしは しろい ぼうしより なんこ おおいでしょう。

しき

こたえ

