

3けたのかず

【120より大きいかず】

😊 めあて：120より 大きいかずを あらわせるようになろう。

● つぎの ブロックの かずを すう字で かきましょう。

(1)

ブロック 100こ

ブロック 10こ

ブロック 1こ

(2)

(3)

(4)

😊 ふりかえり：120より 大きいかずは あらわせたかな？



3けたのかず

【百のくらい、十のくらい、一のくらい】

😊 めあて：百のくらい、十のくらい、一のくらいがわかるようになろう。

● 百のくらい、十のくらい、一のくらいの すう字を こたえましょう。

(1) 429

百のくらい 十のくらい 一のくらい

(2) 958

百のくらい 十のくらい 一のくらい

(3) 702

百のくらい 十のくらい 一のくらい

(4) 350

百のくらい 十のくらい 一のくらい

● つぎの かずを よみましょう。

(1) 613

(2) 179

(3) 556

(4) 290

(5) 824

(6) 700

● つぎの かずを すう字で かきましょう。

(1) 六百十三

(2) 百七十九

(3) 五百五十六

(4) 二百九十

(5) 九百

(6) 七百四

😊 ふりかえり：百のくらい、十のくらい、一のくらいは わかったかな？




3けたのかず


【お金をかぞえよう (1)】

😊 めあて：お金の かぞえかたが わかるようになる。

● つぎの お金は ぜんぶで なん円でしょう。


(1)  100円が 4まいで 400円

 10円が 2まいで 20円

 1円が 3まいで 3円

 円

(2)  100円が 5まいで 500円

 10円が 4まいで 40円

 1円が 5まいで 5円

 円

(3) 





 円

(4) 





 円

(5) 



 円

😊 ふりかえり：お金の かぞえかたは わかったかな？



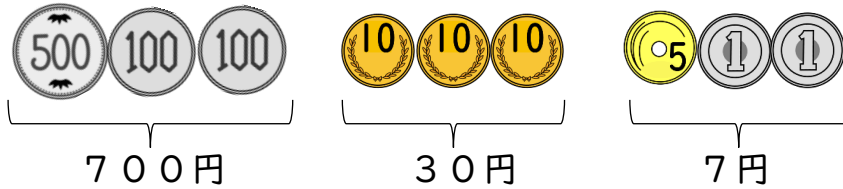
3けたのかず

【お金をかぞえよう (2)】

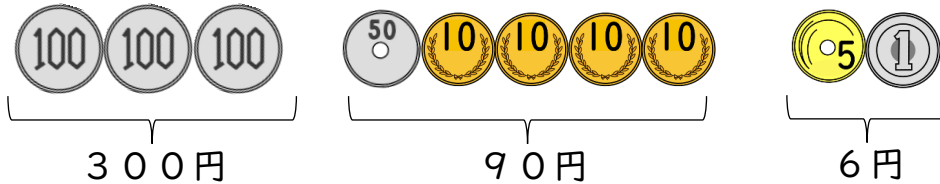
😊 めあて：お金の かぞえかたが わかるようになるう。

● つぎの お金は ぜんぶで なん円でしょう。

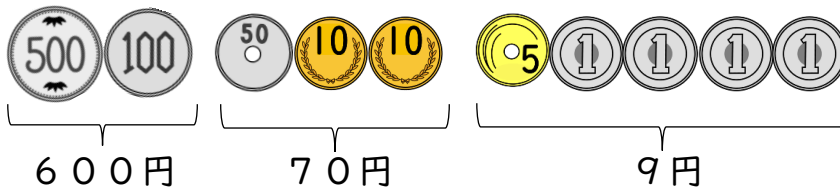
(1)


 円


(2)


 円


(3)


 円

(4)


 円

(5)


 円

😊 ふりかえり：お金の かぞえかたは わかったかな？



3けたのかず

【お金をかぞえよう (3)】

😊 めあて：じぶんで お金を かぞえよう。

- つぎのお金は、100円、10円、1円が なんまい でしょう。
□に 0~9の すう字を かきましょう。

(1) 472円

 □ まい	 □ まい	 □ まい
--	--	--


(2) 769円

 □ まい	 □ まい	 □ まい
--	--	--

(3) 193円

 □ まい	 □ まい	 □ まい
--	--	--

(4) 328円

 □ まい	 □ まい	 □ まい
--	--	--

(5) 405円

 □ まい	 □ まい	 □ まい
--	--	--

(6) 986円

 □ まい	 □ まい	 □ まい
--	--	--

😊 ふりかえり：じぶんで お金を かぞえられたかな？



3けたのかず

【お金をかぞえよう (4)】

😊 めあて：じぶんで お金 を かぞえよう。

- つぎのお金は、500円、100円、50円、10円、5円、1円がそれぞれ なんまい でしょう。 □に 0～9の すう字 を かきましょう。

(1) 456円

 □ まい
  □ まい
  □ まい
  □ まい

(2) 793円

 □ まい
  □ まい
  □ まい
  □ まい

(3) 751円

 □ まい
  □ まい
  □ まい
  □ まい

(4) 697円

 □ まい
  □ まい
  □ まい
  □ まい

(5) 608円

 □ まい
  □ まい
  □ まい
  □ まい

(6) 560円

 □ まい
  □ まい
  □ まい
  □ まい

😊 ふりかえり：じぶんで お金 を かぞえられたかな？



3けたのかず

【じゅんばんにならべる】

😊 めあて：3けたのかずをじゅんばんにならべられるようになる。

● □に入るすう字をかきましょう。

243	244			247	
856	857		859		861
729			732		734
580	585		595		605
630	640			670	

● □に入るすう字をかきましょう。

	450			460	
780		790			810

😊 ふりかえり：じゅんばんにならべられたかな？



3けたのかず

【大小をくらべよう (>、<)】

😊 めあて：大小を あらわす きごう (>、<) を つかえる ように なろう。

● □に あてはまる >、< を かきましょう。

- | | | | | | |
|---------|---|-----|---------|---|-----|
| (1) 582 | □ | 618 | (2) 294 | □ | 312 |
| (3) 958 | □ | 859 | (4) 118 | □ | 181 |
| (5) 670 | □ | 706 | (6) 289 | □ | 189 |
| (7) 636 | □ | 663 | (8) 459 | □ | 549 |

● □に あてはまる 0~9の すう字を すべて かきましょう。

(1) 5 6 7 > 5 6 □

(2) 2 4 8 < 2 □ 8

(3) 6 □ 8 < 6 4 3

チャレンジ!

(4) 6 4 8 > 6 □ 3

😊 ふりかえり：大小を あらわす きごう (>、<) は つかえたかな？



3けたのかず

【なんこあわせたかず？】

😊 めあて：100、10、1を なんこ あわせた かずか わかるようになる。

● □に 0～9の すうじを かきましょう。

(1) 374は 100を こ、10を こ、

1を こ あわせたかずです。

(2) 853は 100を こ、10を こ、

1を こ あわせたかずです。

(3) 506は 100を こ、10を こ、

1を こ あわせたかずです。

(4) 100を5こ、10を2こ、1を8こ あわせたかずは

です。

(5) 100を3こ、10を6こ あわせたかずは

です。

😊 ふりかえり：100、10、1を なんこ あわせた かずか わかったかな？

