

# 3けたのかず

【120より大きいかず】

😊 めあて：120より 大きいかずを あらわせるようになろう。

● つぎの ブロックの かずを すう字で かきましょう。

(1)

ブロック 100こ  
 ブロック 10こ  
 ブロック 1こ

257

(2)

474

(3)

339

(4)

690

😊 ふりかえり：120より 大きいかずは あらわせたかな？

# 3けたのかず

【百のくらい、十のくらい、一のくらい】

😊 めあて：百のくらい、十のくらい、一のくらいがわかるようになろう。

● 百のくらい、十のくらい、一のくらいの すう字を こたえましょう。

(1) 429

百のくらい 4      十のくらい 2      一のくらい 9

(2) 958

百のくらい 9      十のくらい 5      一のくらい 8

(3) 702

百のくらい 7      十のくらい 0      一のくらい 2

(4) 350

百のくらい 3      十のくらい 5      一のくらい 0

● つぎの かずを よみましょう。

(1) 613

(2) 179

(3) 556

(4) 290

(5) 824

(6) 700

● つぎの かずを すう字で かきましょう。

(1) 六百十三

613

(2) 百七十九

179

(3) 五百五十六

556

(4) 二百九十

290

(5) 九百

900

(6) 七百四

704


😊 ふりかえり：百のくらい、十のくらい、一のくらいは わかったかな？

# 3けたのかず


## 【お金をかぞえよう (1)】

😊 めあて：お金の かぞえかたが わかるようになろう。

● つぎの お金は ぜんぶで なん円でしょう。

(1)  100円が 4まいで 400円

 10円が 2まいで 20円

 1円が 3まいで 3円

**423** 円

(2)  100円が 5まいで 500円

 10円が 4まいで 40円

 1円が 5まいで 5円

**545** 円

(3) 





**876** 円

(4) 





**634** 円

(5) 



**660** 円

😊 ふりかえり：お金の かぞえかたは わかったかな？

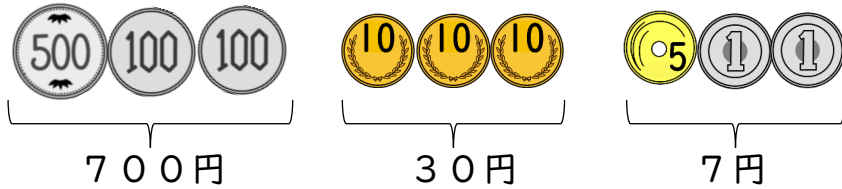
# 3けたのかず

## 【お金をかぞえよう (2)】

😊 めあて：お金の かぞえかたが わかるようになるう。

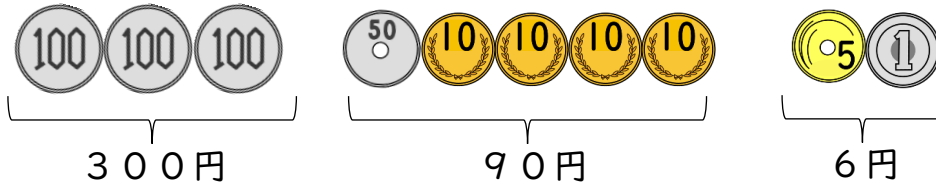
● つぎの お金は ぜんぶで なん円でしよう。

(1)



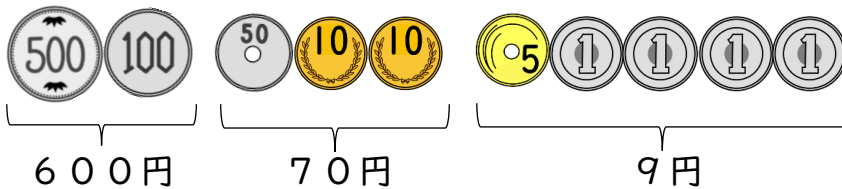
737 円

(2)



396 円

(3)




679 円

(4)



669 円

(5)



964 円

😊 ふりかえり：お金の かぞえかたは わかったかな？


# 3けたのかず

## 【お金をかぞえよう (3)】

😊 めあて：じぶんで お金を かぞえよう。

- つぎのお金は、100円、10円、1円が なんまい でしょう。  
□に 0～9の すう字を かきましょう。

(1) 472円



(2) 769円



(3) 193円



(4) 328円



(5) 405円



(6) 986円



😊 ふりかえり：じぶんで お金を かぞえられたかな？

# 3けたのかず

## 【お金をかぞえよう (4)】

😊 めあて：じぶんで お金を かぞえよう。

- つぎのお金は、500円、100円、50円、10円、5円、1円がそれぞれ なんまい でしょう。□に 0~9の すう字をかきましょう。

(1) 456円



もしくは100円4まい、10円5まい、5円0まい、1円6まい

(2) 793円



もしくは100円7まい、50円0まい、10円9まい、1円3まい

(3) 751円



もしくは500円0まい、100円7まい、10円5まい、1円1まい

(4) 697円



もしくは500円0まい、100円6まい、10円9まい、1円7まい

(5) 608円



もしくは100円6まい、10円0まい、5円0まい、1円8まい

(6) 560円



もしくは100円5まい、50円0まい、10円6まい、1円0まい

😊 ふりかえり：じぶんで お金を かぞえられたかな？

# 3けたのかず

【じゅんばんにならべる】

😊 めあて：3けたのかずをじゅんばんにならべられるようになる。

● □に入るすう字をかきましょう。

243	244	245	246	247	248
856	857	858	859	860	861
729	730	731	732	733	734
580	585	590	595	600	605
630	640	650	660	670	680

● □に入るすう字をかきましょう。

447	455	459	465
776	784	800	808

😊 ふりかえり：じゅんばんにならべられたかな？

# 3けたのかず

【大小をくらべよう (>、<)】

😊 めあて：大小を あらわす きごう (>、<) を つかえる ように なろう。

● □ に あてはまる >、< を かき まし ょう。

(1) 582 < 618      (2) 294 < 312

(3) 958 > 859      (4) 118 < 181

(5) 670 < 706      (6) 289 > 189

(7) 636 < 663      (8) 459 < 549

● □ に あてはまる 0~9 の すう字 を すべて かき まし ょう。

(1) 5 6 7 > 5 6 □      0、1、2、3、4、5、6

(2) 2 4 8 < 2 □ 8      5、6、7、8、9

(3) 6 □ 8 < 6 4 3      0、1、2、3

チャレンジ!

(4) 6 4 8 > 6 □ 3      0、1、2、3、4

😊 ふりかえり：大小を あらわす きごう (>、<) は つかえた かな？



# 3けたのかず

【なんこあわせたかず？】

😊 めあて：100、10、1を なんこ あわせた かずか わかるようになる。

● □に 0～9の すうじを かきましょう。

(1) 374は 100を  こ、10を  こ、

1を  こ あわせたかずです。

(2) 853は 100を  こ、10を  こ、

1を  こ あわせたかずです。

(3) 506は 100を  こ、10を  こ、

1を  こ あわせたかずです。

(4) 100を5こ、10を2こ、1を8こ あわせたかずは

です。

(5) 100を3こ、10を6こ あわせたかずは

です。

😊 ふりかえり：100、10、1を なんこ あわせた かずか わかったかな？