


3けたのかず


【お金をかぞえよう (1)】

😊 めあて：お金の かぞえかたが わかるようになろう。

● つぎの お金は ぜんぶで なん円でしょう。


(1)  100円が 4まいで 400円


 10円が 2まいで 20円

 1円が 3まいで 3円

423 円

(2)  100円が 5まいで 500円

 10円が 4まいで 40円

 1円が 5まいで 5円

545 円

(3) 





876 円

(4) 





634 円

(5) 



660 円

😊 ふりかえり：お金の かぞえかたは わかったかな？