

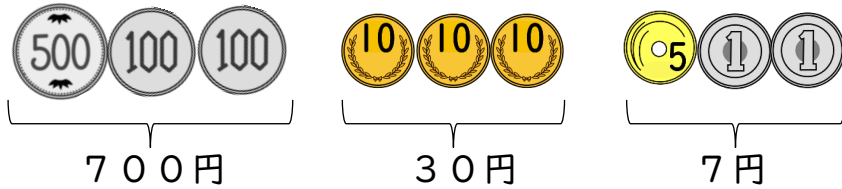
3けたのかず

【お金をかぞえよう (2)】

😊 めあて：お金の かぞえかたが わかるようになるう。

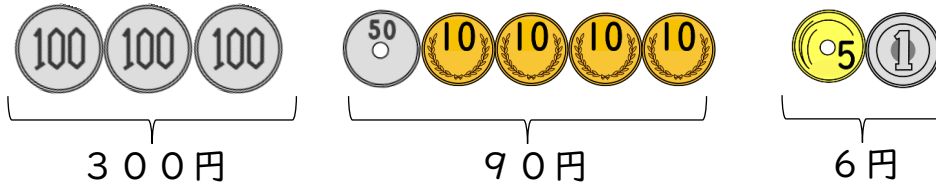
● つぎの お金は ぜんぶで なん円でしょう。

(1)



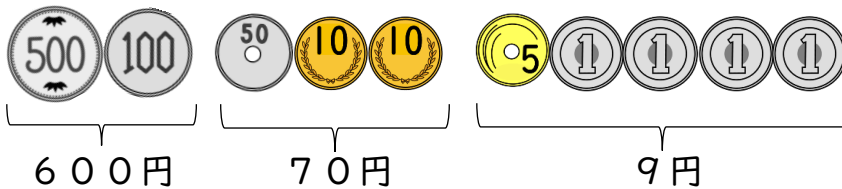
737 円

(2)




396 円

(3)




679 円

(4)



669 円

(5)



964 円

😊 ふりかえり：お金の かぞえかたは わかったかな？