

4けたのかず

【1000より大きいかず】

😊 めあて：1000より 大きいかずを あらわせるようになろう。

● つぎの かずを すう字で かきましょう。

(1)

1000			
1000	100		
1000	100	10	
1000	100	10	1

(2)

	100		
	100		
1000	100		1
1000	100		1
1000	100	10	1
1000	100	10	1

(3)

		10	
		10	
1000		10	1
1000		10	1

(4)

1000			
1000			
1000			

😊 ふりかえり：1000より 大きいかずは あらわせたかな？



4けたのかず

【千のくらい、百のくらい、十のくらい、一のくらい】

😊 めあて：千のくらい、百のくらい、十のくらい、一のくらいがわかるようになるう。

● 千のくらい、百のくらい、十のくらい、一のくらいの すう字を
こたえましょう。

(1) 8916

千の くらい	<input type="text"/>	百の くらい	<input type="text"/>	十の くらい	<input type="text"/>	一の くらい	<input type="text"/>
-----------	----------------------	-----------	----------------------	-----------	----------------------	-----------	----------------------

(2) 2374

千の くらい	<input type="text"/>	百の くらい	<input type="text"/>	十の くらい	<input type="text"/>	一の くらい	<input type="text"/>
-----------	----------------------	-----------	----------------------	-----------	----------------------	-----------	----------------------

(3) 5370

千の くらい	<input type="text"/>	百の くらい	<input type="text"/>	十の くらい	<input type="text"/>	一の くらい	<input type="text"/>
-----------	----------------------	-----------	----------------------	-----------	----------------------	-----------	----------------------

(4) 6048

千の くらい	<input type="text"/>	百の くらい	<input type="text"/>	十の くらい	<input type="text"/>	一の くらい	<input type="text"/>
-----------	----------------------	-----------	----------------------	-----------	----------------------	-----------	----------------------

● つぎの かずを よみましょう。

(1) 5334

(2) 9032

(3) 8831

(4) 7502

(5) 5255

(6) 7000

● つぎの かずを すう字で かきましょう。

(1) 三千二百五十六

(2) 九千五百二十二

(3) 六千八十

(4) 千百一

(5) 七千七百七十七

(6) 八千

😊 ふりかえり：千のくらい、百のくらい、十のくらい、一のくらいは わかったかな？





4けたのかず


【お金をかぞえよう (1)】


😊 めあて：お金の かぞえかたが わかるようになる。

● つぎの お金は ぜんぶで なん円でしよう。

(1)  1000円が 5まいで 5000円

 100円が 5まいで 500円

 10円が 3まいで 30円

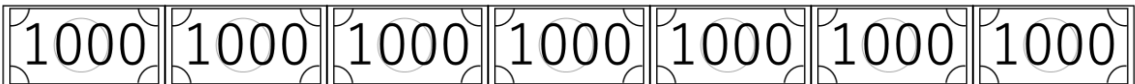
 1円が 4まいで 4円 円


(2)  1000円が 4まいで 4000円


 100円が 3まいで 300円


 10円が 5まいで 50円


 1円が 5まいで 5円 円

(3)  1000円が 7まいで 7000円

 100円が 8まいで 800円

 1円が 6まいで 6円 円

(4)  1000円が 6まいで 6000円

 100円が 6まいで 600円 円

😊 ふりかえり：お金の かぞえかたは わかったかな？



4けたのかず

【お金をかぞえよう (2)】

😊 めあて：じぶんで お金を かぞえよう。

● つぎのお金は、1000円、100円、10円、1円が なんまい
でしょう。□に 0～9の すう字を かきましょう。

(1) 6398円

 □ まい
  □ まい
  □ まい
  □ まい

(2) 1135円

 □ まい
  □ まい
  □ まい
  □ まい

(3) 5903円

 □ まい
  □ まい
  □ まい
  □ まい

(4) 7654円

 □ まい
  □ まい
  □ まい
  □ まい

(5) 8001円

 □ まい
  □ まい
  □ まい
  □ まい

(6) 2000円

 □ まい
  □ まい
  □ まい
  □ まい

😊 ふりかえり：じぶんで お金を かぞえられたかな？



4けたのかず

【じゅんばんにならべる】

😊 めあて：4けたの かずを じゅんばんに ならべられるようになるう。

● □に入る すう字を かきましょう。

5797	5798			5801	
	2500	3000		4000	
6730	6740		6760		6780
3600		3800	3900		4100
	9996	9997		9999	

● □に入る すう字を かきましょう。

4850			4860
8500	9000	9500	10000

😊 ふりかえり：じゅんばんに ならべられたかな？



4けたのかず

【大小をくらべよう (>、<)】

😊 めあて：大小を あらわす きごう (>、<) を つかえる ように なろう。

● □ に あてはまる >、< を かき ましょう。

(1) 5822 6918 (2) 2948 2912

(3) 9582 9589 (4) 1181 1811

(5) 4554 4054 (6) 2060 2006

(7) 3904 4310 (8) 6639 6963

● □ に あてはまる 0～9 の すう字 を すべて かき ましょう。

(1) 5 6 7 0 > 5 6 0

(2) 1 3 5 4 < 1 2 3

チャレンジ! (3) 7 4 9 < 7 4 8 9

チャレンジ! (4) 6 4 6 8 < 6 8 9

😊 ふりかえり：大小を あらわす きごう (>、<) は つかえた かな？



4けたのかず

【なんこあわせたかず？】

😊 めあて：1000、100、10、1を なんこ あわせた かずか わかるようになるろう。

● □に すうじを かきましょう。

(1) 5123は 1000を こ、100を こ、

10を こ、1を こ あわせたかずです。

(2) 7469は 1000を こ、100を こ、

10を こ、1を こ あわせたかずです。

(3) 8064は 1000を こ、100を こ、

10を こ、1を こ あわせたかずです。

(4) 1000を6こ、100を4こ、10を3こ、1を9こあわせたかずは

です。

(5) 1000を2こ、10を8こ、1を5こ あわせたかずは

です。

😊 ふりかえり：1000、100、10、1を なんこ あわせた かずか わかったかな？

