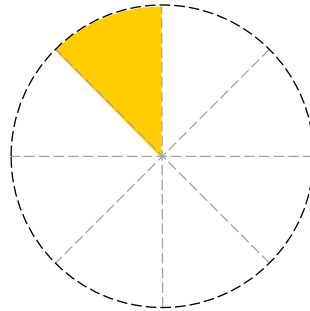
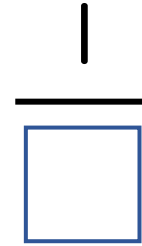
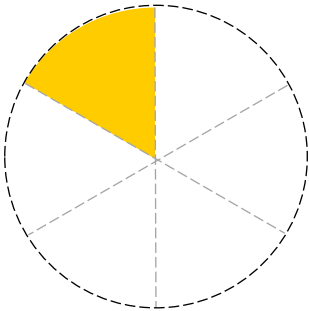
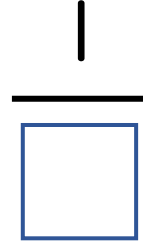
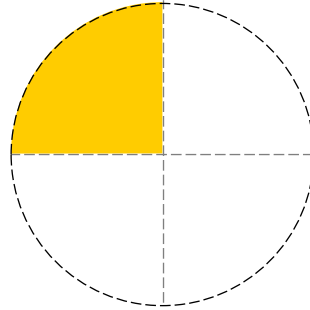
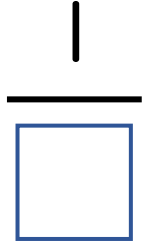
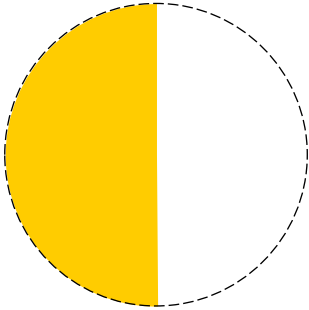


ぶんすう (1)

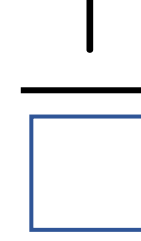
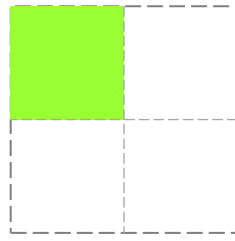
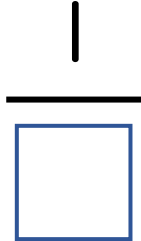
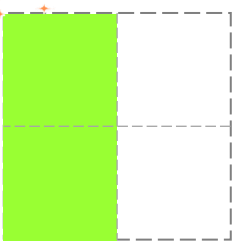
😊 めあて：もとの 大きさの なんぶんの一か わかるようになるう。

- いろの ついている ところは、もとの円の 大きさの なんぶんの一 でしょう。□に すう字を かきましょう。

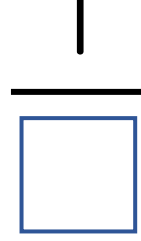
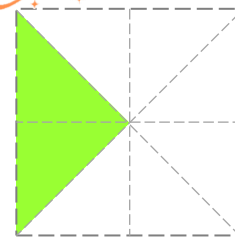


- 色の ついている ところは、もとの 四かくけいの 大きさの なんぶんの一 でしょう。□に すう字を かきましょう。

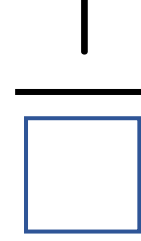
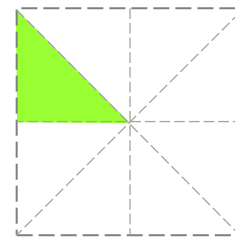
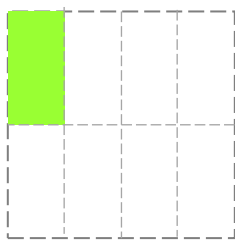
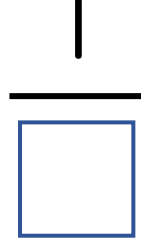

チャレンジ!



チャレンジ!



チャレンジ!



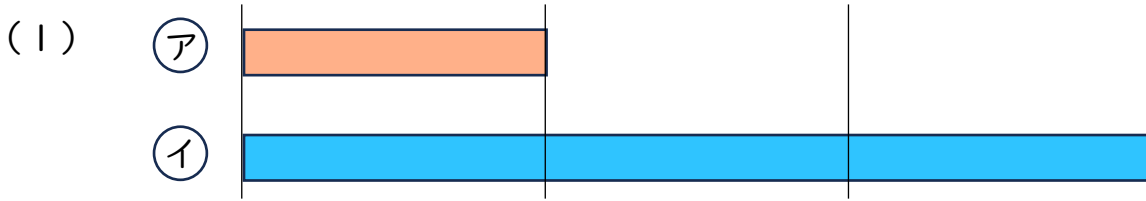
😊 ふりかえり：もとの 大きさの なんぶんの一か わかったかな？



ぶんすう (2)

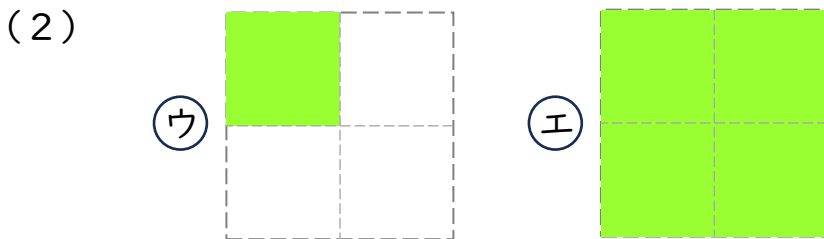
😊 めあて：ばいと ぶんすうが わかるようになろう。

● □に すう字か ぶんすうを かきましょう。



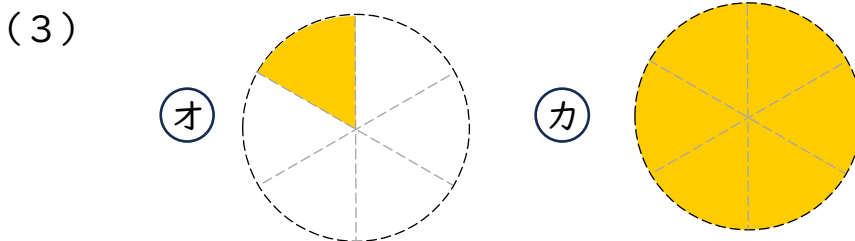
① のながさは ② のながさの ばい です。

② のながさは ① のながさの です。



③ の大きさは ④ の大きさの ばい です。

④ の大きさは ③ の大きさの です。



⑤ の大きさは ⑥ の大きさの ばい です。

⑥ の大きさは ⑤ の大きさの です。

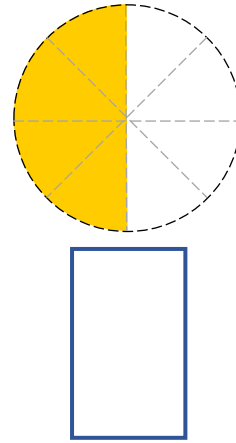
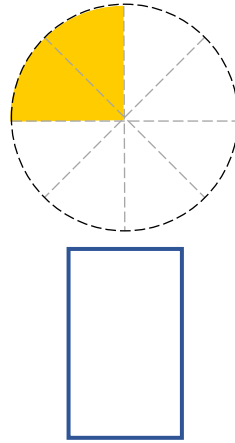
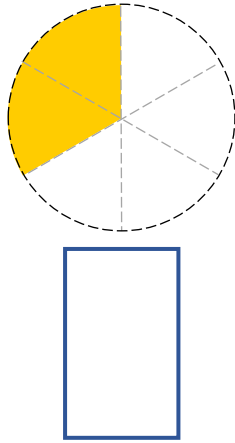
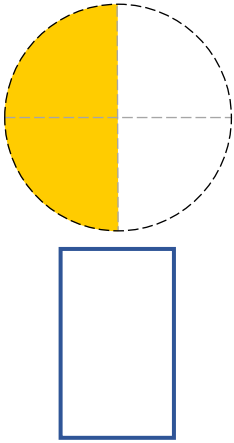
😊 ふりかえり：ばいと ぶんすうは わかったかな？



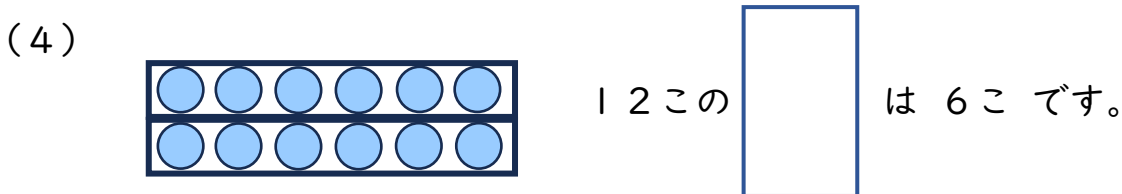
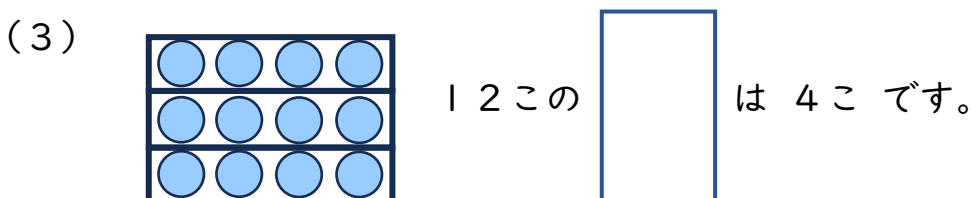
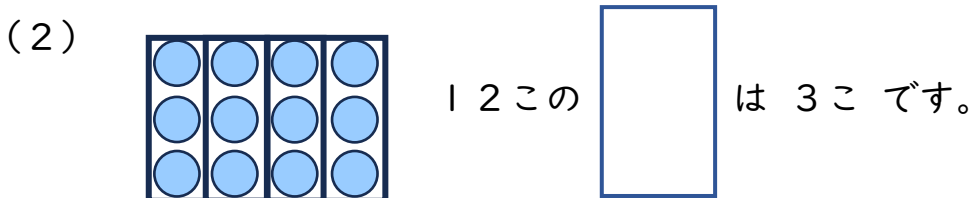
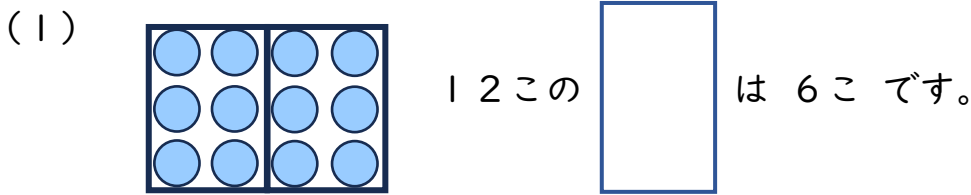
ぶんすう (3)

😊 めあて：ぶんすうの あらわしかたに もっと くわしくなるう。

● いろ のついている ところは、もとの円の 大きさの なんぶんの一
でしよう。□に ぶんすうを かきましょう。



● 12この おはじきが あります。□に ぶんすうを かきましょう。



😊 ふりかえり：ぶんすうの あらわしかたには くわしくなれたかな？

