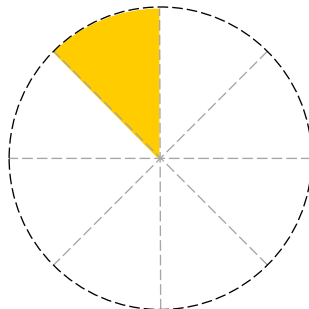
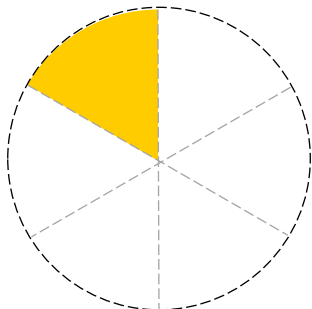
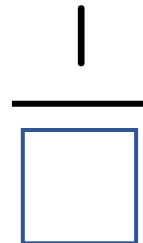
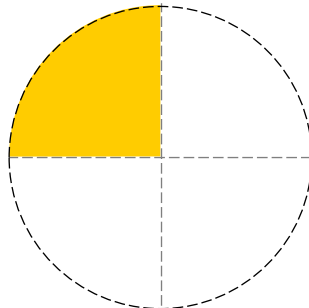
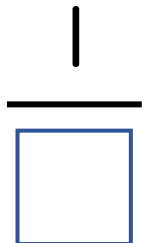
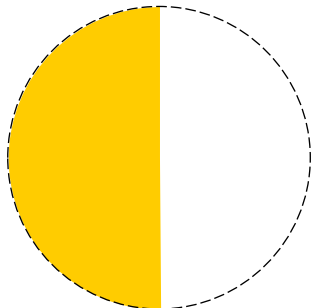


ぶんすう (1)

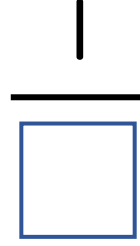

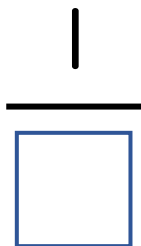

😊 めあて：もとの 大きさの なんぶんの一か わかるようになるう。

- いろの ついてい る ところ は、もとの 円の 大きさの なんぶんの一 でしょう。□に すう字を かきましょ う。

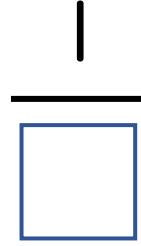
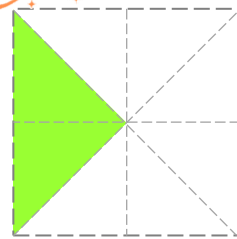


- 色の ついてい る ところ は、もとの 四かくけい の 大きさの なんぶんの一 でしょう。□に すう字を かきましょ う。

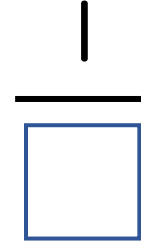
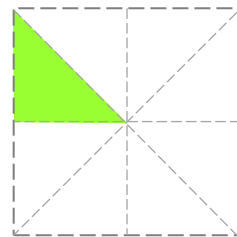
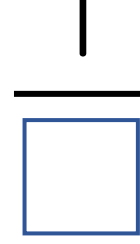
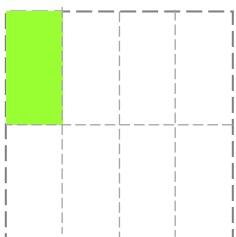
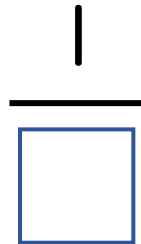
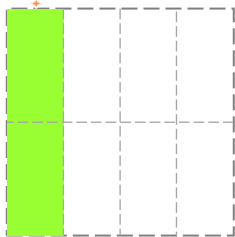
チャレンジ!



チャレンジ!



チャレンジ!



😊 ふりかえり：もとの 大きさの なんぶんの一か わかったかな？

