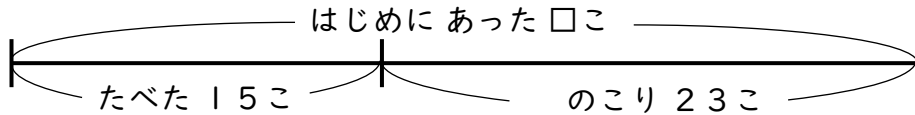


せんぶんず

【へるまえはいくつ?】

😊 めあて：せんぶんずをつかって もんだいを とこう。

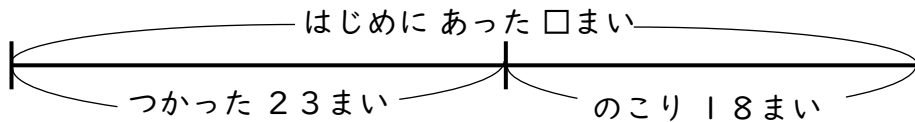
- かごの 中に いちごが いくつか ありました。15こ たべたので、のこりが 23こに なりました。いちごは はじめ なんこ あったでしょう。



しき

こたえ

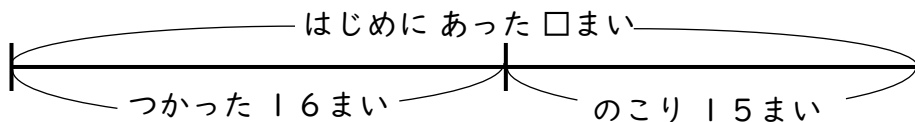
- おりがみが なんまいか ありました。23まい つかったので、のこりが 18まいに なりました。おりがみは はじめ なんまい あったでしょう。



しき

こたえ

- クッキーが なんまいか ありました。みんなで 16まい たべたので、のこりが 15まいに なりました。クッキーは はじめ なんまい あったでしょう。



しき

こたえ

😊 ふりかえり：せんぶんずをつかって もんだいは とけたかな？

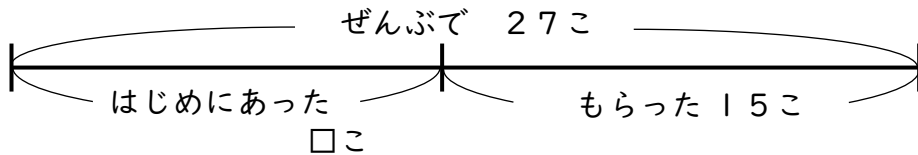


せんぶんず

【ふえるまえはいくつ?】

😊 めあて：せんぶんずをつかって もんだいを とけるようになろう。

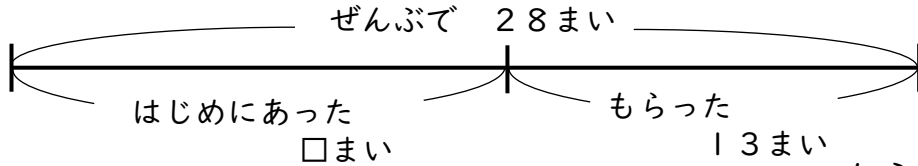
- かごの 中に みかんが いくつか ありました。15こ もらったので、ぜんぶで 27こになりました。はじめにあった みかんは なんこでしょう。



しき

こたえ

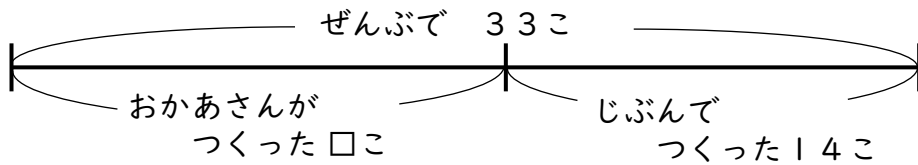
- プリントが なんまいか ありました。13まい もらったので、あわせて 28まいになりました。プリントは はじめ なんまい あったでしょう。



しき

こたえ

- おかあさんが つくった おにぎりが なんこか ありました。じぶんで 14こ つくったので あわせて 33こになりました。おかあさんが つくった おにぎりは なんこ あったでしょう。



しき

こたえ

😊 ふりかえり：せんぶんずをつかって もんだいは とけたかな？

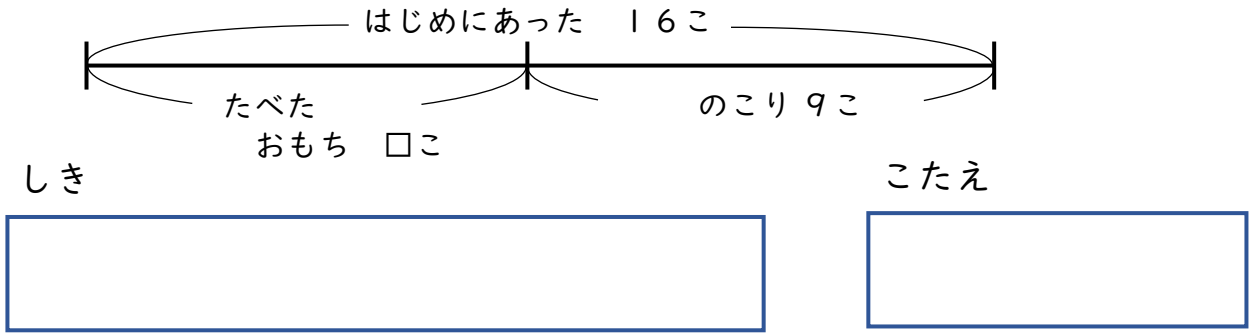


せんぶんず

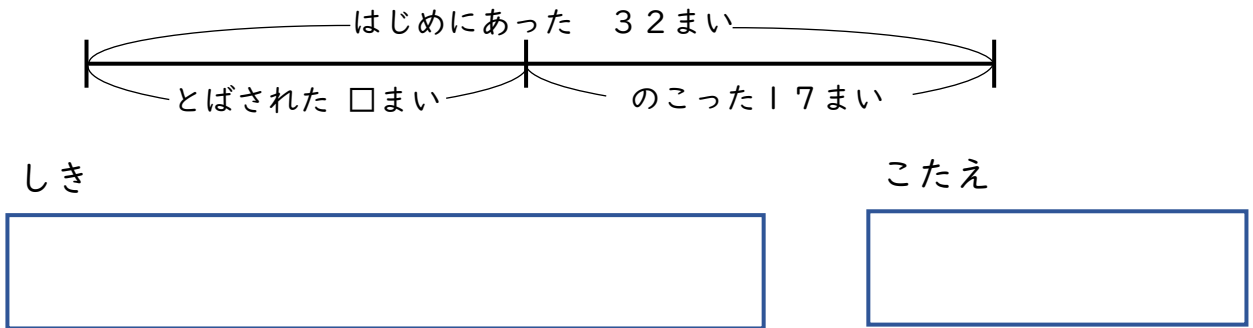
【なくなったのはいくつ？】

😊 めあて：せんぶんずをつかって もんだいを とけるようになろう。

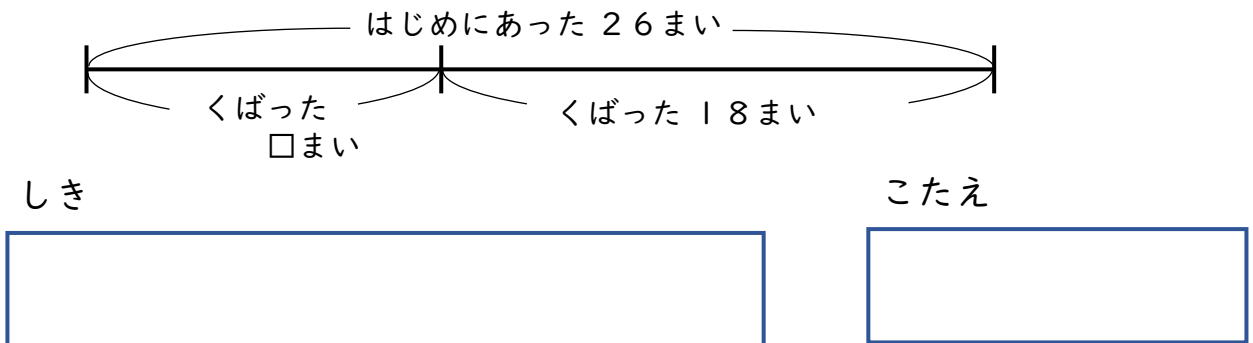
- おもちが 16こ ありました。いくつか たべたので、のこりは 9こ になりました。なんこ たべたでしょう。



- 花びらが 32まい ありました。なんまいか かぜに とばされたので、17まい になりました。なんまい かぜに とばされたでしょう。



- プリントが 26まい ありました。なんまいか くばったので 18まい になりました。くばった プリントは なんまい でしょう。



😊 ふりかえり：せんぶんずをつかって もんだいは とけたかな？

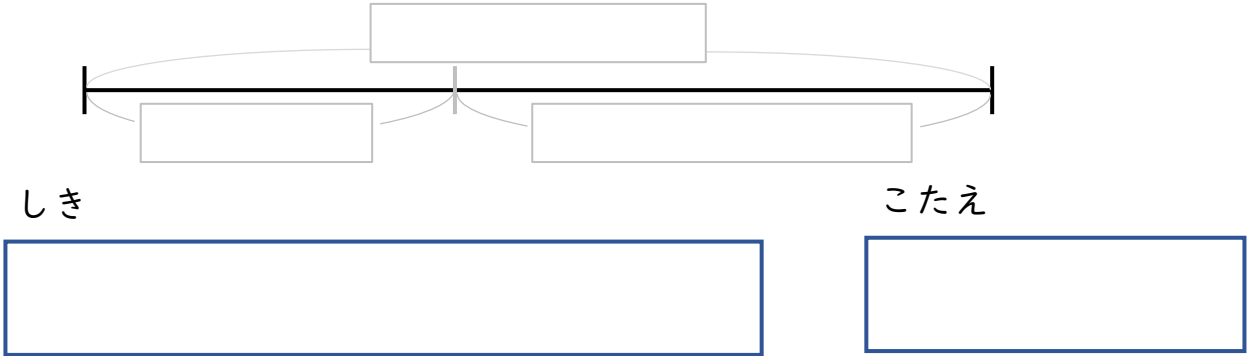


せんぶんずをかこう


【へるまえはいくつ?】

😊 めあて：せんぶんずを じぶんで かいて もんだいを とこう。


- えんぴつが なん本か ありました。14本 つかったので、のこりは 17本に なりました。えんぴつは はじめ なん本 あったでしょう。



- バナナが なん本か ありました。16本 たべたので、のこりは 17本に なりました。バナナは はじめ なん本 あったでしょう。



- たまごが なんこか ありました。みんなで 12こ たべたので、のこりは 19こに なりました。たまごは はじめ なんこ あったでしょう。



😊 ふりかえり：せんぶんずを かいて もんだいは とけたかな？

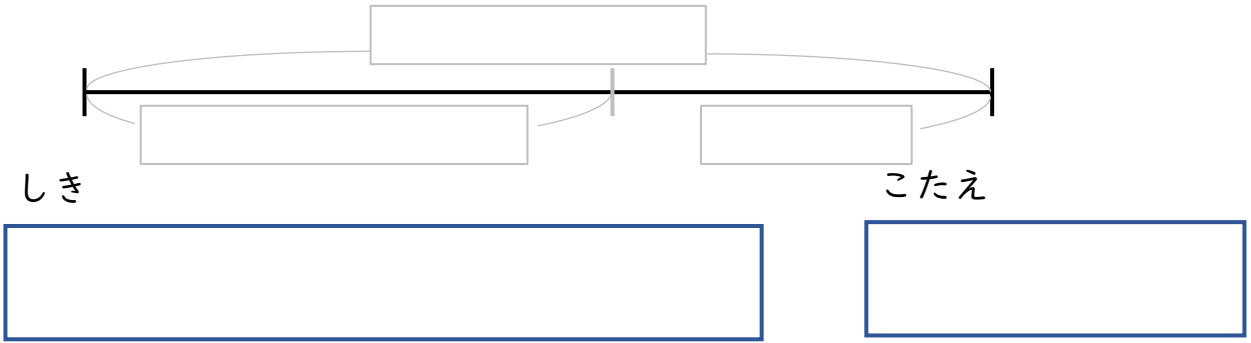


せんぶんずをかこう


【ふえるまえはいくつ?】

😊 めあて：せんぶんずを じぶんで かいて もんだいを とこう。


- にんじんが なん本か ありました。9本 もらったので、せんぶで 23本に なりました。はじめに にんじんは なん本あったでしょう。



- じゃがいもが なんこか ありました。18こ もらったので、あわせて 26こに なりました。じゃがいもは はじめ なんこ あったでしょう。



- おりがみが なんまいか ありました。28まい もらったので、あわせて 35まいに なりました。おりがみは はじめ なんまい あったでしょう。



😊 ふりかえり：せんぶんずを かいて もんだいは とけたかな？

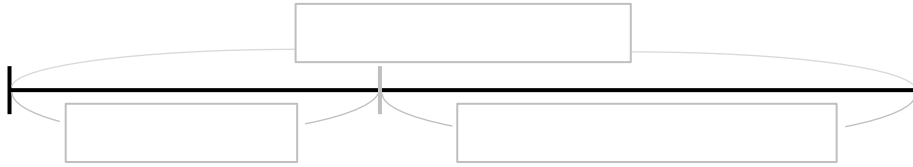


せんぶんずをかこう

【なくなったのはいくつ?】

😊 めあて：せんぶんずを じぶんで かいて もんだいを とこう。


- いちごが 15こ ありました。いくつか たべたので、のこりは 9こ になりました。なんこ たべたでしょう。



しき

こたえ

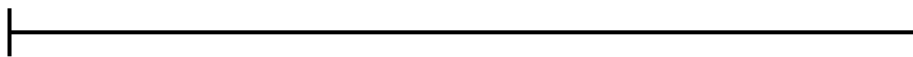
- チョコレートが 27こ ありました。なんこか たべたので、15こ になりました。なんこ たべたでしょう。



しき

こたえ

- ぶどうが 34こ ありました。なんこか たべたので、18こ になりました。なんこ たべたでしょう。



しき

こたえ

😊 ふりかえり：せんぶんずを かいて もんだいは とけたかな？

