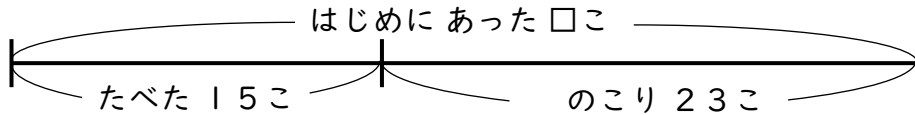


せんぶんず

【へるまえはいくつ?】

😊 めあて：せんぶんずをつかって もんだいを とこう。

- かごの 中に いちごが いくつか ありました。15こ たべたので、のこりが 23こに なりました。いちごは はじめ なんこ あったでしょう。



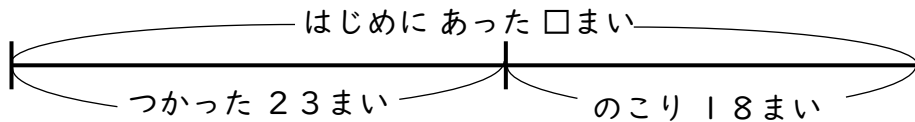
しき

$$15 + 23 = 38$$

こたえ

$$38 \text{こ}$$

- おりがみが なんまいか ありました。23まい つかったので、のこりが 18まいに なりました。おりがみは はじめ なんまい あったでしょう。



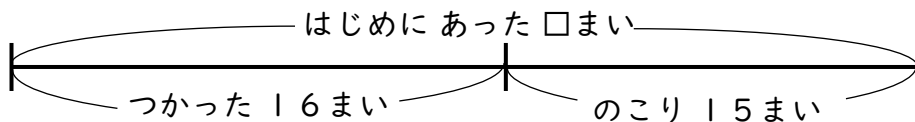
しき

$$23 + 18 = 41$$

こたえ

$$41 \text{まい}$$

- クッキーが なんまいか ありました。みんなで 16まい たべたので、のこりが 15まいに なりました。クッキーは はじめ なんまい あったでしょう。



しき

$$16 + 15 = 31$$

こたえ

$$31 \text{まい}$$

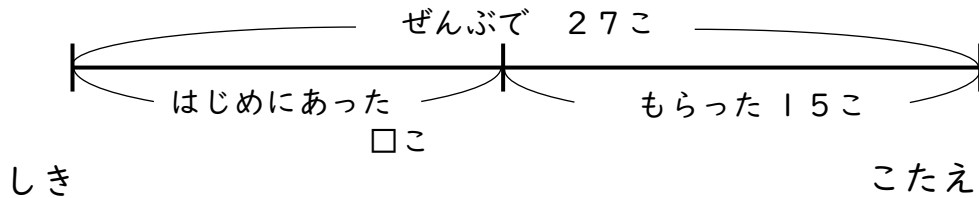
😊 ふりかえり：せんぶんずをつかって もんだいは とけたかな？

せんぶんず

【ふえるまえはいくつ?】

😊 めあて：せんぶんずをつかって もんだいを とけるようになろう。

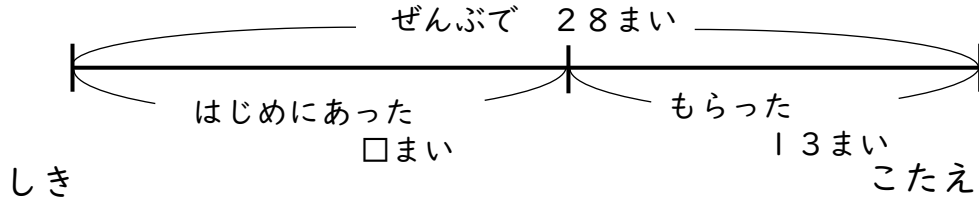
- かごの 中に みかんが いくつか ありました。15こ
もらっので、ぜんぶで 27こに なりました。
はじめにあった みかんは なんこでしょう。



$$27 - 15 = 12$$

$$12\text{こ}$$

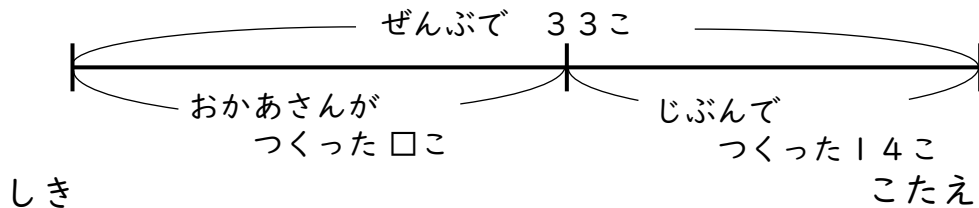
- プリントが なんまいか ありました。13まい もらったので、あわせて 28まいに なりました。プリントは はじめ なんまい あったでしょう。



$$28 - 13 = 15$$

$$15\text{まい}$$

- おかあさんが つくった おにぎりが なんこか ありました。じぶんで 14こ つくったので あわせて 33こに なりました。おかあさんが つくった おにぎりは なんこ あったでしょう。



$$33 - 14 = 19$$

$$19\text{こ}$$

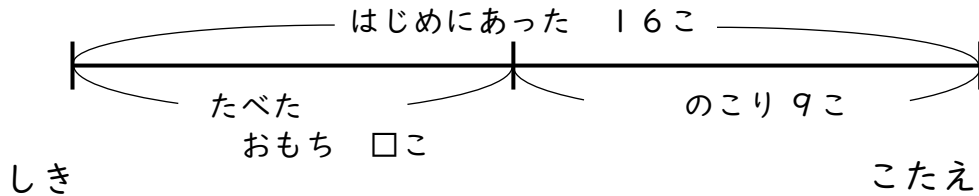
😊 ふりかえり：せんぶんずをつかって もんだいは とけたかな？

せんぶんず

【なくなったのはいくつ?】

😊 めあて：せんぶんずをつかって もんだいを とけるようになろう。

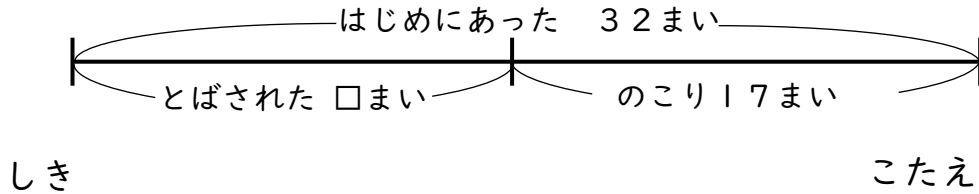
- おもちが 16こ ありました。いくつか たべたので、のこりは 9こ になりました。なんこ たべたでしょう。



$$16 - 9 = 7$$

$$7 \text{ こ}$$

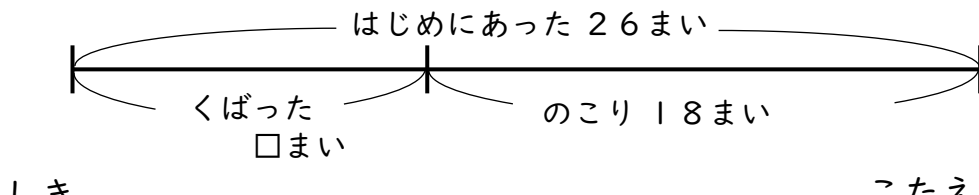
- 花びらが 32まい ありました。なんまいか かぜに とばされたので、17まい になりました。なんまい かぜに とばされたでしょう。



$$32 - 17 = 15$$

$$15 \text{ まい}$$

- プリントが 26まい ありました。なんまいか くばったので 18まい になりました。くばった プリントは なんまいでしょう。



$$26 - 18 = 8$$

$$8 \text{ まい}$$

😊 ふりかえり：せんぶんずをつかって もんだいは とけたかな？

せんぶんずをかこう

【へるまえはいくつ?】

😊 めあて：せんぶんずを じぶんで かいて もんだいを とこう。

- えんぴつが なん本か ありました。14本 つかったので、のこりは 17本に なりました。えんぴつは はじめ なん本 あったでしょう。

$14 + 17 = 31$

31本

- バナナが なん本か ありました。16本 たべたので、のこりは 17本に なりました。バナナは はじめ なん本 あったでしょう。

$16 + 17 = 33$

33本

- たまごが なんこか ありました。みんなで 12こ たべたので、のこりは 19こに なりました。たまごは はじめ なんこ あったでしょう。

$12 + 19 = 31$

31こ

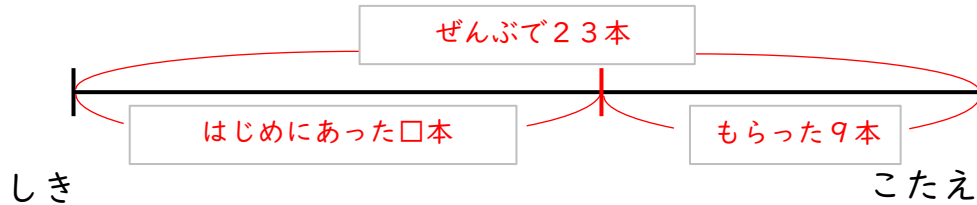
😊 ふりかえり：せんぶんずを かいて もんだいは とけたかな？

せんぶんずをかこう

【ふえるまえはいくつ?】

😊 めあて：せんぶんずを じぶんで かいて もんだいを とこう。

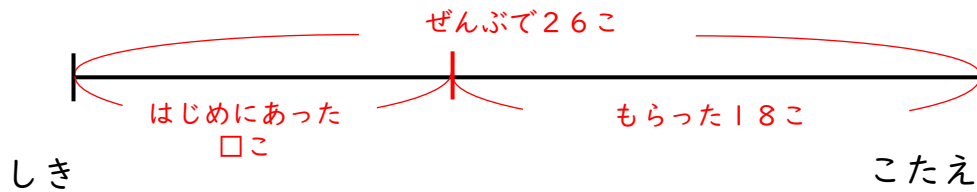
- にんじんが なん本か ありました。9本 もらったので、ぜんぶで 23本に なりました。はじめに にんじんは なん本あったでしょう。



$$23 - 9 = 14$$

$$14 \text{ 本}$$

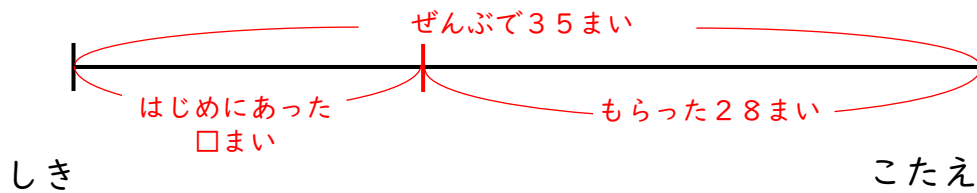
- じゃがいもが なんこか ありました。18こ もらったので、あわせて 26こに なりました。じゃがいもは はじめ なんこ あったでしょう。



$$26 - 18 = 8$$

$$8 \text{ こ}$$

- おりがみが なんまいか ありました。28まい もらったので、あわせて 35まいに なりました。おりがみは はじめ なんまい あったでしょう。



$$35 - 28 = 7$$

$$7 \text{ まい}$$


😊 ふりかえり：せんぶんずを かいて もんだいは とけたかな？

せんぶんずをかこう

【なくなったのはいくつ?】

😊 めあて：せんぶんずを じぶんで かいて もんだいを とこう。

- いちごが 15こ ありました。いくつか たべたので、のこりは 9こ になりました。なんこ たべたでしょう。



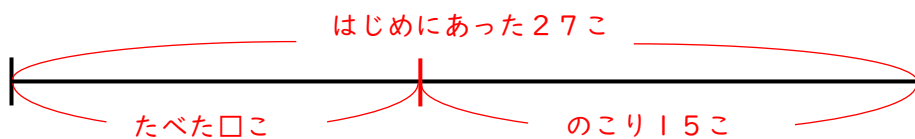
しき

$$15 - 9 = 6$$

こたえ

$$6こ$$

- チョコレートが 27こ ありました。なんこか たべたので、15こ になりました。なんこ たべたでしょう。



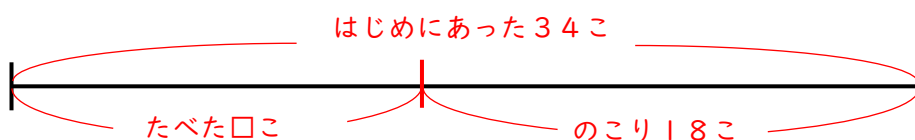
しき

$$27 - 15 = 12$$

こたえ

$$12こ$$

- ぶどうが 34こ ありました。なんこか たべたので、18こ になりました。なんこ たべたでしょう。



しき

$$34 - 18 = 16$$

こたえ

$$16こ$$

😊 ふりかえり：せんぶんずを かいて もんだいは とけたかな？