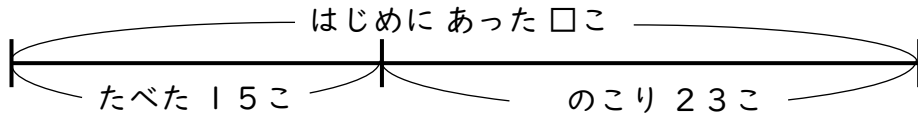


せんぶんず

【へるまえはいくつ?】

😊 めあて：せんぶんずをつかって もんだいを とこう。

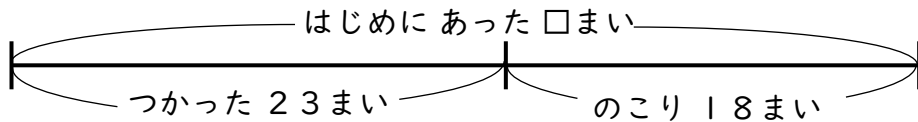
- かごの 中に いちごが いくつか ありました。15こ たべたので、のこりが 23こに なりました。いちごは はじめ なんこ あったでしょう。



しき

こたえ

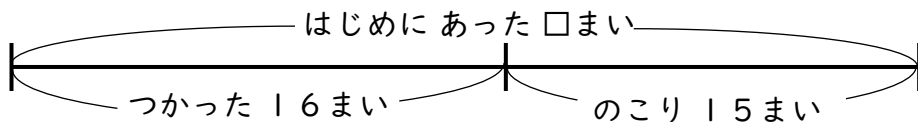
- おりがみが なんまいか ありました。23まい つかったので、のこりが 18まいに なりました。おりがみは はじめ なんまい あったでしょう。



しき

こたえ

- クッキーが なんまいか ありました。みんなで 16まい たべたので、のこりが 15まいに なりました。クッキーは はじめ なんまい あったでしょう。



しき

こたえ

😊 ふりかえり：せんぶんずをつかって もんだいは とけたかな？

