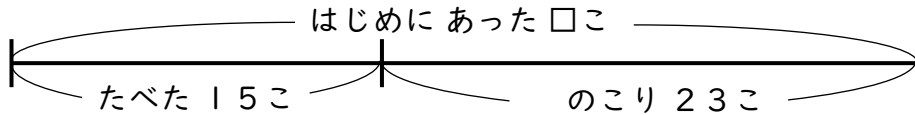


せんぶんず

【へるまえはいくつ?】

😊 めあて：せんぶんずをつかって もんだいを とこう。

- かごの 中に いちごが いくつか ありました。15こ たべたので、のこりが 23こに なりました。いちごは はじめ なんこ あったでしょう。



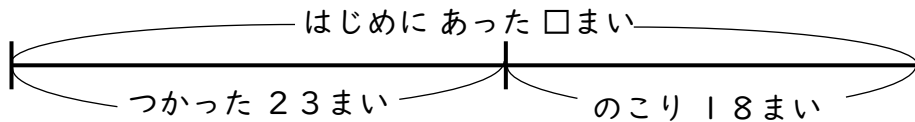
しき

$$15 + 23 = 38$$

こたえ

$$38 \text{こ}$$

- おりがみが なんまいか ありました。23まい つかったので、のこりが 18まいに なりました。おりがみは はじめ なんまい あったでしょう。



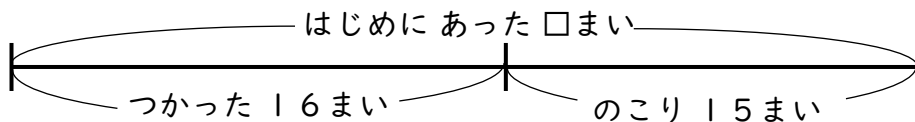
しき

$$23 + 18 = 41$$

こたえ

$$41 \text{まい}$$

- クッキーが なんまいか ありました。みんなで 16まい たべたので、のこりが 15まいに なりました。クッキーは はじめ なんまい あったでしょう。



しき

$$16 + 15 = 31$$

こたえ

$$31 \text{まい}$$

😊 ふりかえり：せんぶんずをつかって もんだいは とけたかな？