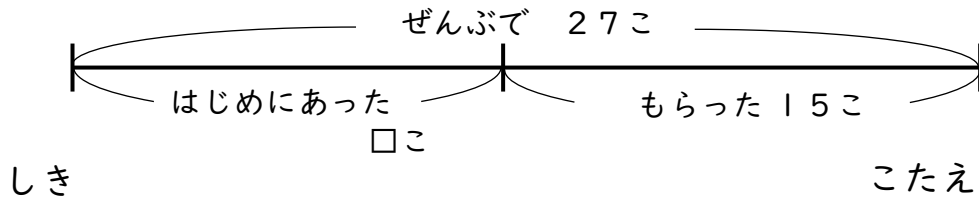


せんぶんず

【ふえるまえはいくつ?】

😊 めあて：せんぶんずをつかって もんだいを とけるようになろう。

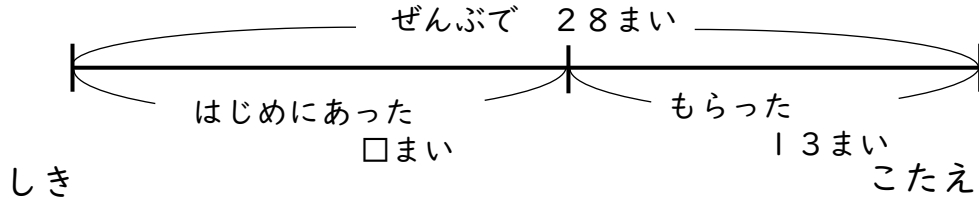
- かごの 中に みかんが いくつか ありました。15こ
もらっので、ぜんぶで 27こに なりました。
はじめにあった みかんは なんこでしょう。



$$27 - 15 = 12$$

$$12\text{こ}$$

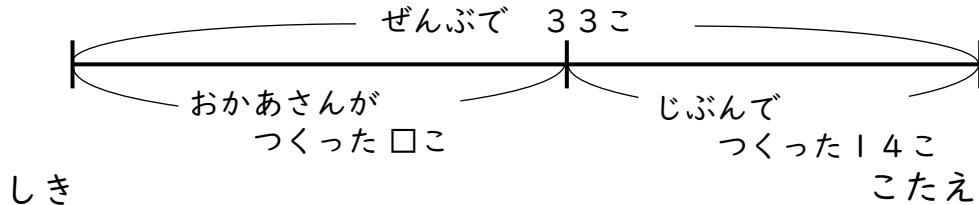
- プリントが なんまいか ありました。13まい もらったので、あわせて 28まいに なりました。プリントは はじめ なんまい あったでしょう。



$$28 - 13 = 15$$

$$15\text{まい}$$

- おかあさんが つくった おにぎりが なんこか ありました。じぶんで 14こ つくったので あわせて 33こに なりました。おかあさんが つくった おにぎりは なんこ あったでしょう。



$$33 - 14 = 19$$

$$19\text{こ}$$

😊 ふりかえり：せんぶんずをつかって もんだいは とけたかな？