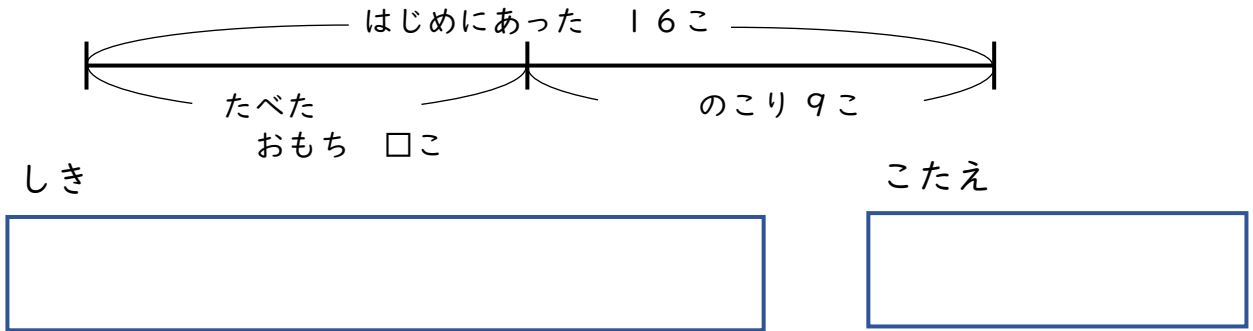


# せんぶんず

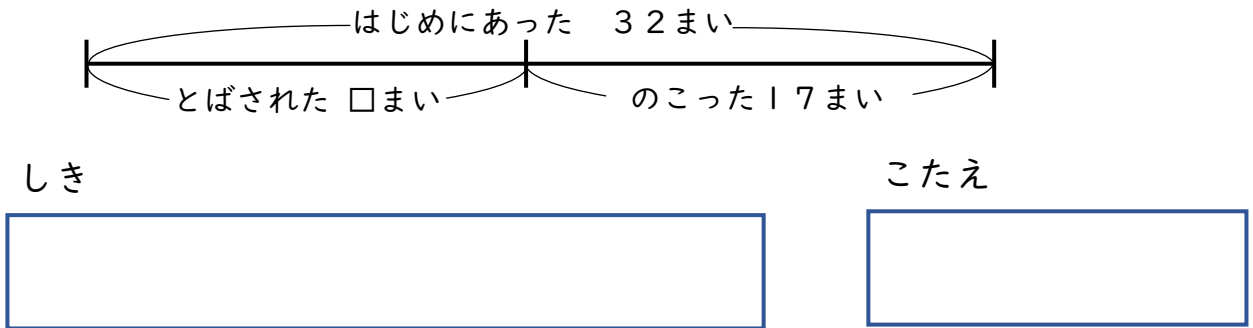
【なくなったのはいくつ？】

😊 めあて：せんぶんずをつかって もんだいを とけるようになろう。

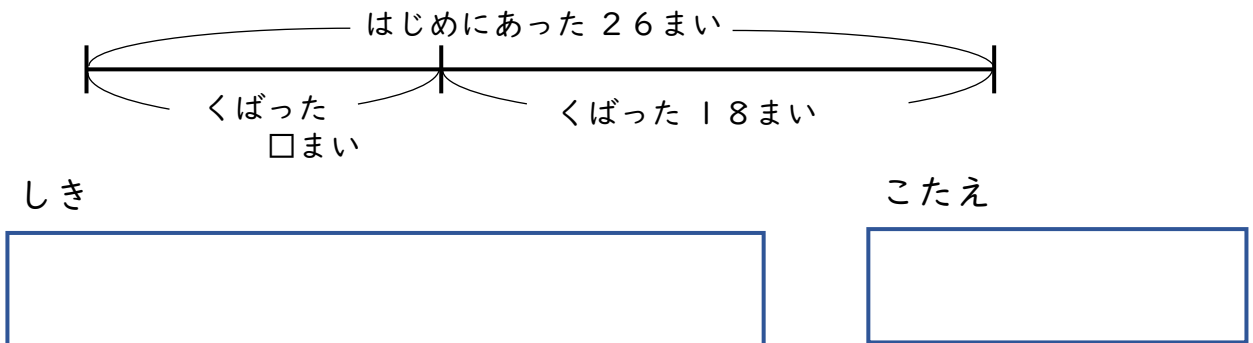
- おもちが 16こ ありました。いくつか たべたので、のこりは 9こ になりました。なんこ たべたでしょう。



- 花びらが 32まい ありました。なんまいか かぜに とばされたので、17まい になりました。なんまい かぜに とばされたでしょう。



- プリントが 26まい ありました。なんまいか くばったので 18まい になりました。くばった プリントは なんまいでしょう。



😊 ふりかえり：せんぶんずをつかって もんだいは とけたかな？

