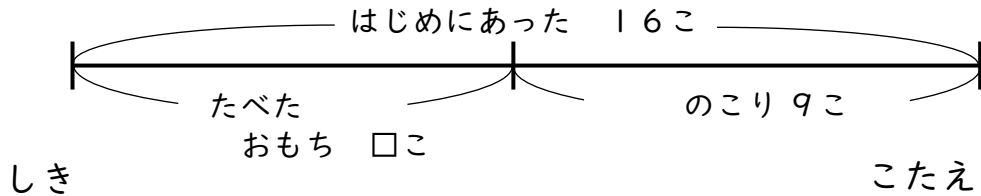


せんぶんず

【なくなったのはいくつ?】

😊 めあて：せんぶんずをつかって もんだいを とけるようになろう。

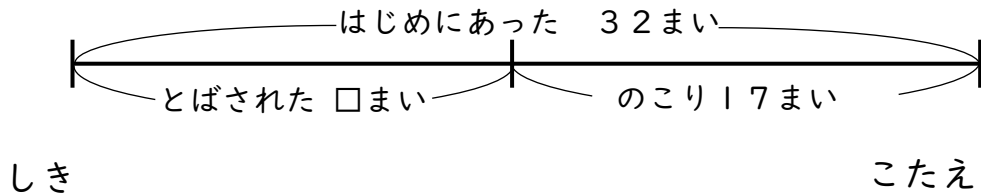
- おもちが 16こ ありました。いくつか たべたので、のこりは 9こ になりました。なんこ たべたでしょう。



$$16 - 9 = 7$$

$$7 \text{ こ}$$

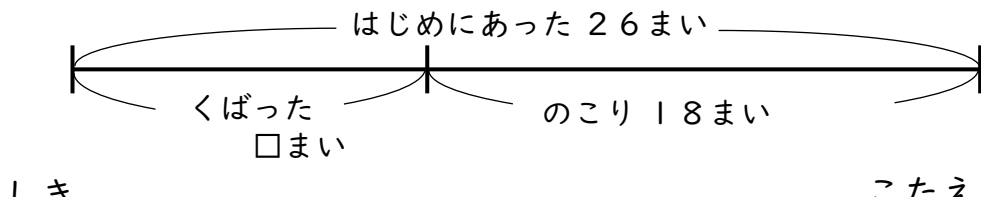
- 花びらが 32まい ありました。なんまいか かぜに とばされたので、17まい になりました。なんまい かぜに とばされたでしょう。



$$32 - 17 = 15$$

$$15 \text{ まい}$$

- プリントが 26まい ありました。なんまいか くばったので 18まい になりました。くばった プリントは なんまいでしょう。



$$26 - 18 = 8$$

$$8 \text{ まい}$$

😊 ふりかえり：せんぶんずをつかって もんだいは とけたかな？