

# 三かくけいと

# 四かくけい

😊 めあて：三かくけいと 四かくけいが どんな かたちか わかるようになるう。

- 三かくけいと 四かくけいの へんと ちようてんのかずを きたえましよう。

三かくけい

へんのかず

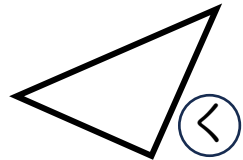
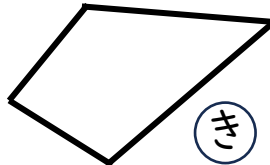
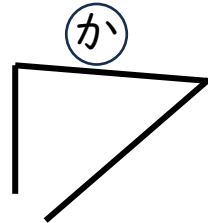
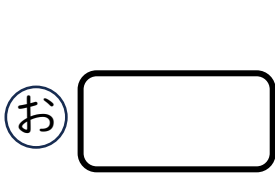
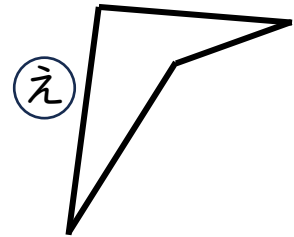
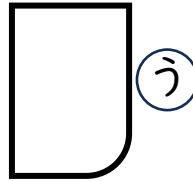
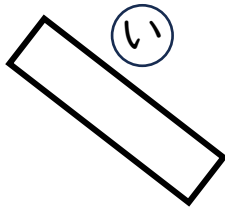
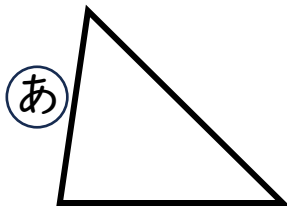
ちようてんのかず

四かくけい

へんのかず

ちようてんのかず

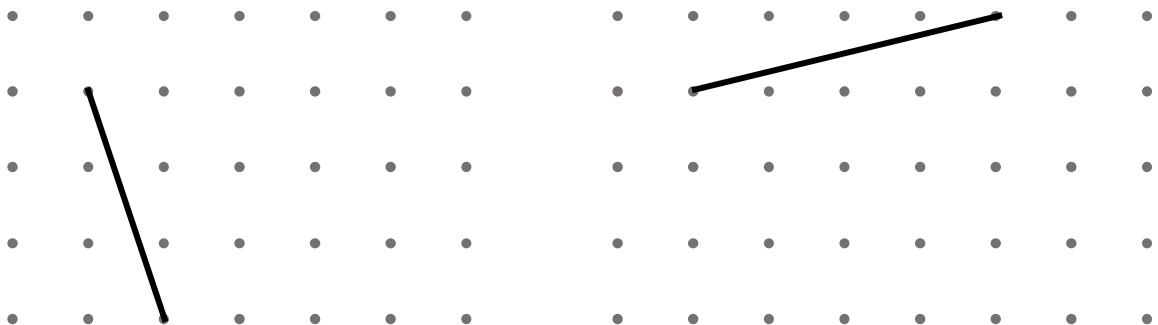
- つぎの かたちの 中から、三かくけいと 四かくけいを すべて さがしましよう。



三かくけい

四かくけい

- へんをたして、三かくけいと 四かくけいを かきましよう。



三かくけい

四かくけい

😊 ふりかえり：三かくけいと 四かくけいは わかったかな？



# ちょうほうけいと 正ほうけい

😊 めあて：ちょうほうけいと 正ほうけいが どんなかたちか わかるようになるう。

● ちょうほうけいと 正ほうけいについて、( )の中の正しいほうに まるをつけましょう。□には ことばを かきましょう。

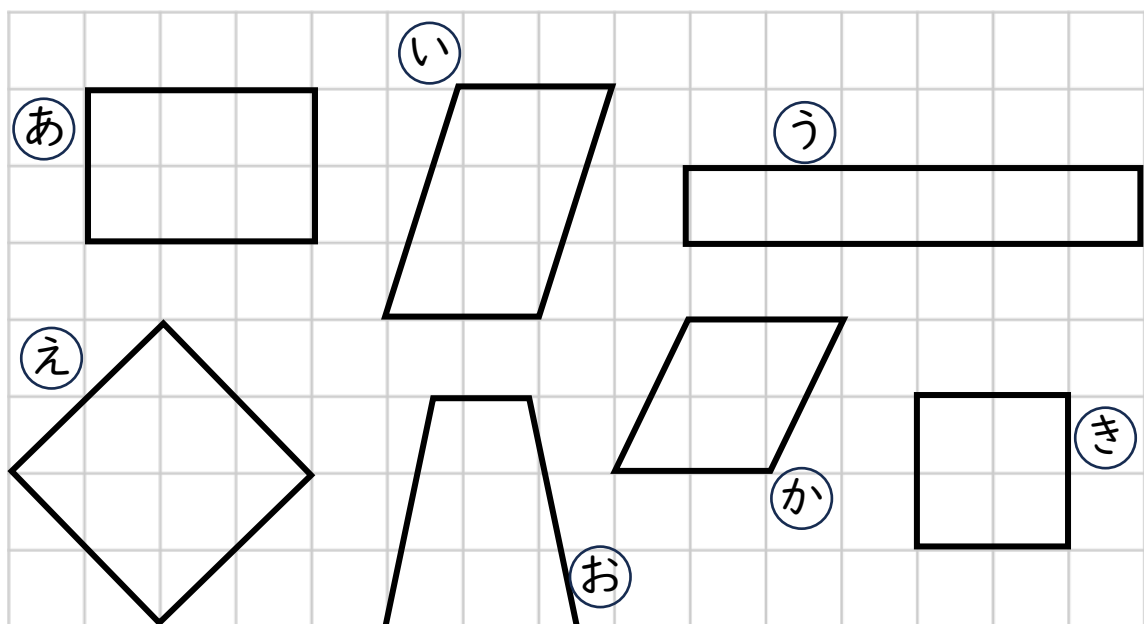
(1) ちょうほうけいと 正ほうけいは  
( 三かくけい・四かくけい ) です。

(2) ちょうほうけいと 正ほうけいの 4つの かどは  
 です。

(3) へんの ながさが すべて おなじ 四かくけいは  
( ちょうほうけい・正ほうけい ) です。

(4) むかいあう へんの ながさが おなじ 四かくけいは  
( ちょうほうけい・正ほうけい ) です。

● つぎの かたちの 中から、ちょうほうけいと 正ほうけいを すべて さがしましょう。



ちょうほうけい

正ほうけい

😊 ふりかえり：ちょうほうけいと 正ほうけいは わかったかな？



# ちよっかく三かくけい

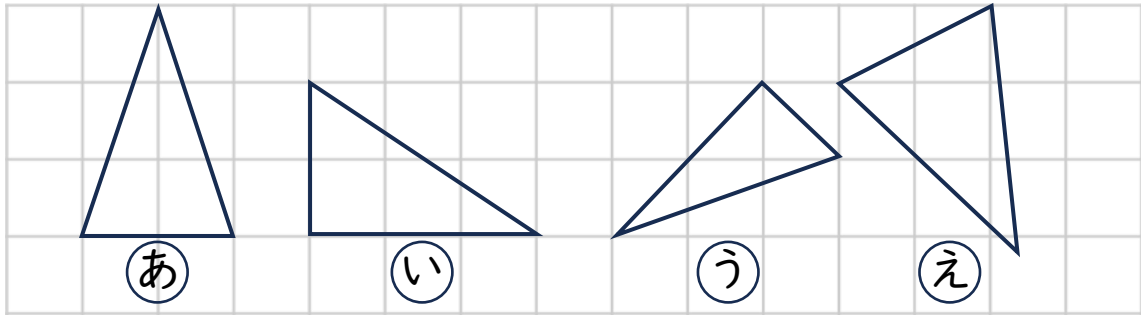
😊 めあて：ちよっかく三かくけいが どんなかたちか わかるようになるう。

● □に ことばを かきましょう。

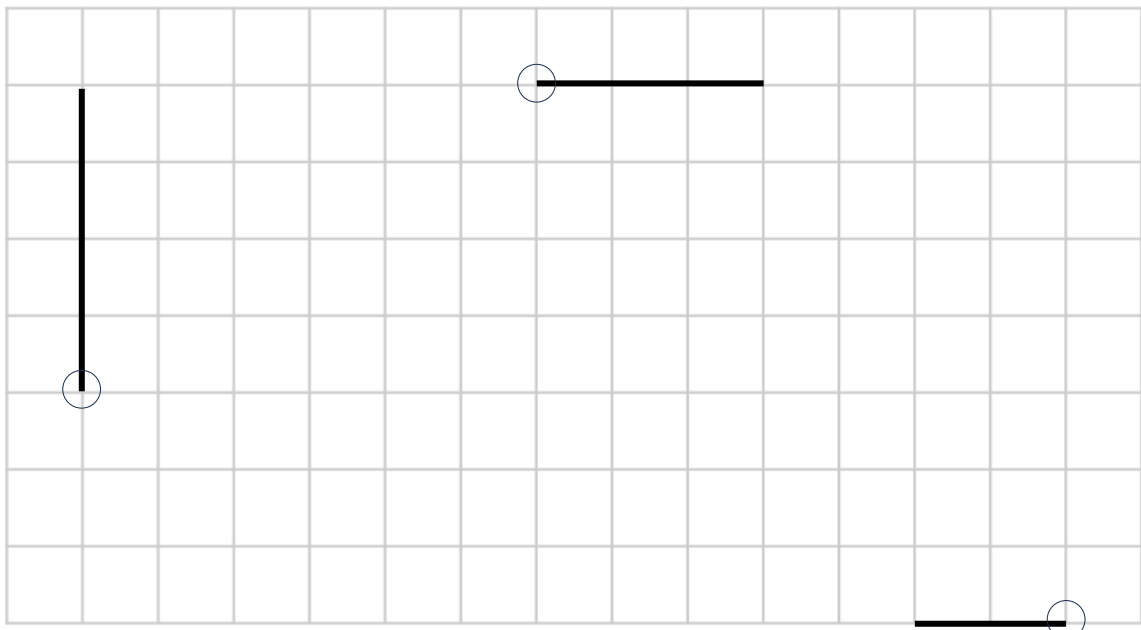
ひとつの ちょうてんが ちよっかくである 三かくけいを

と います。

● つぎの かたちの 中から、ちよかく三かくけいを すべて さがしましょう。



● ○の ちょうてんを ちよっかくにして、ちよっかく三かくけいを かきましょう。



😊 ふりかえり：ちよっかく三かくけいが どんな かたちか わかったかな？

