

はこのかたち

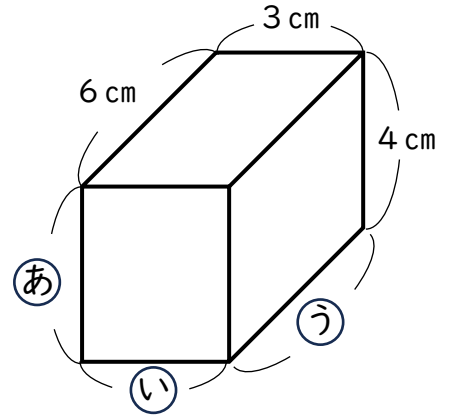
【はこのにもっとくわしくなろう】

😊 めあて：はこの かたちにもっとくわしくなろう。

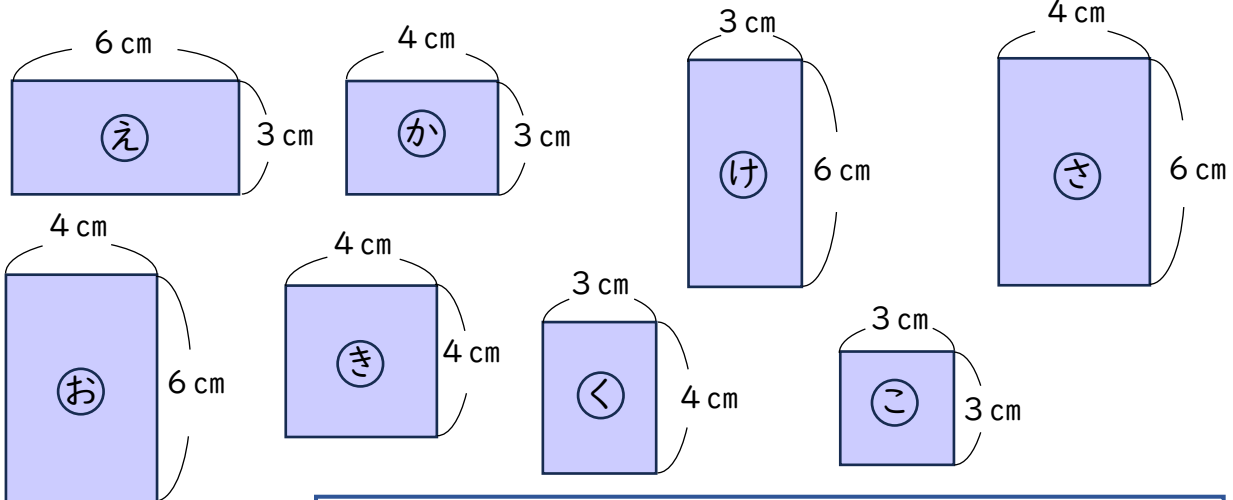
● このかたちをみて、つぎの もんだいに こたえましょう。

(1) ㉑、㉒、㉓ のながさはそれぞれ
なんcm でしょう。

㉑ 4 cm ㉒ 3 cm ㉓ 6 cm

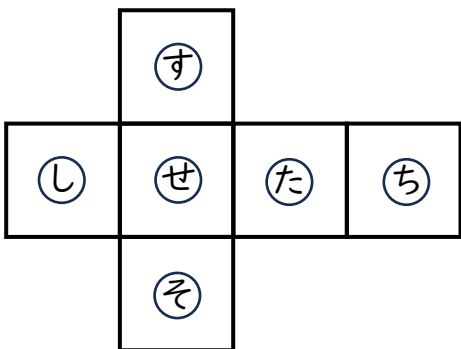


(2) このはこをつくるためにひつような
めんをすべてえらびましょう。



㉔ ㉘ ㉕ ㉙ ㉖ ㉗

● めんをつなげてはこをつくります。それぞれのめんのおかいがわにくるめんをこたえましょう。



㉓ の おかいがわのめん

㉔

㉔ の おかいがわのめん

㉖

😊 ふりかえり：はこのかたちにはくわしくなれたかな？