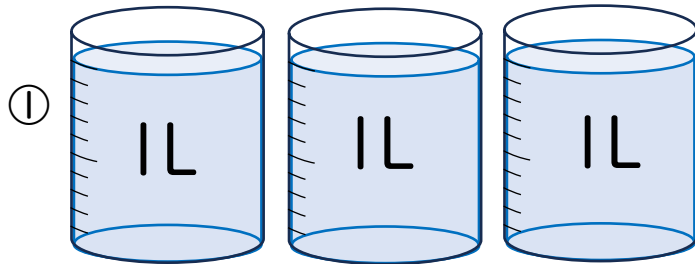
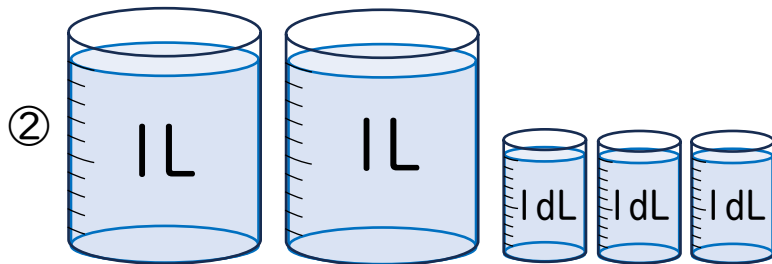
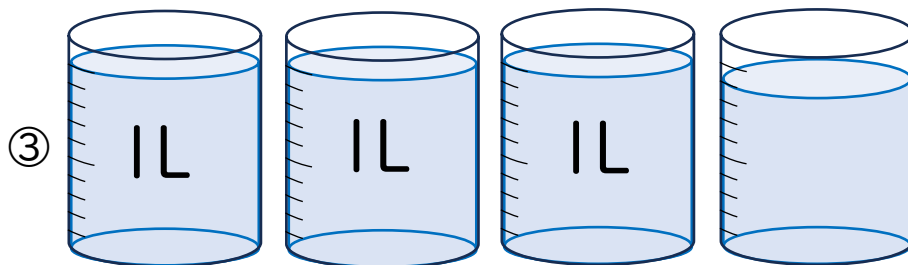


● 水の かさは どれだけでしょう。2つの こたえかたで こたえましょう。


 L

 dL

 L dL

 dL

 L dL

 dL

● □に あてはまる すう字を かきましょう。

① 1 L = dL

② 100 mL = dL

③ 1 L = mL

● つぎの けいさんを しましょう。

① 2L + 5L 3 dL =

② 4L 6 dL - 3L 2 dL =

③ 8L 3 dL + 1L 4 dL =

